

ЗАДАНИЯ РАЙОННОЙ ОЛИМПИАДЫ ПО ГЕОГРАФИИ 9 КЛАСС

Время выполнения задания – 90 минут

Задание 1. Тест.

1. Земная кора и часть верхней мантии образуют?

- A. Атмосферу
- B. Литосферу
- C. Тропосферу
- D. Гидросферу
- E. Астеносферу

2. Столица Сербии:

- A. Братислава
- B. Приштина
- C. Бухарест
- D. Крагуевац
- E. Белград

3. В какую эру сформировались Туранская и Западно-Сибирская плиты на территории Казахстана.

- A. палеозой
- B. мезозой
- C. кайнозой
- D. архей
- E. Протерозой

4. Самая большая область Казахстана по площади территории.

- A. Алматинская
- B. Актюбинская
- C. Туркестанская
- D. Центральная
- E. Карагандинская

5. Как называются высокогорные луга расположенные на высоте 4000 м в Экваториальных Андах в Южной Америке.

- A. жайлау
- B. пуна
- C. тераи
- D. пампа
- E. парамос

6. Океан, пересекаемый всеми меридианами

- A. Северный Ледовитый Океан
- B. Атлантический
- C. Индийский
- D. Тихий

Е. ни один из океанов не пересекается всеми меридианами

7. Укажите показатели определяющие естественный прирост населения.

А. рождаемость, механический прирост

В. рождаемость, уровень смертности

С. сальдо миграции, показатели рождаемости, смертности

Д. количество иммигрантов, количество эмигрантов

Е. агломерация, миграция, уровень рождаемости

8. Какие океаны связывает Панамский канал.

А. Тихий и Индийский

В. Тихий и Северный Ледовитый

С. Тихий и Атлантический

Д. Индийский и Северный Ледовитый

Е. такого канала нет

9. Каражыра-это месторождение ... в Восточном Казахстане

А. меди

В. золота

С. угля

Д. титана

Е. цинка

10. Через какое море Индийского океана прибыл в Индию в 1469 г. Афанасий Никитин?

А. Андаманское

В. Аравийское

С. Красное

Д. Арафурское

Е. Средиземное

11. Если атмосферное давление у подножья гор 780 мм ртутного столба, а на вершине 580 мм рт. ст., то высота вершины будет ... метров.

А. 1000

В. 2000

С. 3000

Д. 4000

Е. 5000

12. Какие страны Африки входят в «Медный пояс».

А. Конго (Заир), Замбия

В. ЮАР, Египет

С. Тунис, Алжир

Д. Ангола, Мадагаскар

Е. в Африке нет меди

13. В состав какого архипелага входит остров Маврикий?

А. Маскаренские острова

В. Острова Зеленого мыса

С. Сейшельские острова

- D. Коморские острова
- E. Острова Мадейра

14. Какое из следующих утверждений об атмосфере является верным?

- A. В верхних слоях атмосферы давление выше, чем в тропосфере
- B. В составе атмосферы кислорода больше, чем азота
- C. Ветер возникает из-за разницы атмосферного давления
- D. В экваториальных широтах преобладает повышенное атмосферное давление.
- E. все ответы верны

15. В Южном полушарии отсутствует зона тайги потому, что там...

- A. везде слишком жаркий климат
- B. везде слишком сухой климат
- C. отсутствуют подзолистые почвы
- D. отсутствуют территории с подходящим климатом
- E. все ответы верны

16. Определите, какие значения может принимать географическая широта:

- A. от 0° до 90°
- B. от 0° до 180° .
- C. от 0° до 360°
- D. между 90° и 270°
- E. от 180° до 360°

17. В каких часовых поясах находится РК?

- A. 3 и 4
- B. 4 и 5
- C. 5 и 6
- D. 1 и 2
- E. 2 и 3

18. Знаменитый ученый, доказавший равенства рас:

- A. Семенов
- B. Колумб
- C. Миклухо-Маклай
- D. Птолемей
- E. Магеллан

19. Вторая по высоте вершина мира (8611 м.)

- A. Канченджанга
- B. Аннапурна
- C. Джаулагири
- D. Чогори
- E. Макалу

20. Когда состоялась первая национальная перепись населения Казахстана:

- A. 1989 г.
- B. 1991 г.
- C. 1995 г.

D. 1999 г.

E. 2001 г.

Критерии оценки: за каждый правильный ответ 1 балл. **Итого 20 баллов!**

Задание 2. Заполните следующую таблицу, также сопоставив с каждым из озёр один из фактов, описанных ниже:

A: На берегу озера велась добыча урана и серебра.

B: Технически, на данный момент это озеро является водохранилищем.

C: В это озеро впадает самая длинная река Европы.

D: Самое длинное пресноводное озеро в мире.

E: Ни один человек ещё не приближался к этому озеру ближе, чем на 4 км.

(Примечание: каждое из озёр является одним из 20 крупнейших по площади в мире.)

№	Название озера	Глубина озера, м	Происхождение	Тип водного баланса (сточное/бессточное)	Количество граничащих стран	Факт
1		1470	Тектоническое	Сточное	4	
2	Большое Медвежье	446		Сточное		
3		1000	Ледниковое	Бессточное	0	
4	Каспийское	1025		Бессточное	5	
5		84	Тектоническое	Сточное	3	

Критерии оценивания: по 1 баллу за каждую правильно заполненную ячейку. **Итого: 11 баллов!**

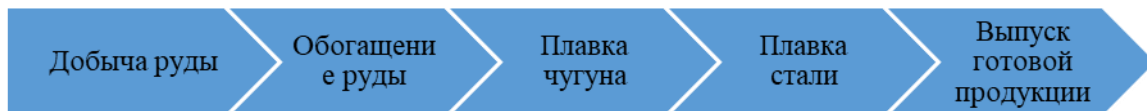
Задание 3. Вычислите коэффициент увлажнения 5 регионов и определите тип увлажнения.

- 1) Годовое количество осадков – 450 мм
Величина испаряемости – 1200 мм
- 2) Годовое количество осадков – 737 мм
Величина испаряемости – 820 мм
- 3) Годовое количество осадков – 680 мм
Величина испаряемости – 489 мм
- 4) Годовое количество осадков – 388 мм
Величина испаряемости – 379 мм
- 5) Годовое количество осадков – 550 мм
Величина испаряемости – 230 мм

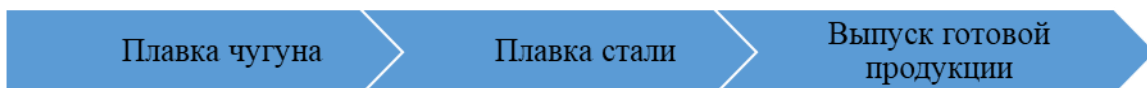
Критерии оценки: За каждый верно указанный коэффициент и тип увлажнения по 1 баллу. **Итого 10 баллов.**

Задание 4. Укажите к какому типу заводов относятся данные вам циклы.

1. _____



2. _____



3. _____



Критерии оценки: За каждый правильный ответ по 3 балла. **Итого 9 баллов.**

ИТОГО 50 БАЛЛОВ!

**ГЕОГРАФИЯДАН АУДАНДЫҚ ОЛИМПИАДА ТАПСЫРМАЛАРЫ.
9 СЫНЫП**

Тапсырманы орындау уақыты – 90 минут

Тапсырма 1. Тест.

1. Жер қыртысы мен мантияның жоғарғы қабаты?

- A. Атмосфера
- B. Литосфера
- C. Тропосфера
- D. Гидросфера
- E. Астеносфера

2. Сербияның астанасы:

- A. Братислава
- B. Приштина
- C. Бухарест
- D. Крагуевац
- E. Белград

3. Қазақстан территориясында Тұран және Бастыс Сібір тақталары қай дәуірде қалыптасты?

- A. палеозой
- B. мезозой
- C. кайнозой
- D. архей
- E. протерозой

4. Қазақстандағы жер көлемі бойынша ең үлкен облыс:

- A. Алматы
- B. Ақтөбе
- C. Түркістан
- D. Орталық
- E. Қарағанды

5. Оңтүстік Америкадағы Экваторлық Анд тауларында 4000 метр биіктікте орналасқан биік таулы шалғындар қалай аталады?

- A. жайлау
- B. пуна
- C. тераи
- D. пампа
- E. парамос

6. Барлық меридиандар кесіп өтетін мұхит:

- A. Солтүстік Мұзды мұхит
- B. Атлант
- C. Үнді
- D. Тынық

- Е. ешқандай мұхитты барлық меридиандар кесіп өтпейді
7. Халықтың табиғи өсімін анықтайтын көрсеткіштерді анықтаңыз:
- А. туу көрсеткіші, табиғи өсім
 - В. туу және өлім - жітім көрсеткіші
 - С. миграция сальдосы, туу және өлім - жітім көрсеткіші
 - Д. иммигранттар саны, эмигранттар саны
 - Е. агломерация, миграция, туу көрсеткіші
8. Панама каналы қандай мұхиттарды байланыстырады:
- А. Тынық және Үнді
 - В. Тынық және Солтүстік Мұзды
 - С. Тынық және Атлант
 - Д. Үнді және Солтүстік Мұзды
 - Е. мұндай канал жоқ
9. Қаражыра – Шығыс Қазақстандағы кен орны.
- А. мыс
 - В. алтын
 - С. көмір
 - Д. титан
 - Е. мырыш
10. 1469 жылы Афанасий Никитин Үнді мұхитының қай теңізі арқылы Үндістанға келді?
- А. Андаман
 - В. Арабия
 - С. Қызыл
 - Д. Арафур
 - Е. Жерорта
11. Егер атмосфералық қысым тау етегінде 780 мм- сынап бағанына, ал тау шыңында 580 мм сынап бағанына тең болса, онда шыңның биіктігі метр.
- А. 1000
 - В. 2000
 - С. 3000
 - Д. 4000
 - Е. 5000
12. «Мыс белдеуіне» Африканың қандай елдері кіреді.
- А. Конго (Заир), Замбия
 - В. ОАР, Египет
 - С. Тунис, Алжир
 - Д. Ангола, Мадагаскар
 - Е. Африкада мыс жоқ
13. Маврикий аралы қандай архипелаг құрамына жатады?
- А. Маскарен аралдары
 - В. Жасыл мүйіс аралдары
 - С. Сейшель аралдары
 - Д. Комор аралдары
 - Е. Мадейра аралдары

14. Атмосфера туралы төмендегі тұжырымдардың қайсысы дұрыс?
- A. Атмосфераның жоғарғы қабаттарындағы қысым тропосфераға қарағанда жоғары
 - B. Атмосфера құрамында азотқа қарағанда оттегі көп
 - C. Жел атмосфералық қысымның айырмашылығынан туындайды
 - D. Экваторлық ендіктерде атмосфералық қысым жоғары
 - E. барлық жауаптар дұрыс
15. Оңтүстік жарты шарда тайга зонасы жоқ, өйткені ол жерде ...
- A. барлық жерде климат өте ыстық
 - B. барлық жерде климат тым құрғақ
 - C. ақшыл сұрғылт түсті түсті топырақ жоқ
 - D. қолайлы климаты бар аймақтар жоқ
 - E. барлық жауаптар дұрыс
16. Географиялық ендік қандай мәндерді қабылдай алатынын анықтаңыз:
- A. 0° - тан 90° - қа дейін
 - B. 0° - тан до 180° - қа дейін
 - C. 0° - тан 360° - қа дейін
 - D. 90° және 270° аралығында
 - E. 180° - тан 360° - қа дейін
17. ҚР қай сағат белдеуінде орналасқан?
- A. 3 және 4
 - B. 4 және 5
 - C. 5 және 6
 - D. 1 және 2
 - E. 2 және 3
18. Нәсілдердің теңдігін дәлелдеген атақты ғалым:
- A. Семенов
 - B. Колумб
 - C. Миклухо-Маклай
 - D. Птолемей
 - E. Магеллан
19. Әлемдегі екінші ең биік шың (8611 м.)
- A. Канченджанга
 - B. Аннапурна
 - C. Джаулагири
 - D. Чогори
 - E. Макалу
20. Қазақстанда алғашқы ұлттық халық санағы қашан өтті:
- A. 1989 ж.
 - B. 1991 ж.
 - C. 1995 ж.
 - D. 1999 ж.
 - E. 2001 ж.

Бағалау критерийлері: әр дұрыс жауапқа 1 ұпай. **Барлығы 20 ұпай!**

Тапсырма 2. Кестені, төмендегі фактілерді әлем көлдерімен сәйкестендіріп толтырыңыз.

A: Көл жағасынан уран мен күміс өндірілген.

B: Техникалық тұрғыдан бұл көл қазір су қоймасы болып табылады.

C: Еуропадағы ең ұзын өзен осы көлге құяды.

D: Дүние жүзіндегі ең ұзын тұщы көл.

E: Адамдар бұл көлге 4 км-ден жақын келмеген.

(Ескерту: Көлдердің әрқайсысы көлемі бойынша әлемдегі ең үлкен 20 көлдің бірі болып табылады.)

№	Көл атауы	Тереңдегі, м	Қалыптасуы	Су режимі	Шектесетін мемлекеттер саны	Факт
1		1470	Тектоникалық	Ағынды	4	
2	Үлкен Аюлы	446		Ағынды		
3		1000	Мұздықтық	Ағынсыз	0	
4	Каспий	1025		Ағынсыз	5	
5		84	Тектоникалық	Ағынды	3	

Бағалау критерийлері: әр дұрыс толтырылған ұяшық үшін 1 ұпайдан. **Барлығы: 11 ұпай!**

Тапсырма 3. Сізге берілген 5 аймақтың ылғалдылық коэффициентін есептеп, ылғалдың түрін анықтаңыз.

- 6) Жылдық жауын-шашын мөлшері - 450 мм
Булану мәні - 1200 мм
- 7) Жылдық жауын-шашын мөлшері – 737 мм
Булану мәні – 820 мм
- 8) Жылдық жауын-шашын мөлшері – 680 мм
Булану мәні – 489 мм
- 9) Жылдық жауын-шашын мөлшері – 388 мм
Булану мәні – 379 мм
- 10) Жылдық жауын-шашын мөлшері – 550 мм
Булану мәні – 230 мм

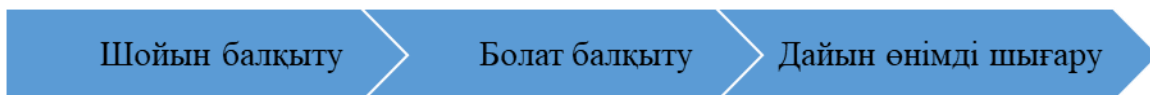
Бағалау критерийлері: Әрбір дұрыс көрсетілген коэффициент пен ылғалдылық түрін анықтағаны үшін 1 ұпайдан. **Барлығы 10 ұпай.**

Тапсырма 4. Сізге берілген циклдар қай зауыт түріне жататынын көрсетіңіз.

4. _____



5. _____



6. _____



Бағалау критерийлері: Әр дұрыс жауап үшін 3 ұпайдан. **Барлығы 9 ұпай.**

БАРЛЫҒЫ 50 ҰПАЙ!