

ЗАДАНИЯ РАЙОННОЙ ОЛИМПИАДЫ ПО ГЕОГРАФИИ 11 КЛАСС

Время выполнения задания – 90 минут

Задание 1. Тест.

1. Какой из данных минералов нельзя встретить в составе гранита?
 - A. Оливин
 - B. Плагиоклаз (полево шпат)
 - C. Кварц
 - D. Роговая обманка
 - E. Мусковит

2. Как сила Кориолиса влияет на движущиеся объекты в Северном полушарии?
 - A. Отклоняет влево
 - B. Отклоняет вправо
 - C. Действует против направления их движения
 - D. Действует по направлению их движения
 - E. Оставляет без изменений

3. Какой из данных языков не входит в семитскую группу?
 - A. Ассирийский
 - B. Мальтийский
 - C. Амхара
 - D. Турецкий
 - E. Иврит

4. Какой из данных периодов не входит в палеозой?
 - A. Палеоген
 - B. Каменноугольный (карбон)
 - C. Пермь
 - D. Девон
 - E. Ордовик

5. В какой стране находится биогеографический регион каатинга?
 - A. Венесуэла
 - B. Танзания
 - C. Папуа-Новая Гвинея
 - D. Бразилия
 - E. Перу

6. В какой стране Южной Америки наибольшая продолжительность жизни?
 - A. Чили
 - B. Перу
 - C. Аргентина
 - D. Коста-Рика
 - E. Бразилия

7. Оксиды каких металлов преобладают в ферралитных почвах?
 - A. Zn, Li
 - B. Al, Fe
 - C. Al, Hg

- D. Si, Fe
- E. Sn, Pb

8. Назовите тектоническую плиту, не относящуюся к крупнейшим:
- A. Хуан-де-Фука
 - B. Наска
 - C. Адриатическая
 - D. Кокос
 - E. Скоша
9. Вторичный сектор экономики включает в себя:
- A. Управление и наука
 - B. Услуги и транспорт
 - C. Перерабатывающая и обрабатывающая промышленность
 - D. Торговля и связь
 - E. Природоэксплуатирующие отрасли
10. В какой области (не учитывая городов республиканского значения) наблюдается самый высокий показатель ВРП?
- A. Алматинская
 - B. Акмолинская
 - C. Мангистауская
 - D. Карагандинская
 - E. Атырауская
11. В каком городе расположена штаб-квартира Организации Североатлантического договора?
- A. Вашингтон
 - B. Осло
 - C. Женева
 - D. Брюссель
 - E. Ванкувер
12. Самая ресурсобеспеченная страна:
- A. Россия
 - B. США
 - C. Китай
 - D. Бразилия
 - E. Австралия
13. Страны, контролирующие большую часть мирового производства пальмового масла (более 85%)?
- A. Бразилия, Индия
 - B. Индонезия, Малайзия
 - C. Китай, Таиланд
 - D. Колумбия, Нигерия
 - E. Россия, Испания
14. Назовите страну по официальным языкам: пушту, дари:
- A. Иран
 - B. Ирак
 - C. Непал

- D. Афганистан
- E. Пакистан

15. К какому экономико-географическому типу государств относится ЮАР?

- A. странам «переселенческого» капитализма
- B. среднеразвитым странам
- C. проблемным странам
- D. главным капиталистическим странам
- E. индустриальным странам

16. Высшая точка Северной Америки, г. Мак-Кинли, расположена в горах, названных в честь русского мореплавателя, немца по происхождению. Как именно?

- A. Горы Коцебу
- B. Горы Врангеля
- C. Горы Гагемейстера
- D. Горы Литке
- E. Горы Афанасия Никитина

17. В каких из этих городов часовой пояс такой же, как и в Мельбурне?

- A. Пекин, Китай
- B. Коломбо, Шри-Ланка
- C. Дакка, Бангладеш
- D. Джакарта, Индонезия
- E. Порт-Морсби, Папуа-Новая Гвинея

18. Самая высокая точка Карпат называется:

- A. Молдовяну
- B. Пьетрос
- C. Герлаховскиштит
- D. Говерла
- E. Карпаты

19. Между Евразией и Австралией протянулись острова самого крупного архипелага Земли:

- A. Бисмарка
- B. Маршалловы
- C. Марианские
- D. Малайские
- E. Гильберта

20. Альпийские луга в горах Казахского Алтая начинаются с высоты:

- A. 2400 м
- B. 3500 м
- C. 4000 м
- D. 1000 м
- E. 1500 м

Критерии оценки: За каждый правильный ответ 1 балл. **Итого 20 баллов!**

Задание 2. Ответьте на вопросы.

Эта страна (1) находится в Южном полушарии и омывается водами крупнейшего океана (2). Население этой страны практически такое же по численности, как в Казахстане. Север страны малонаселен, тут находится самая сухая в мире пустыня (3) и огромные месторождения главного экспортного товара страны (4), она занимает 1-е место в мире по его экспорту. В южной части преобладают влажные леса умеренного пояса. Страна сильно вытянута вдоль морского побережья и высоких гор (5). Этой стране также принадлежит остров в Тихом океане (6) с хорошо сохранившимися большими каменными статуями (7). Эта страна имеет претензии на часть территории другого материка (8), которая, однако, не признается другими странами.

Назовите:

- 1) Страну (1 б)
- 2) Океан (1 б)
- 3) Пустыню (1 б)
- 4) Экспортный товар (2 балла)
- 5) Горную цепь (1 б)
- 6) Тихоокеанский остров (1 б)
- 7) Название статуй (1 б)
- 8) Другой материк (1 б)
- 9) На каком языке говорят в этой стране? (1 б)

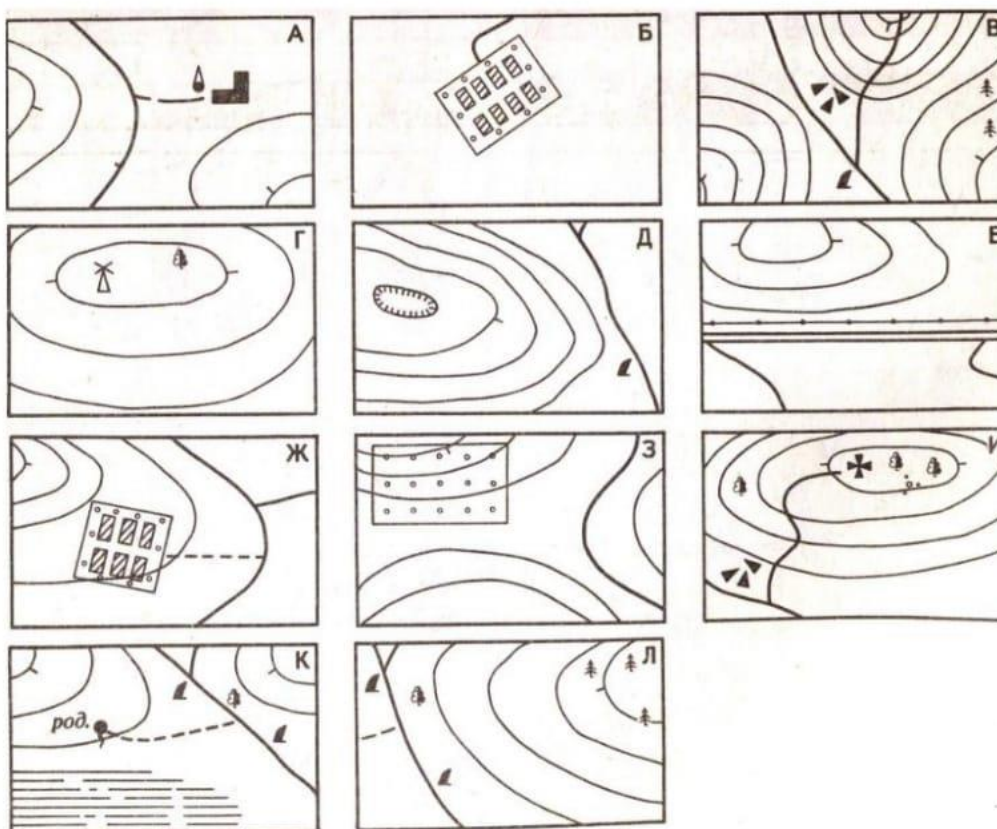

Критерии оценки: За каждый правильный ответ по 1 баллу, за правильный ответ на вопрос №4 - 2 балла. **Итого 10 баллов!**

Задание 3. Вам даны официальное название городов и их неофициальные аналоги. Соотнесите их к друг другу.

Париж	Город на семи холмах
Рим	Город трех религий
Москва	Мать городов русских
Иерусалим	«Третий Рим»
Нур-Султан (Астана)	Город света
Санкт-Петербург	Город возле бухты
Киев	Византий
Сидней	Город мира
Стамбул	Северная Венеция

Критерии оценки. За правильно указанное соответствие по 1 баллу. **Итого 9 баллов!**

Задание 4. Установите соответствие между изображением объектов на рисунке и на топографической карте.



Критерии оценки: За каждый правильный ответ по 1 баллу. Итого 11 баллов.

ИТОГО 50 БАЛЛОВ!

ГЕОГРАФИЯДАН АУДАНДЫҚ ОЛИМПИАДА ТАПСЫРМАЛАРЫ.

11 СЫНЫП

Тапсырманы орындау уақыты – 90 минут

Тапсырма 1. Тест.

1. Төмендегі минералдардың қайсысы гранит құрамында кездеспейді?
 - A. Оливин
 - B. Плагиоклаз (полевоы шпат)
 - C. Кварц
 - D. Мүйізалдамыш (роговая обманка)
 - E. Мусковит
2. Кориолис күші Солтүстік жарты шарда қозғалатын нысандарға қалай әсер етеді?
 - A. Солға ауытқытады
 - B. Оңға ауытқытады
 - C. Олардың қозғалыс бағытына қарсы әрекет етеді
 - D. Олардың қозғалыс бағыты бойынша әрекет етеді
 - E. Өзгеріссіз қалдырады
3. Төмендегі тілдердің қайсысы семит тобына жатпайды?
 - A. Ассириялық
 - B. Мальта
 - C. Амхара
 - D. Түрік
 - E. Иврит
4. Осы кезеңдердің қайсысы палеозойға жатпайды?
 - A. Палеоген
 - B. Тас көмір (карбон)
 - C. Пермь
 - D. Девон
 - E. Ордовик
5. Катинга биогеографиялық аймағы қай елде орналасқан?
 - A. Венесуэла
 - B. Танзания
 - C. Папуа-Жаңа Гвинея
 - D. Бразилия
 - E. Перу
6. Оңтүстік Американың қай елінде өмір сүру ұзақтығы ең жоғары?
 - A. Чили
 - B. Перу
 - C. Аргентина
 - D. Коста-Рика
 - E. Бразилия
7. Ферралиттік топырақта қандай металлдардың оксидтері басым болады?
 - A. Zn, Li
 - B. Al, Fe
 - C. Al, Hg

D. Si, Fe

E. Sn, Pb

8. Төмендегі тізімнен ірі тектоникалық тақталарға жатпайтын, тектоникалық тақтаны табыңыз:

A. Хуан-де-Фука

B. Наска

C. Адриаттық

D. Кокос

E. Скоша

9. Экономиканың екінші қайталама секторына мыналар жатады:

A. Басқару және ғылым

B. Қызмет көрсету және көлік

C. Қайта өндіру және өңдеу өнеркәсібі

D. Сауда және байланыс

E. Табиғатты пайдаланушы бағыттар

10. ЖАӨ ең жоғары көрсеткіші қай облыста (республикалық маңызы бар қалаларды қоспағанда) байқалады?

A. Алматы

B. Ақмола

C. Маңғыстау

D. Қарағанды

E. Атырау

11. Солтүстік Атлантикалық Келісім Ұйымының штаб-пәтері қай қалада орналасқан?

A. Вашингтон

B. Осло

C. Женева

D. Брюссель

E. Ванкувер

12. Ең көп ресурспен қамтамасыз етілген ел:

A. Ресей

B. АҚШ

C. Қытай

D. Бразилия

E. Аустралия

13. Дүние жүзіндегі пальма майы өндірісінің көп бөлігін бақылайтын елдер (85%-дан астам)?

A. Бразилия, Үндістан

B. Индонезия, Малайзия

C. Қытай, Таиланд

D. Колумбия, Нигерия

E. Ресей, Испания

14. Ресми тілдері пушту, дари болып табылатын елді табыңыз:

A. Иран

B. Ирак

C. Непал

- D. Ауғанстан
- E. Пәкістан

15. ОАР қандай экономикалық-географиялық мемлекеттер типіне жатады?

- A. «өтпелі» капитализм елдер
- B. орташа дамыған елдер
- C. проблемалы елдер
- D. жетекші капиталистік елдер
- E. индустриалды елдер

16. Солтүстік Американың ең биік нүктесі Мак-Кинли тауы, неміс ұлтынан шыққан, орыстың теңіз саяхатшысы құрметіне аталған тауда орналасқан. Ол қандай тау?

- A. Коцебу таулары
- B. Врангеля таулары
- C. Гагемейстер таулары
- D. Литке таулары
- E. Афанасий Никитин таулары

17. Осы қалалардың қайсысының уақыт белдеуі Мельбурнмен бірдей?

- A. Пекин, Қытай
- B. Коломбо, Шри-Ланка
- C. Дакка, Бангладеш
- D. Джакарта, Индонезия
- E. Порт-Морсби, Папуа-Жаңа Гвинея

18. Карпаттың ең биік нүктесі қалай аталады:

- A. Молдовяну
- B. Пьетрос
- C. Герлаховскиштит
- D. Говерла
- E. Карпаты

19. Еуразия мен Аустралияның арасында Жердегі ең үлкен архипелагтың аралдары созылып жатыр:

- A. Бисмарк
- B. Маршаллов
- C. Мариан
- D. Малай
- E. Гильберт

20. Алтай тауларындағы альпі шалғындары биіктен басталады.

- A. 2400 м
- B. 3500 м
- C. 4000 м
- D. 1000 м
- E. 1500 м

Бағалау критерийлері: Әр дұрыс жауапқа 1 ұпай. **Барлығы 20 ұпай!**

Тапсырма 2. Сұрақтарға жауап беріңіз.

Бұл ел (1) Оңтүстік жарты шарда орналасқан және ең үлкен мұхиттың (2) суларымен шайылады. Бұл елдегі халық саны жағынан Қазақстандағыдай дерлік. Елдің солтүстігінде халық аз қоныстанған, дүние жүзіндегі ең құрғақ шөл (3) және елдің негізгі экспорттық тауарының орасан зор кен орындары (4) бар, ол өз экспорты бойынша әлемде бірінші орында. Оңтүстік бөлігінде қоңыржай тропикалық ормандар басым. Ел теңіз жағалауы мен биік таулар бойымен қатты созылған (5). Бұл елде Тынық мұхитында (6) жақсы сақталған үлкен тас мүсіндері (7) бар арал да бар. Бұл елдің басқа континент территориясының бір бөлігіне талаптары бар (8), бірақ оны басқа елдер мойындамайды.

Сұрақтар:

- 1) Қай ел?
- 2) Қай мұхит?
- 3) Қандай шөл?
- 4) Экспорттық тауар атауы?
- 5) Тау сілемінің атауы?
- 6) Тынық мұхитындағы арал атауы?
- 7) Мүсіндердің аты?
- 8) Басқа материк?
- 9) Бұл елде қай тілде сөйлейді?

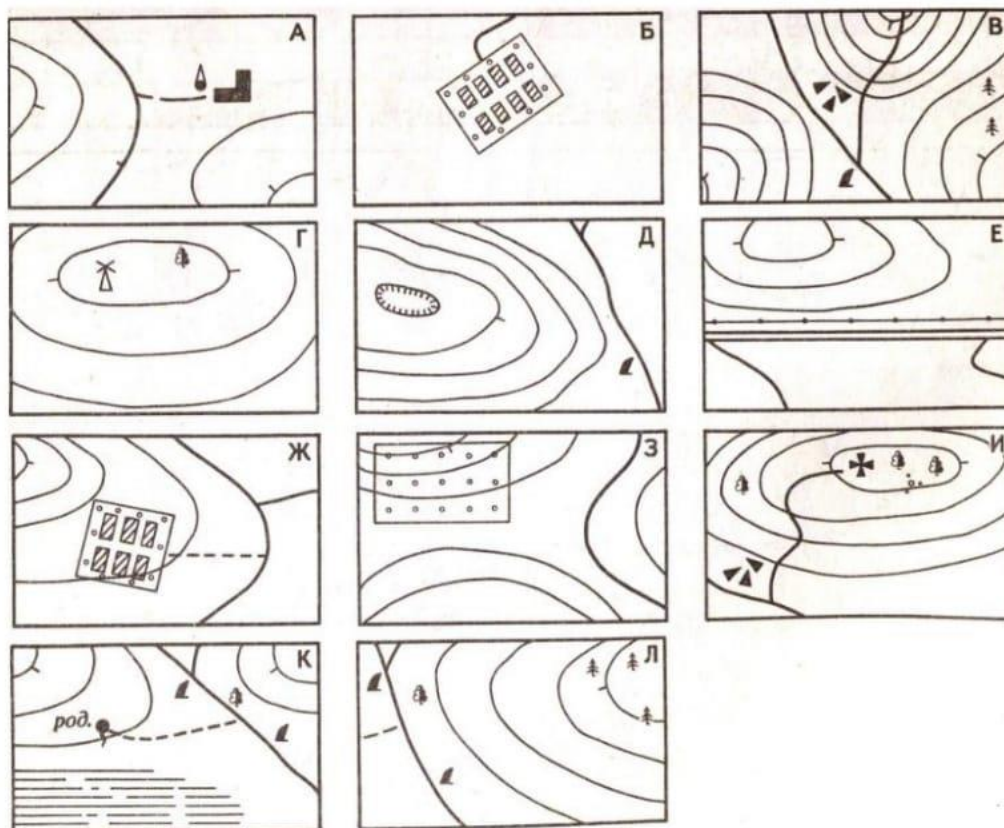

Бағалау критерийлері: Әрбір дұрыс жауапқа 1 ұпайдан, №4 сұраққа дұрыс жауап бергені үшін – 2 ұпай. **Барлығы 10 ұпай!**

Тапсырма 3. Сізге қалалардың ресми атаулары және олардың бейресми нұсқалары берілген. Оларды бір-бірімен сәйкестендіріңіз.

Париж	Жеті төбедегі қала
Рим	Үш дін қаласы
Мәскеу	Орыс қалаларының анасы
Иерусалим	«Үшінші Рим»
Нұр-Сұлтан (Астана)	Жарық қаласы
Санкт-Петербург	Шығанақ маңындағы қала
Киев	Византий
Сидней	Бейбітшілік қаласы
Стамбұл	Солтүстік Венеция

Бағалау критерийлері. Әр дұрыс сәйкестік үшін 1 ұпайдан. **Барлығы 9 ұпай!**

Тапсырма 4. Суреттегі және топографиялық картадағы объектілердің кескіні арасындағы сәйкестікті орнатыңыз.



Бағалау критерийлері: Әр дұрыс жауап үшін 1 ұпайдан. Барлығы 11 ұпай.

БАРЛЫҒЫ 50 ҰПАЙ!