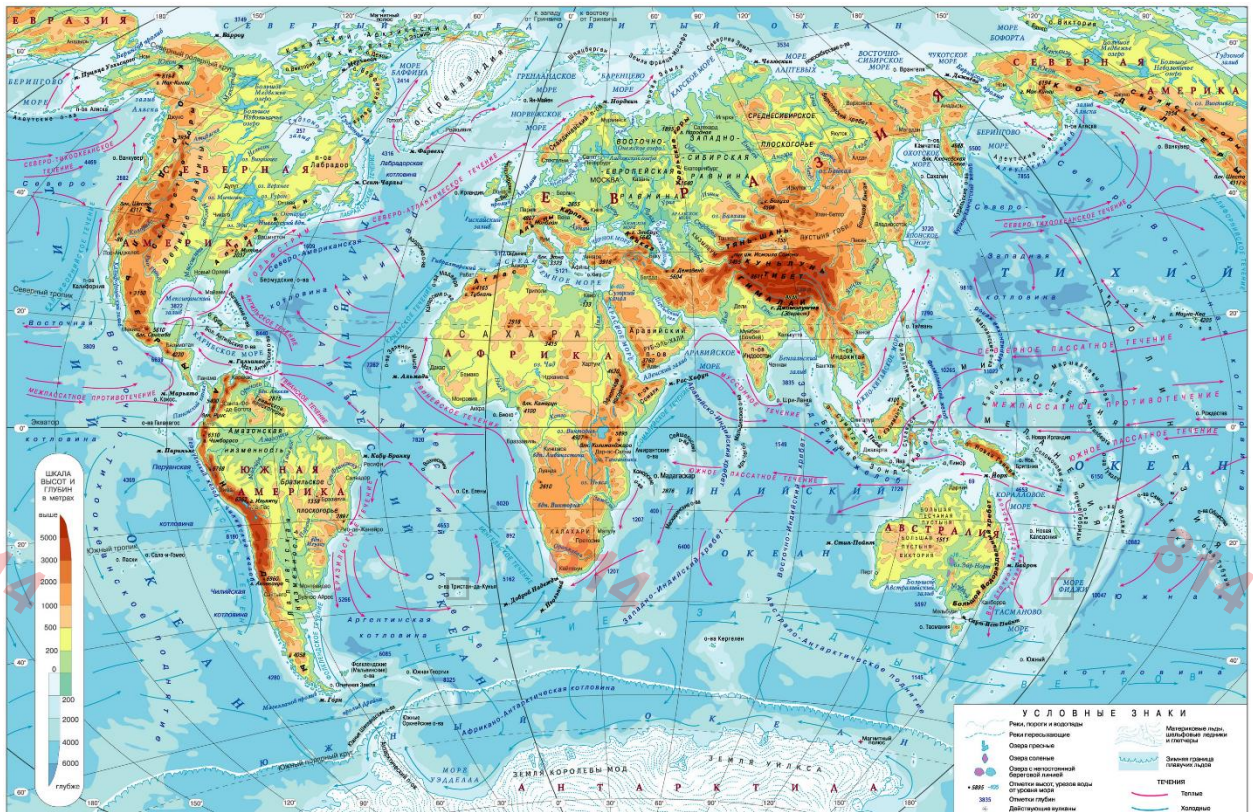




9 СЫНЫП
2 (практикалық) тур

Тапсырма 1. Төменде берілген картада 5 географиялық нысан жоқ. Оларды табыңыз.



Бағалау критерийлері: әр дұрыс табылған нысанға 2 ұпай. Барлығы 10 ұпай.

Задание 2. Кестедегі бос орындарды толтырыңыз.

№	Қала халқы, %	Жалпы халқы, чел.	Территория ауданы, м ²	Ауыл халқы тығыздығы
1.	70	<input type="checkbox"/>	125 200	1,09 <input type="checkbox"/>
2.		1 256 870	427 567	1,02
3.	87	567 892		62,5
4.	46		96 679	3,58
5.	78	126 893	37 521	

Бағалау критерийлері: әр дұрыс жауапқа 2 ұпай. Барлығы 10 ұпай



Тапсырма 3. Сізге Қазақстанның 15 географиялық объектісі берілген. Олардың қай табиғи аймақта орналасқанын көрсетіңіз.

1. Тамғалы Тас
2. Бурабай
3. Қаратау
4. Ақсоран шыңы
5. Жасыбай көлі
6. Сасықкөл көлі
7. Маңғышлақ түбегі
8. Меркі түріктердің қасиетті орны
9. Үлкен Борсұқ құмдары
10. Құланды түбегі
11. Шаған тоғайы
12. Шағырай үстірті
13. Сарыесік-Атырау құмдары
14. Шағлытеніз көлі
15. Беғазы-Дәндібай кесенелері

Бағалау критерийлері: әр дұрыс жауап үшін 1 ұпай. Барлығы - 15 ұпай.

Тапсырма 4. Сізге пайдалы қазбалар орындары сандармен белгіленген Қазақстан облыстарының контурлық карталары берілген. Облыстар мен кен орындарының атауын анықтаңыз.

Облыс №1.



География пәні бойынша Республикалық олимпиаданың 3-ші кезеңі 2020-2021 Қазақстан,

23 ақпан 2021, Ұзақтығы: 2,5 сағат (150 минут)

814

814

814



814

814

814

Облыс №2



814

814

814

Облыс №3



География пәні бойынша Республикалық олимпиаданың 3-ші кезеңі 2020-2021 Қазақстан,

23 ақпан 2021, Ұзақтығы: 2,5 сағат (150 минут)



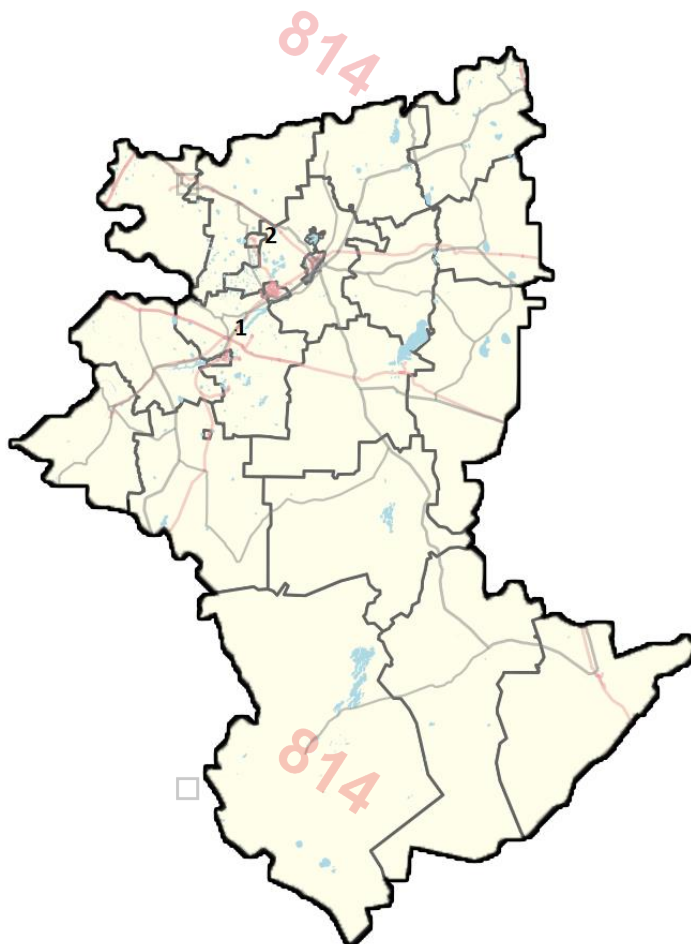
Облыс №4





География пәні бойынша Республикалық олимпиаданың 3-ші кезеңі 2020-2021 Қазақстан,

23 ақпан 2021, Ұзақтығы: 2,5 сағат (150 минут)



Облыс №5





География пәні бойынша Республикалық олимпиаданың 3-ші кезеңі 2020-2021 Қазақстан,

23 ақпан 2021, Ұзақтығы: 2,5 сағат (150 минут)

Бағалау критерийлері: әрбір пайдалы қазбалар орны мен облыс атауын дұрыс анықтағаныңыз үшін 1 ұпай. Барлығы 15 ұпай.

БАРЛЫҒЫ 50 ҰПАЙ!



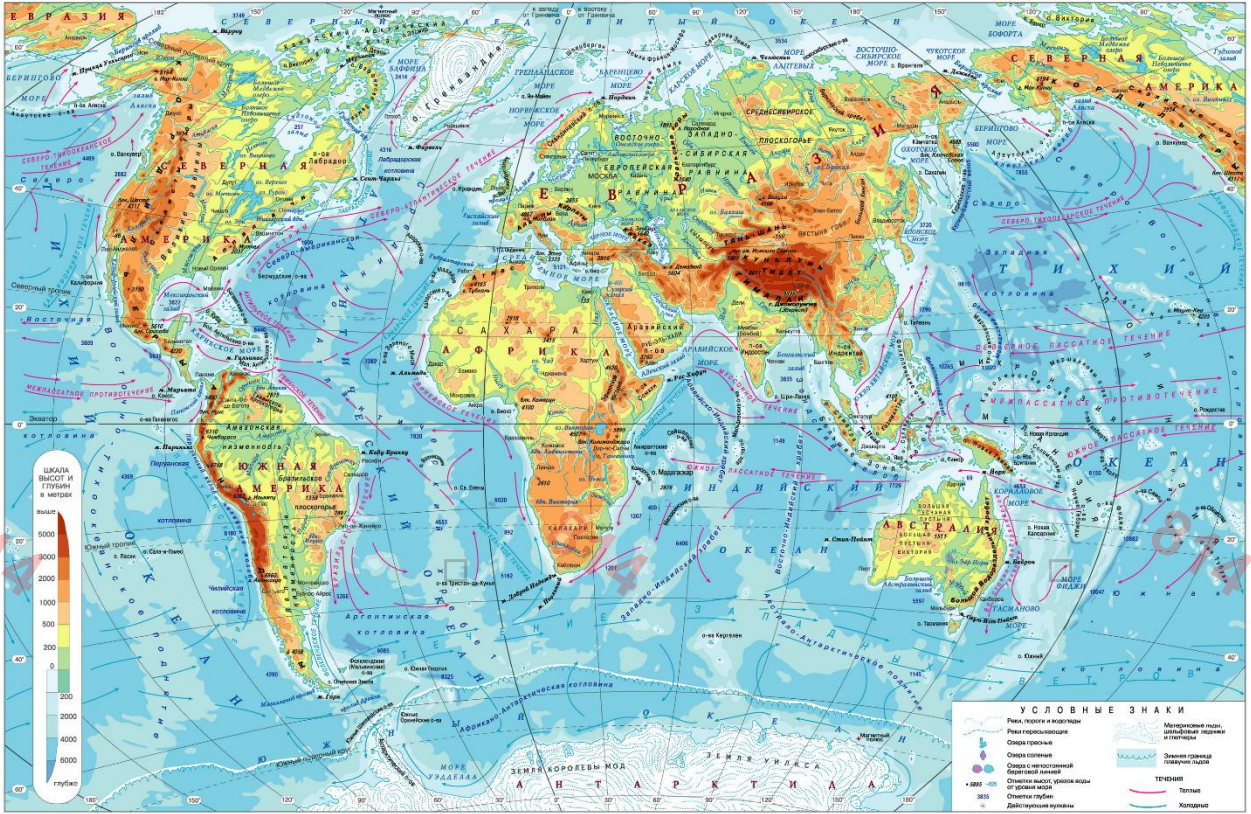


814

9 КЛАСС
2 (практический) тур

814

Задание 1. На карте отсутствуют 5 географических объектов. Найдите их.



Критерии оценки: за каждый правильно указанный объект 2 балла. Итого 10 баллов.

Задание 2. Заполните пробелы в таблице.

№	Городское население, %	Численность населения, чел.	Общая площадь территории, м ²	Плотность сельского населения
1.	70		125 200	1,09
2.		1 256 870	427 567	1,02
3.	87	567 892		62,5
4.	46		96 679	3,58
5.	78	126 893	37 521	

Критерии оценки: за каждый правильный ответ по 2 балла. Итого 10 баллов.



814

814

814

Задание 3. Вам даны 15 географических объектов Казахстана. Укажите в какой природной зоне они находятся.

1. Тамгалы Тас
2. Бурабай
3. Каратау
4. Пик Аксоран
5. Озеро Жасыбай
6. Озеро Сасыкколь
7. Полуостров Мангышлак
8. Тюркское Святилище Мерке
9. Пески Большие Борсуки
10. Полуостров Куланды
11. Ясеновая роща
12. Плато Шагырай
13. Пески Сарыесик-Атырау
14. Озеро Шаглытениз
15. Бегазы-дандыбаевские мегалитические мавзолеи

814

814

814

Критерии оценки: за каждый правильный ответ 1 балл. Итого – 15 баллов.

Задание 4. Вам даны контурные карты областей Казахстана, на которых цифрами отмечены месторождения полезных ископаемых. Определите название областей и месторождений.

Область №1.

814

814

814



3-й этап Республиканской олимпиады по предмету **География**

2020-2021 Казахстан, **23 февраля 2021**, длительность: **2,5 часа (150 минут)**

814

814

814



814

814

814

Область №2



814

814

814

Область №3



3-й этап Республиканской олимпиады по предмету **География**

2020-2021 Казахстан, **23 февраля 2021**, длительность: **2,5 часа (150 минут)**



Область №4





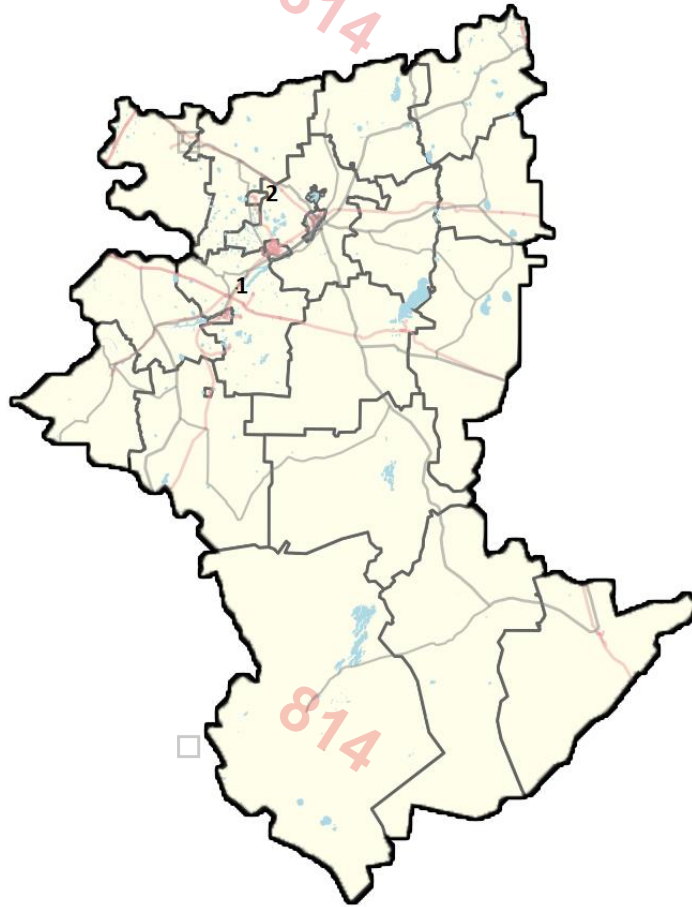
3-й этап Республиканской олимпиады по предмету **География**

2020-2021 Казахстан, **23 февраля 2021**, длительность: **2,5 часа (150 минут)**

814

814

814



814

814

814

Область №5

814



814



3-й этап Республиканской олимпиады по предмету **География**

2020-2021 Казахстан, **23 февраля 2021**, длительность: **2,5 часа (150 минут)**

Критерии оценки: за правильное определение области и наименования месторождений по 1 баллу. Итого 15 баллов.

ИТОГО 50 БАЛЛОВ!



814



814



814



814



814



814