



**10 СЫНЫП**  
**2 (практикалық) тур**

**1 тапсырма.**

Берілген биіктіктерге сәйкес шыңдарды анықтаңыз және олар орналасқан дүние бөліктерін табыңыздар. А, Б, В. Дүние бөліктерінің және шыңдардың атауларын кестедегі бос ұяшықтарға сәйкес толтырыңыз.

А - Дүние бөлігі		Б - Дүние бөлігі		В - Дүние бөлігі	
?		?		?	
3776		5895		6960	
3456		5199		6723	
3307		5109		6190	

*Бағалау өлшемдері: әр дұрыс жауақ - 1 ұпайдан. Барлығы 12 ұпай.*

**2 тапсырма.** Берілген суреттерге сәйкес мемлекеттерді анықтаңыз және олардың астаналарын атаңыз.



1 – сурет



2 – сурет



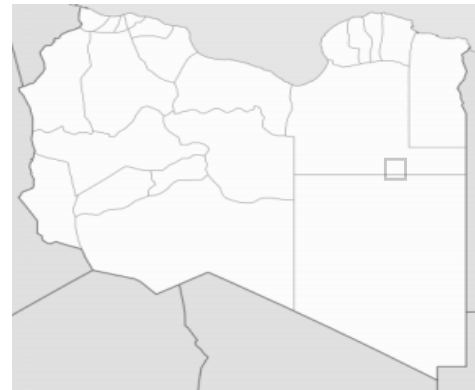
3 – сурет



4 – сурет



5 – сурет



6 – сурет

**Бағалау өлшемдері:** мемлекеттерді дұрыс анықтағаны үшін – 1 ұпайдан (6), астаналарын дұрыс тапқаны үшін – 1 ұпайдан (6). **Барлығы 12 ұпай.**

**3 тапсырма.** Суреттерде өсу, жинау және пайдалану жағдайлары бойынша ерекшеленетін 4 ауыл шаруашылық дақылдары көрсетілген. Осы дақылдарды анықтаңыз және осы дақылдарды жинау бойынша әлемдік көшбасшы елдерді атаңыз.



1



2



3



4

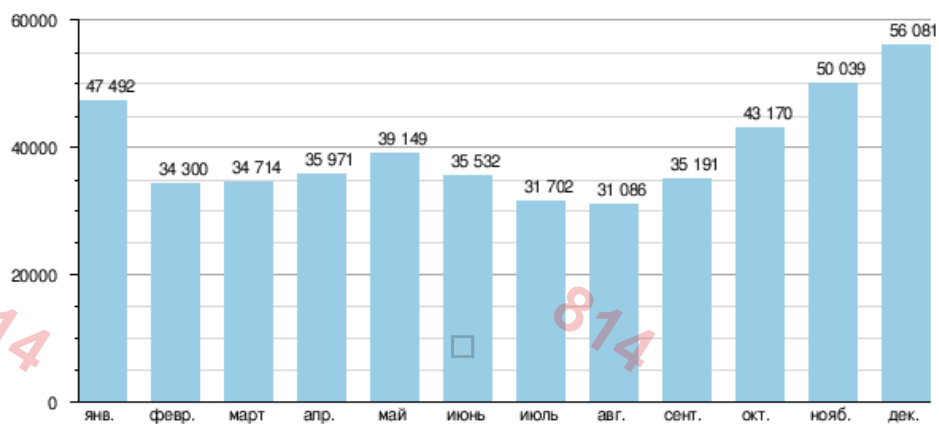


**Бағалау критерийлері:** ауыл шаруашылық дақылдарының атауын дұрыс анықтағаны үшін – 1,5 ұпайдан және осы дақылды жинау бойынша көшбасшы елді анықтағаны үшін 1 ұпайдан. Барлығы: 10 ұпай.

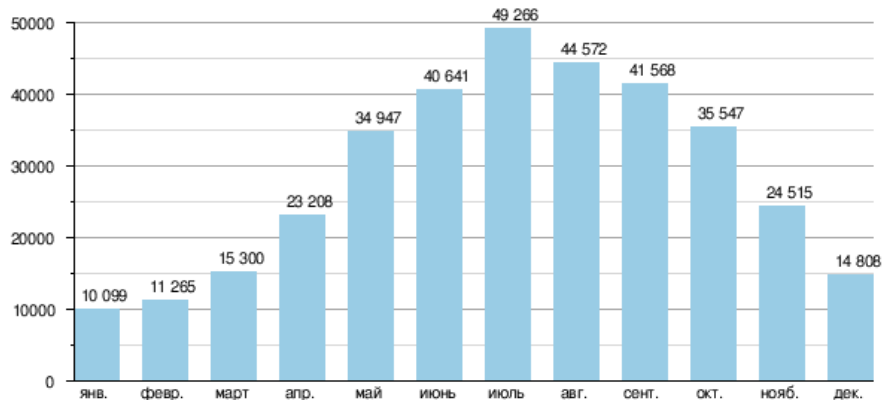
**4 тапсырма.** Сізге алты өзеннің су шығындарының графигі ұсынылған. Төмендегі тізімнен гидрологиялық режим бойынша өзендерді анықтаңыз.

Амазонка, Ніл, Миссисипи, Нигер, Тоне, Есіл, Муррей, Темза, Рейн, Янцзы, Лена, Конго.

А)



Б)

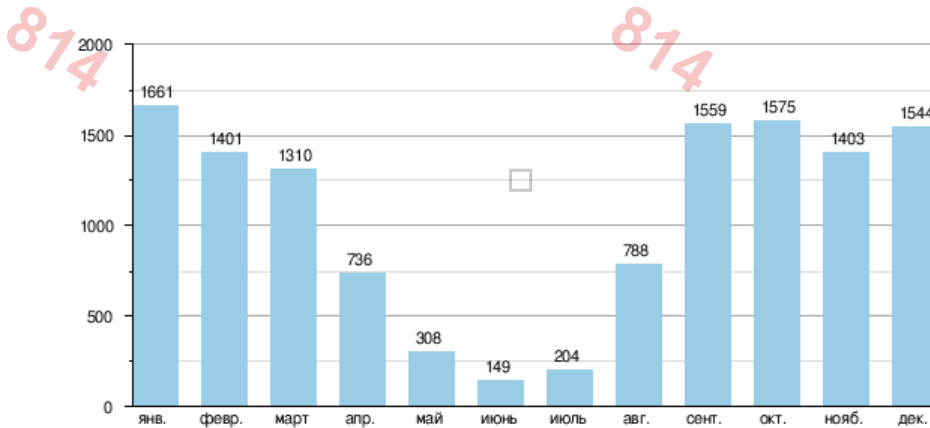


В)

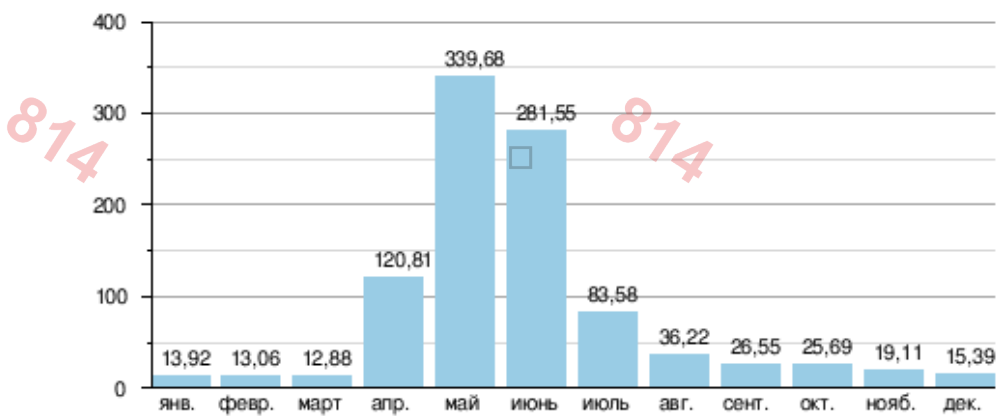


География пәні бойынша Республикалық олимпиаданың 3-ші кезеңі 2020-2021 Қазақстан,

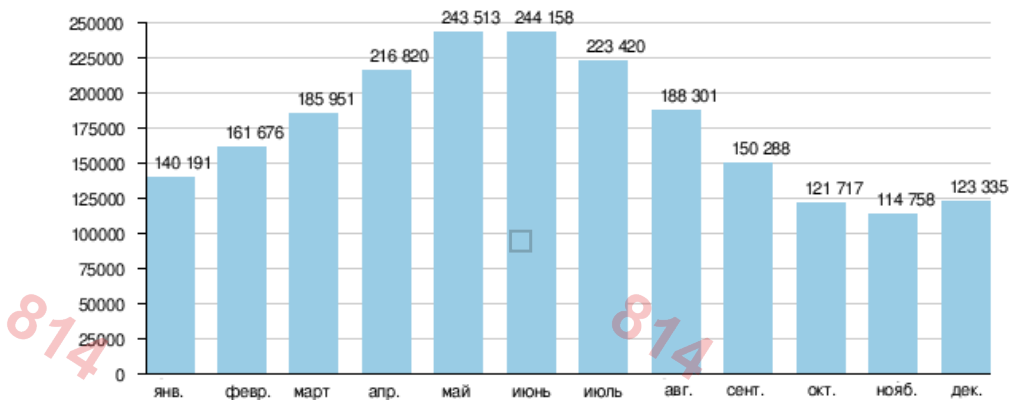
23 ақпан 2021, Ұзақтығы: 2,5 сағат (150 минут)



Г)



Д)

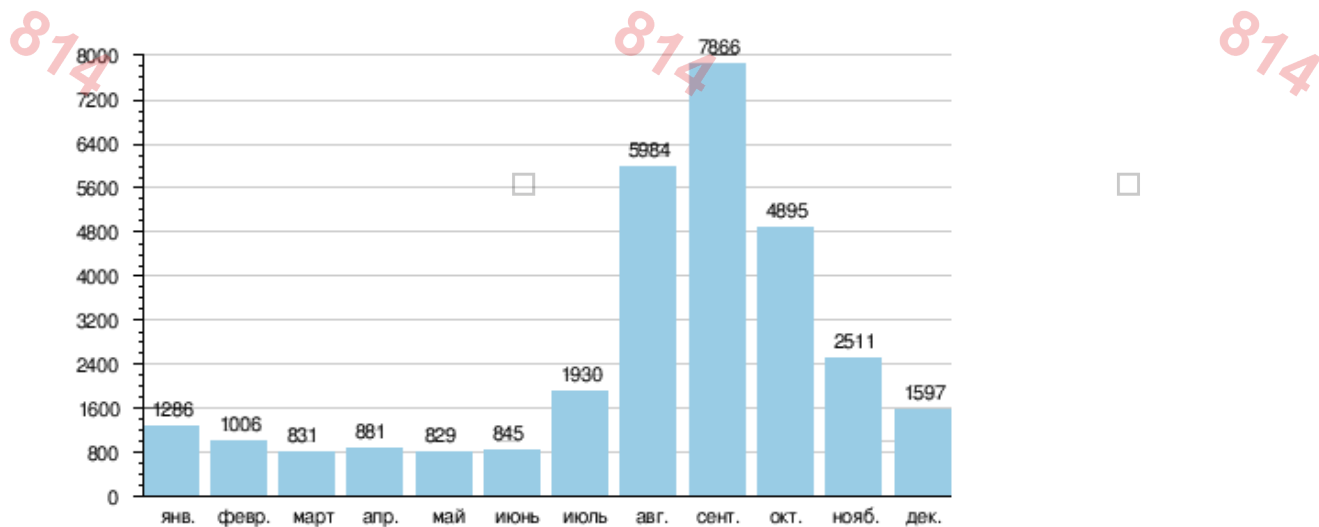


Е)



География пәні бойынша Республикалық олимпиаданың 3-ші кезеңі 2020-2021 Қазақстан,

23 ақпан 2021, Ұзақтығы: 2,5 сағат (150 минут)

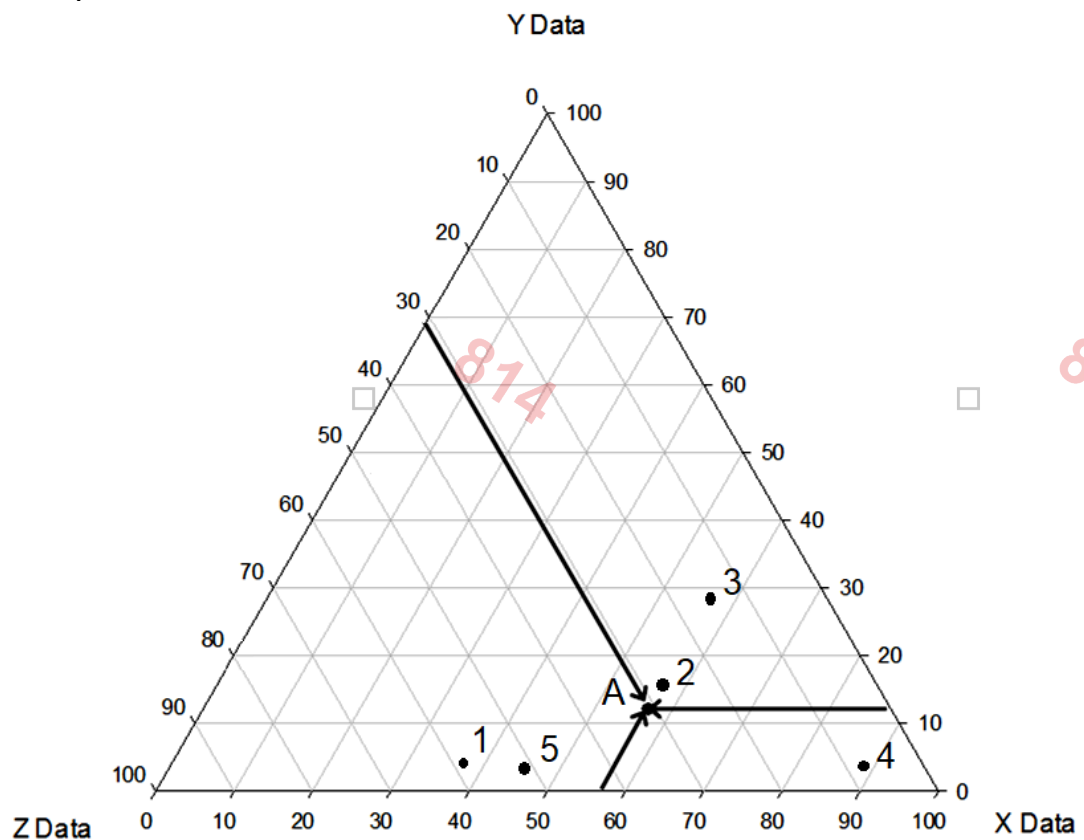


*Бағалау өлшемдері: әр дұрыс жауақ - 1 ұпайдан. Барлығы 6 ұпай.*



**5 тапсырма.**

Елдер мен аймақтардың экономикасын сипаттау үшін жалпы ішкі (аймақтық) өнім құрылымының көрсеткіштері жиі қолданылады. Суретте жекелеген аймақтардың жалпы өнімі құрылымындағы жиынтықталған көрсеткіштердің үш тобы көрсетілген. X осі - «Ауыл шаруашылығы, аңшылық және орман шаруашылығы, балық аулау, балық өсіру» тобы, Y осі - «өнеркәсіп, құрылыс, электр энергиясын, газды және суды өндіру және бөлу» тобы, Z осі бойынша. «Қызмет көрсету, басқару, көлік» тобы көрсетілген. 1-ден 5-ке дейінгі сандармен белгіленген графиктегі нүктелерді Қазақстан Республикасының Қарағанды, Түркістан, Атырау, Солтүстік Қазақстан облыстары және Алматы қаласының байланыстырыңыз.



**Бағалау өлшемдері:** әр дұрыс жауақ - 2 ұпайдан. Барлығы 10 ұпай.

**ЖАЛПЫ: 50 ҰПАЙ**



**10 КЛАСС**  
**2 (практический) тур**

**Задание 1.**

Согласно высотам определите вершины и части света, в которых они расположены. Напишите названия частей света А, Б, В и названия вершин в соответствующие ячейки таблицы.

Часть света А		Часть света Б		Часть света В	
?		?		?	
3776		5895		6960	
3456		5199		6723	
3307		5109		6190	

*Критерии оценки: за каждый правильный ответ - по 1 баллу. Итого 12 баллов.*

**Задание 2. По рисункам определите эти государства и назовите их столицы.**



1 – рисунок



2 – рисунок



3 – рисунок



4 – рисунок

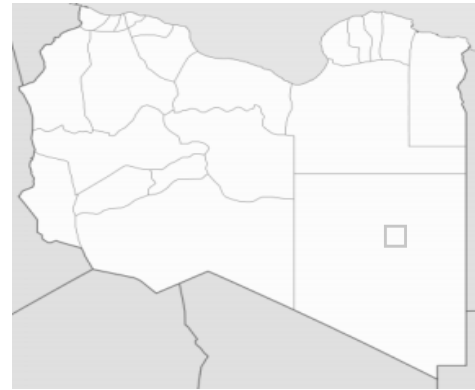


3-й этап Республиканской олимпиады по предмету **География**

2020-2021 Казахстан, **23 февраля 2021**, длительность: **2,5 часа (150 минут)**



5 – рисунок



6 – рисунок

**Критерии оценки:** за правильное определение страны – по 1 баллу (6), за правильное название столицы – по 1 баллу (6). **Итого: 12 баллов.**

**Задание 3.** На рисунках вы видите 4 сельскохозяйственные культуры, отличающиеся по условиям произрастания, сбора и использованию. Определите эти культуры и назовите страны - мировой лидер по сбору этих культур.



1



2



3



4

**Критерии оценки:** за каждое правильное определение сельскохозяйственной культуры – по 1,5 балла и за каждое правильное название страны лидер по сбору этих культур по 1 баллу. **Итого: 10 баллов.**





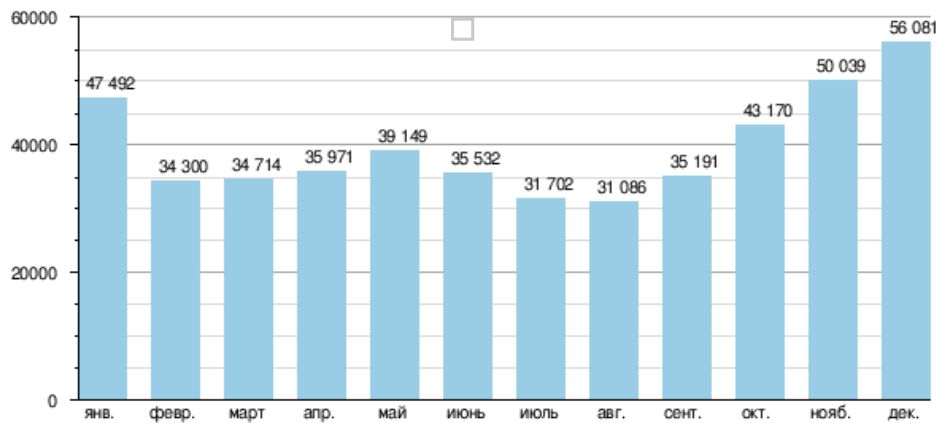
3-й этап Республиканской олимпиады по предмету **География**

2020-2021 Казахстан, **23 февраля 2021**, длительность: **2,5 часа (150 минут)**

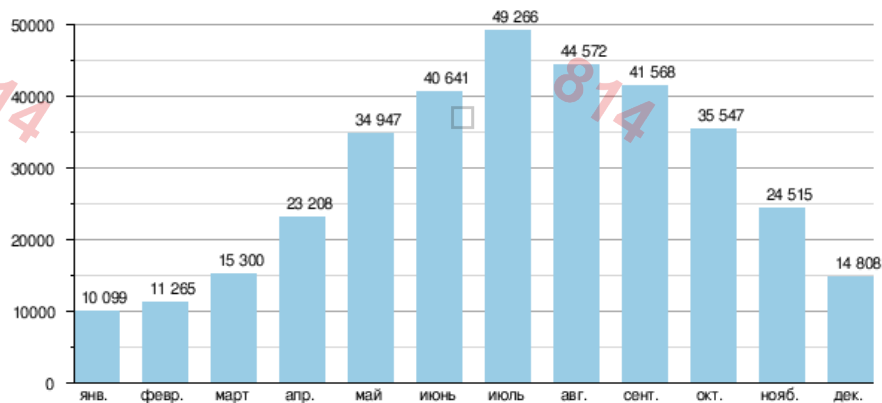
**Задание 4.** Вам представлены графики расходов воды шестерых рек. Определите реки по гидрологическому режиму из нижеприведенного списка.

Амазонка, Нил, Миссисипи, Нигер, Тоне, Ишим, Муррей, Темза, Рейн, Янцзы, Лена, Конго.

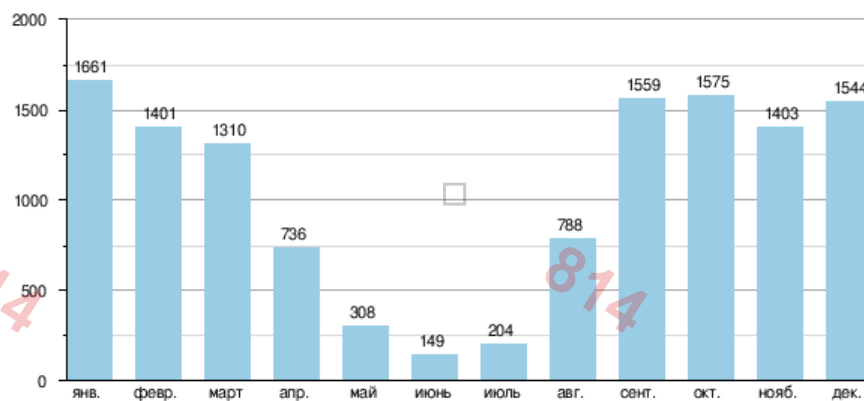
А)



Б)



В)

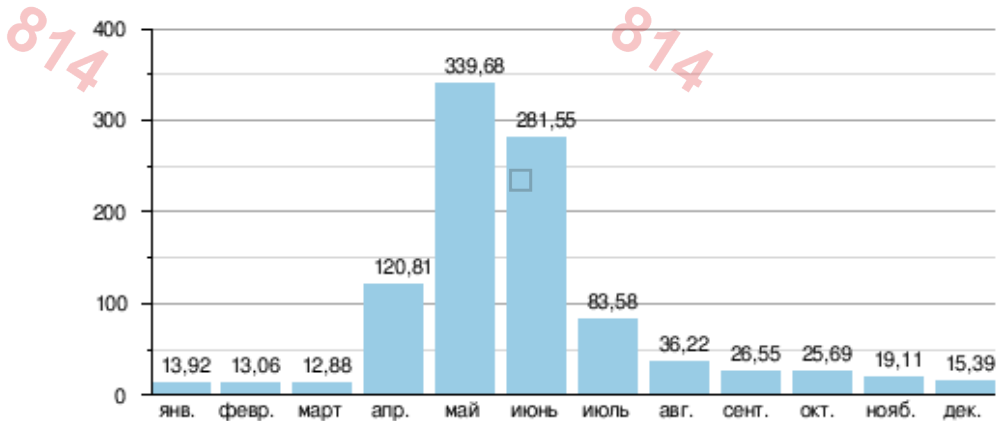




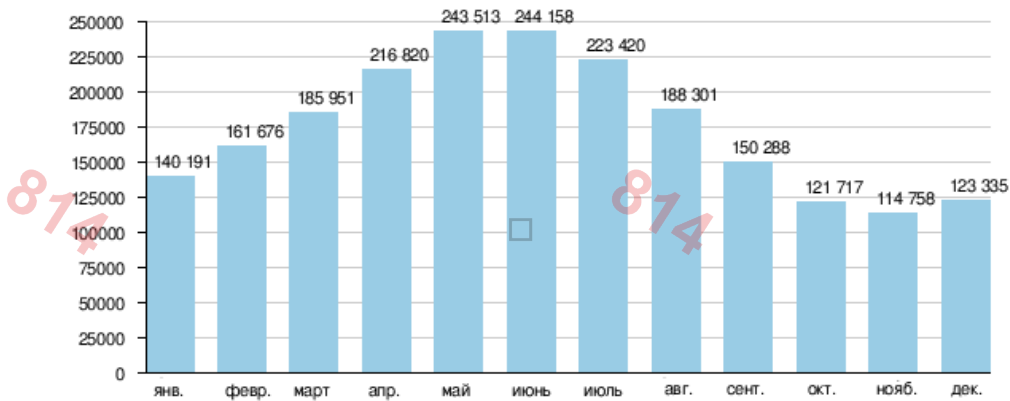
3-й этап Республиканской олимпиады по предмету **География**

2020-2021 Казахстан, **23 февраля 2021**, длительность: **2,5 часа (150 минут)**

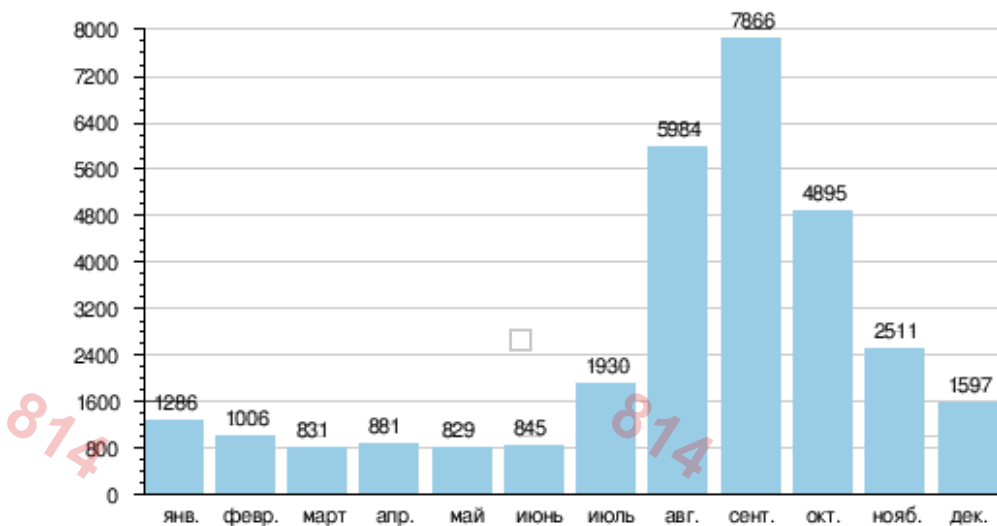
Г)



Д)



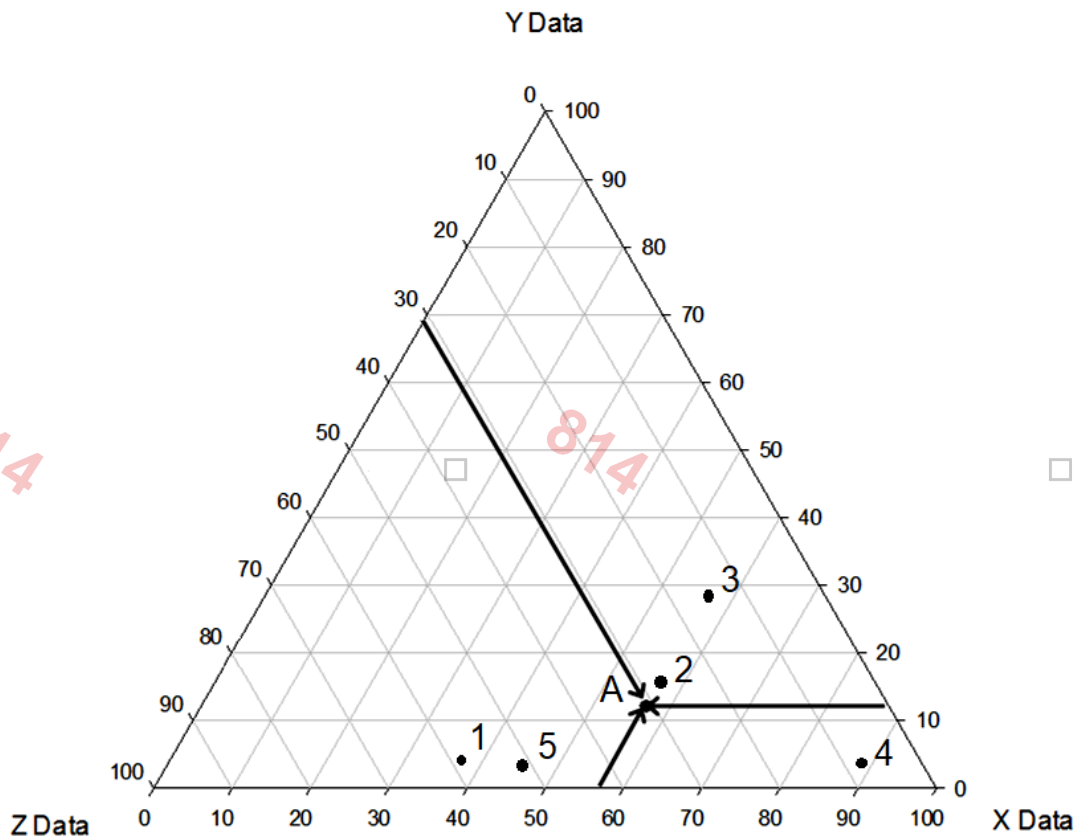
Е)



**Критерии оценки:** за каждый правильный ответ - по 1 баллу. Итого 6 баллов.



**Задание 5.** Для характеристики экономики стран и регионов часто используют показатели структуры валового внутреннего (регионального) продукта. На рисунке показаны три группы суммированных показателей в структуре валового продукта отдельных регионов. По оси X отложена группа «Сельское хозяйство, охота и лесное хозяйство, рыболовство, рыбоводство», по оси Y – группа «Промышленность, строительство, производство и распределение электроэнергии, газа и воды», по оси Z – группа «Сфера услуг, управление, транспорт». Соотнесите точки на графике, обозначенные цифрами от 1 до 5, с регионами Республики Казахстан: Карагандинская, Туркестанская, Атырауская, Северо-Казахстанская области и г. Алматы.



*Критерии оценки: за каждый правильный ответ – по 2 балла. Итого: 10 баллов.*

**ВСЕГО: 50 БАЛЛОВ**