



11 СЫНЫП
2 (практикалық) тур

1 тапсырма.

Географиялық білімдеріңізді пайдалана отырып, әрбір логикалық тізбекте жиналған барлық бес нысанның ортақ белгісін анықтаңыз. «Ақ қарға» (топтағы басқалардан өзгеше) географиялық нысанды табыңыз және өз таңдауыңызды түсіндіріңіз. Өз ұсынысыңызбен логикалық қатарды жалғастырыңыз. Әрбір тізбекке сәйкес келетін бір мысалдан келтіріңіз.

- 1) фульджалар - карлинг – трог – қой маңдайы – друмлиндер
- 2) гранит – базальт – обсидиан – гнейстер – габбро
- 3) пермь – триас - ордовик – силур – кембрий
- 4) метан – хром - аргон - гелий – водород
- 5) ирелең - арал – қайран – саға – сусыма (осып)

Бағалау өлшемдері: «ақ қарғаны» (топтағы басқалардан өзгеше) анықтағаны үшін - 1 ұпайдан, түсіндіргені үшін – 0,5 ұпайдан, логикалық қатарды жалғастырғаны үшін – 0,5 ұпайдан. **Барлығы 10 ұпай.**

2 тапсырма.

А) Зонд аралдарын батыстан шығысқа қарай орналастырыңыз:

- | | |
|------------------|-------------------|
| А. Бали аралы | Д. Серам аралы |
| В. Тимор аралы | Е. Сулавеси аралы |
| С. Суматра аралы | Ф. Ява аралы |

В) Төменде аталған қалаларды халық саны бойынша ең кішісінен ең ірісіне орналастырыңыз:

- | | |
|-----------------|-----------|
| А. Манила | Д. Рим |
| В. Сидней | Е. Сеул |
| С. Лос-Анджелес | Ф. Мәскеу |

С) Төменде көрсетілген мемлекеттерді жан басына шаққандағы жалпы ішкі өнімнің (ЖІӨ) мәні бойынша (сатып алу қабілетінің тепе-теңдігін ескере отырып, АҚШ долларымен) ең кедейлерден ең байға дейін орналастырыңыз:

- | | |
|--------------|------------------|
| А. Оман | Д. Қытай |
| В. Аргентина | Е. Индонезия |
| С. Чехия | Ф. Жаңа Зеландия |

Бағалау өлшемдері: әр дұрыс орналастыру үшін – 3 ұпайдан. **Барлығы 9 ұпай.**

3 тапсырма.

Мәтінді оқып, түсіп қалған сөздерді табыңыз:

Көбінесе ішкі саяси қақтығыстар әртүрлі тілдерде сөйлейтін халықтар тұратын нақты локализацияланған елдерде пайда болады. Типтік мысал – _____ (1). Мемлекеттің оңтүстік бөлігінде – _____ (2) халық _____ (3) тілінде сөйлейді. Елдің солтүстік бөлігі — _____ (4) _____ (5) құрамына кірді, сондықтан олар _____ (6) тілінде сөйлейді. Осы екі бөліктің _____ (2) және _____ (4) айырмашылығы тарихи қалыптасқан: _____ (2) экономикалық және саяси өмірде басым болды.

Қазір _____ (1) федеративті мемлекет. _____ (2) және _____ (4) денсаулық сақтау, мәдениет, қалалардың дамуы, жол құрылысы үшін жауапты аймақтық үкіметтер таңдалады. Бір бөліктен екінші бөлікке көшкенде, біз басқа мемлекетке түскендей боламыз — маңдайшадағы жазулар да екі тілде жазылған. Ел астанасында – _____ (7)



23 ақпан 2021, Ұзақтығы: 2,5 сағат (150 минут)

_____ (4) бөлігіне орналасқанына қарамастан, екі тіл де бірдей қолданылады.
_____ (7) _____ (8) өзенде тұр, алайда қала ішінде ол іс жүзінде көрінбейді. Арна
астананы _____ (9) өзенімен, осылайша _____ (10) портпен және
_____ (11) теңізмен байланыстырады.

Бағалау өлшемдері: әр дұрыс жауаққа - 1 ұпайдан. **Барлығы 11 ұпай.**

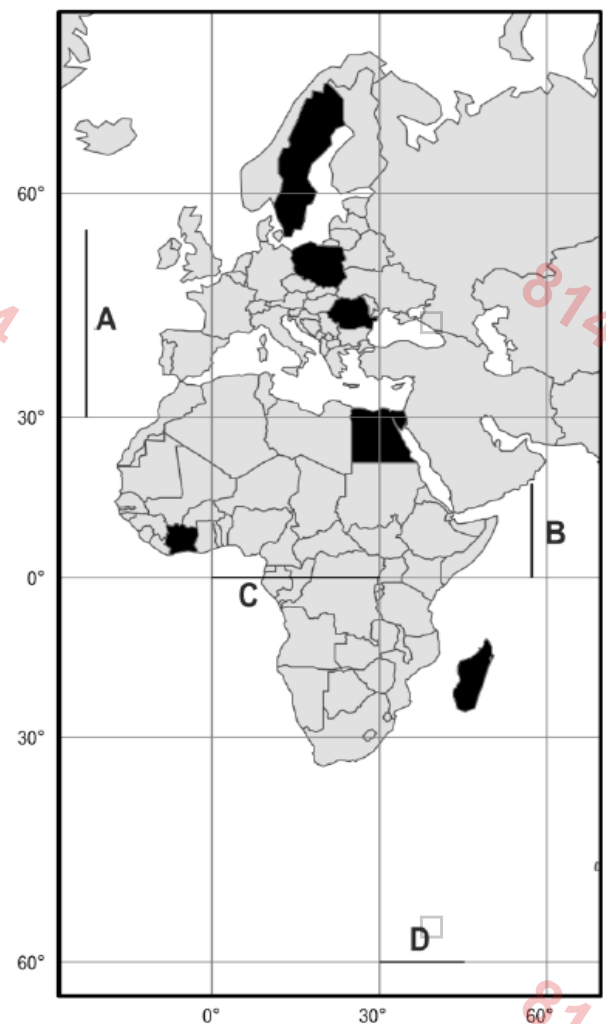
4 тапсырма.

Суретте Меркатордың цилиндрлік тең жақты проекциясында жасалған әлем картасының үзіндісі көрсетілген. Келесі сұрақтарға жауап беріңіз:

А) Картада проекцияға сәйкес пайда болатын бұрмалануларды ескере отырып, төменгі кестеде көрсетілген а-г әріптер мағынасын елдермен сәйкестеріңіз.

Мемлекет	Сәйкес мәлімет, а-г
Египет	...
Мадагаскар	...
Польша	...
Румыния	...
Швеция	...
Кот-д'Ивуар	...

Мәлімет	Мемлекет көлемі, (мың. км ²)
a	187,3
b	236,8
c	312,7
d	322,5
e	450,3
f	582,0
g	1 002,4



В) Картада төрт сызық белгіленген: А, В, С және D. Проекцияны ескере отырып олардың нақты ұзындығының ең қысқасынан ең ұзынына сәйкес орналастырыңыз,

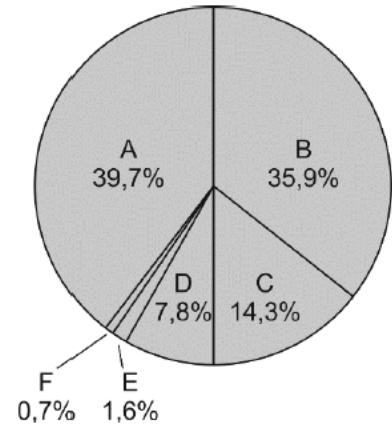
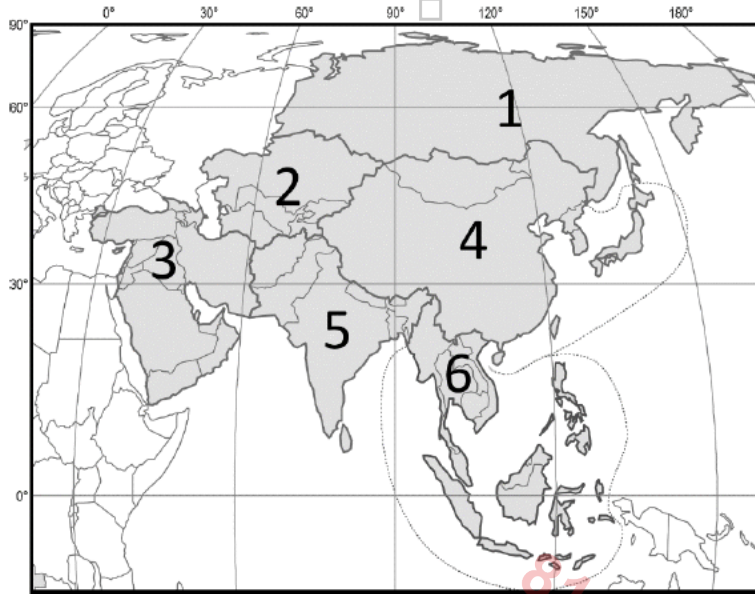
Бағалау өлшемдері: әр дұрыс жауаққа - 1 ұпайдан. **Барлығы 10 ұпай.**



5 тапсырма.

Суретте Азия елдерінің алты аймаққа бөлінуі көрсетілген (БҰҰ-ға сәйкес), дөңгелек диаграмма 2020 жылы Азия халқының жалпы санындағы осы аймақтар халқының үлесін көрсетеді.

А) Дөңгелек диаграммада көрсетілген әріптік мәндерді (А-F) картадағы Азияның жеке аймақтарымен сәйкестіріңіз.



В) Төменде келтірілген сипаттамаларға сәйкес Азия елдерінің ұлттарын анықтаңыз:

1. Ежелгі заманнан бері оңтүстік Сібірде өмір сүрген ең көне көшпелі халық. Б.з.д. III ғасырда, 201 жылы тарихшы Сым Цянның "Ши цзи" қытай тарихи шежіресінде алғаш рет Шығыс Тянь-Шаньда орналасқан осы халықтардың иелігі туралы айтылады. В. В. Бартольд оларды Азияның осы бөлігіндегі ең көне халықтардың бірі деп атады. Кейінірек б. з. VI ғасырда халық қоныстанып, өз мемлекеттілігін құрды.

2. Олар үнді-еуропалық тілдер отбасының ерекше тобына жататын тілде сөйлейді. Этностың қалыптасуы б.з.д. XIII және VI ғасырлар аралығында көптілді тайпалардың бірігуі нәтижесінде пайда болды. Халықтың көбі христиан дінін ұстанады. Қазіргі уақытта халықтың негізгі бөлігі, негізінен 1915 жылғы геноцид салдарынан, тарихи Отаннан тыс жерлерде тұрып жатыр.

3. Бұл халықтың негізгі діндері - конфуций, буддизм, христиан, шаманизм, бірақ көпшілігі ешқандай дінді ұстанбайды. Бұрын буддизм үстем болған, бірақ XIV ғасырда ол мемлекеттік дін мәртебесін жоғалтты. Елде тұратындардың көпшілігі атеистік көзқарастарды ұстанады. 7 миллионға жуық халық өкілдері тарихи Отаннан тыс жерлерде тұрады.

4. Үнді-арий тобының халықтарының бірі, елдің негізгі халқы (46%). Жалпы саны шамамен 20 млн адам. Негізгі дін (халықтың шамамен 80%) — индуизм. Ел әлемдегі ең көп қоныстанған екі елдің арасында орналасқан.

Бағалау өлшемдері: әр дұрыс сәйкестендіру үшін - 1 ұпайдан, ұлттарды дұрыс анықтаған үшін - 1 ұпайдан. **Барлығы 10 ұпай.**

ЖАЛПЫ: 50 ҰПАЙ



11 КЛАСС
2 (практический) тур

Задание 1.

Пользуясь знаниями по географии, полученными в предыдущие годы, определите общий признак всех пяти объектов, собранных в каждой логической цепочке. Найдите географический объект, который является «белой вороной» (отличается от других в группе), и объясните свой выбор. Предложите своё продолжение логического ряда (приведите по одному примеру, который будет верным для каждой цепочки).

- 1) фульджи - карлинг – трог – бараньи лбы – друмлины
- 2) гранит – базальт – обсидиан – гнейсы – габбро
- 3) пермь – триас - ордовик – силур – кембрий
- 4) метан – хром - аргон - гелий – водород
- 5) меандры - осерёдок – перекааты – дельта – осыпь

Критерии оценки: за определение «белой вороны» - по 1 баллу, за объяснение – по 0,5 балла, за продолжение логического ряда – по 0,5 балла. **Итого 10 баллов.**

Задание 2.

А) Расположите Зондские острова в направлении с запада на восток:

- | | | | | |
|---------------|---|---|----------------|---|
| А. о. Бали | □ | □ | Д. о. Серам | □ |
| В. о. Тимор | □ | □ | Е. о. Сулавеси | □ |
| С. о. Суматра | □ | □ | Ф. о. Ява | □ |

В) Расставьте перечисленные ниже города по численности их населения, от самого малого к самому большому:

- | | | | | |
|-----------------|---|---|-----------|---|
| А. Манила | □ | □ | Д. Рим | □ |
| В. Сидней | □ | □ | Е. Сеул | □ |
| С. Лос-Анджелес | □ | □ | Ф. Москва | □ |

С) Расставьте перечисленные ниже государства по значению валового внутреннего продукта (ВВП) на душу населения (в долларах США с учётом паритета покупательной способности), от самых бедных к самым богатым:

- | | | | | |
|--------------|---|---|-------------------|---|
| А. Оман | □ | □ | Д. Китай | □ |
| В. Аргентина | □ | □ | Е. Индонезия | □ |
| С. Чехия | □ | □ | Ф. Новая Зеландия | □ |

Критерии оценки: за верную последовательность – по 3 балла. **Итого 9 баллов.**

Задание 3.

Прочитайте текст и проставьте пропущенные слова:

Очень часто внутривнутриполитические конфликты возникают в странах, где есть четко локализованные ареалы проживания людей, говорящих на разных языках. Типичный пример – _____(1). В южной части – _____(2) – говорят на _____(3). Северная часть — _____(4) – входила в состав _____(5), здесь говорят на _____(6). Противоречия между _____(2) и _____(4) складывались исторически: _____(2) доминировала в экономической и политической жизни.

Ныне _____(1) имеет федеративное устройство. _____(2) и _____(4) выбирают региональные правительства, которые отвечают за здравоохранение, культуру, развитие городов, строительство дорог. Переезжая из одной части в другую, мы как будто попадаем в другое государство — меняются языки, на которых написаны вывески. В



3-й этап Республиканской олимпиады по предмету **География**

2020-2021 Казахстан, **23 февраля 2021**, длительность: **2,5 часа (150 минут)**

столице – _____ (7), несмотря на то, что он находится во _____ (4), оба языка одинаково используются. _____ (7) стоит на реке _____ (8), однако в черте города та практически не видна. Канал соединяет столицу с рекой _____ (9) и таким образом с портом _____ (10) и _____ морем(11).

Критерии оценки: за каждый правильный ответ - по 1 баллу. **Итого 11 баллов.**

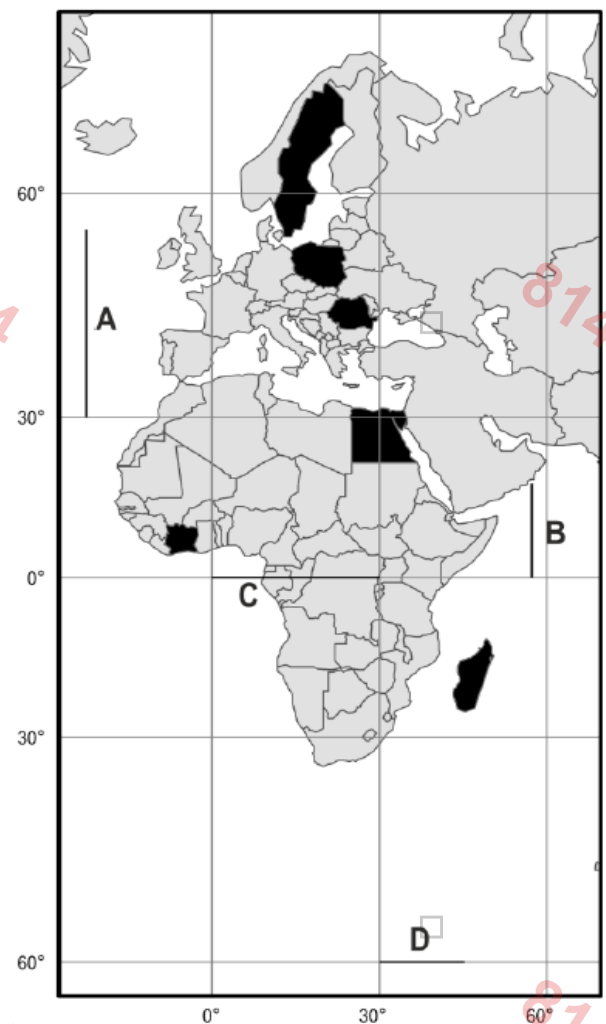
Задание 4.

На рисунке показан фрагмент карты мира, выполненный в цилиндрической равносторонней проекции Меркатора. Ответьте на вопросы:

А) Принимая во внимание искажения, возникающие на карте в соответствии с проекцией, соотнесите странам буквы a-g, значения которых представлены в нижней таблице.

Страна	Соответствующее обозначение a-g
Египет	...
Мадагаскар	...
Польша	...
Румыния	...
Швеция	...
Кот-д'Ивуар	...

Обозначение	Площадь территории (тыс. км ²)
a	187,3
b	236,8
c	312,7
d	322,5
e	450,3
f	582,0
g	1 002,4



В) На карте отмечены четыре линии: А, В, С и D. Расположите их в соответствии с их реальной длиной, начиная с самой короткой до самой длинной учитывая проекцию.

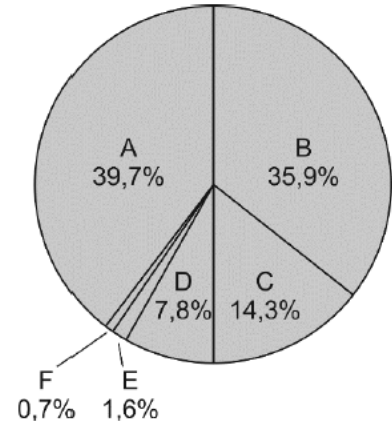
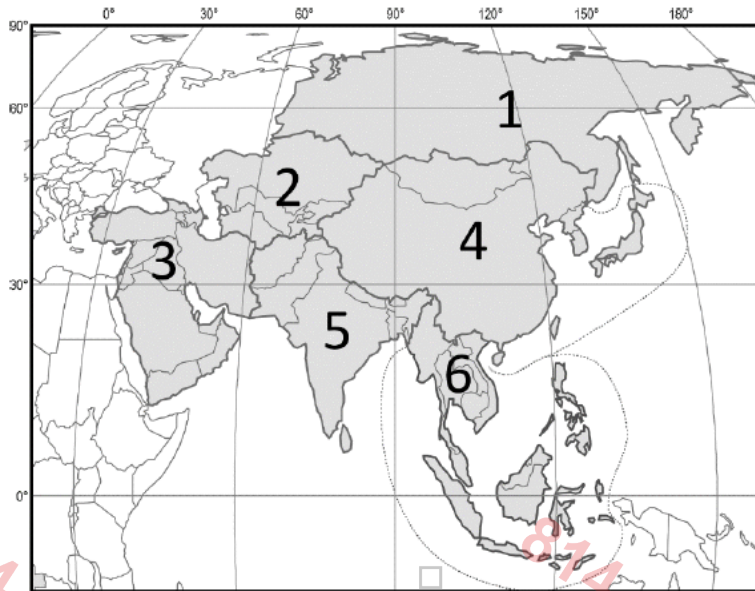
Критерии оценки: за каждый правильный ответ – по 1 баллу. **Итого: 10 баллов.**



Задание 5.

На рисунке показано деление стран Азии на шесть регионов (согласно ООН), круговая диаграмма показывает долю населения этих регионов в общей численности населения Азии в 2020 году.

А) Соотнесите буквенные значения (А-Е), представленные в круговой диаграмме с отдельным регионом Азии на карте.



В) По описаниям, представленным ниже определите народности стран Азии:

1. Древнейший кочевой скотоводческий народ, издревле обитавший на территории Южной Сибири. В III веке до н. э., в 201 году в китайской исторической летописи «Ши цзи» историка Сыма Цяня впервые упоминается о существовании владения этих народов, находившееся в Восточном Тянь-Шане. В. В. Бартольд назвал их одним из древнейших народов этой части Азии. Позже в VI веке н. э. племена осели и образовали свою государственность.

2. Говорят на языке, принадлежащем к особой группе индоевропейской языковой семьи. Формирование этноса произошло между XIII и VI веками до н. э. в результате слияния разноязычных племён. Большинство верующих исповедует христианство. В настоящее время основная масса народа, преимущественно вследствие геноцида 1915 года, проживает за пределами исторической родины.

3. Основные религии этого народа - конфуцианство, буддизм, христианство, шаманизм, однако большинство не исповедуют никакой религии. Ранее господствовал буддизм, но в XIV веке он утратил статус государственной религии. Большое количество, проживающих в стране, придерживаются атеистических взглядов. Около 7 миллионов представителей живут за пределами исторической родины.

4. Один из народов индоарийской группы, основное население (46 %) страны. Общая численность — около 20 млн человек. Основная религия (около 80 % населения) индуизм. Страна расположена между двумя самыми населёнными странами мира.

Критерии оценки: за правильное соответствие – по 1 баллу (6), за правильное определение народов – по 1 баллу (4). **Итого: 10 баллов.**

ВСЕГО: 50 БАЛЛОВ