

**ОБЛАСТНАЯ ОЛИМПИАДА 2017-2018 УЧЕБНОГО ГОДА
ЗАДАНИЯ ПРАКТИЧЕСКОГО ТУРА ПО ГЕОГРАФИИ
11 КЛАСС**

Время выполнения задания – 150 минут

Задание 1.

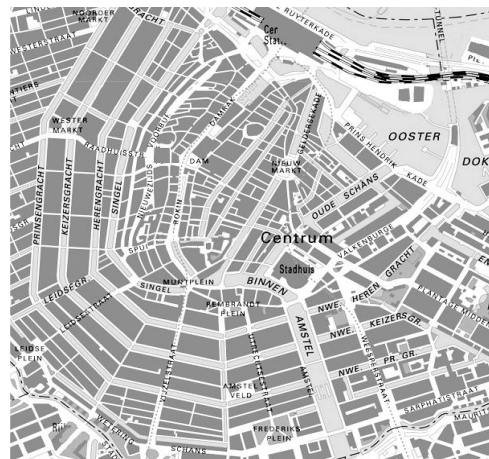
Перед Вами три плана центральных частей городов в разных странах Европы, в которых велико количество инженерных сооружений и искусственных водных объектов.

Заполните таблицу:

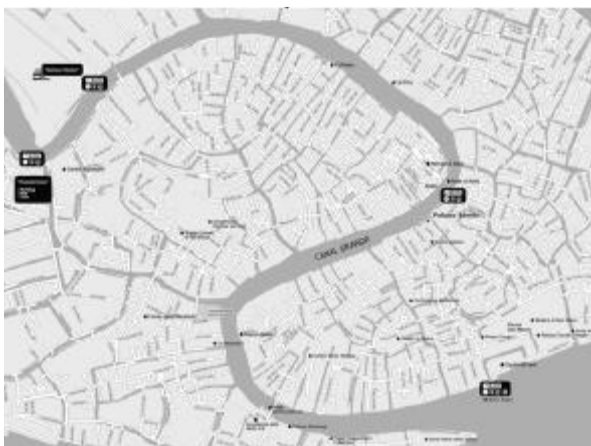
Город 1



Город 2



Город 3

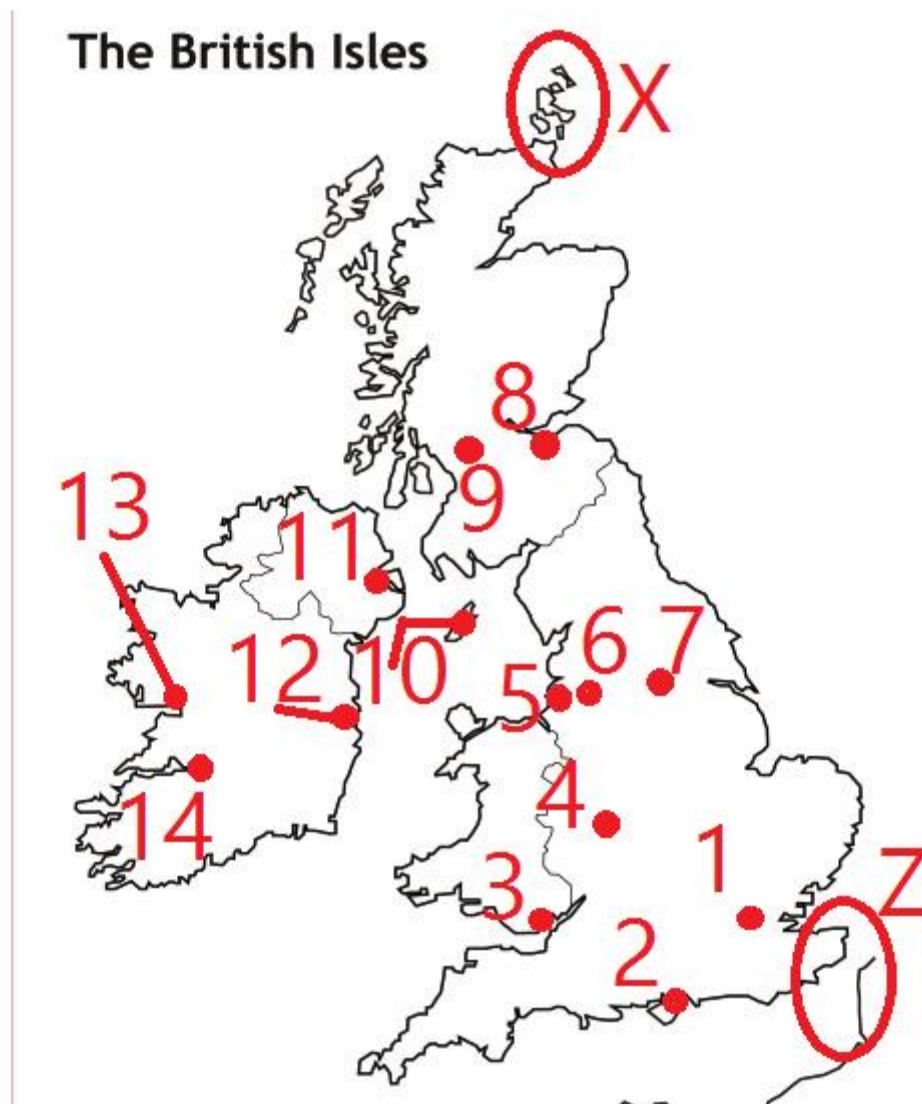


1	Названия городов	А) Б) В)
2	Искусственный водный объект в городах	...
3	Отрасль непроемственной Сферы	...
4	Технологическая особенность сооружений в городах 1 и 3	...

Критерии оценки: 2 балла за определение городов (6 баллов), за название водного объекта – 1 балл, за название отрасли непродовольственной сферы – 1 балл, за указание особенности – 1 балл. **Итого: 9 баллов.**

Задание 2.

Перед вами представлен контур Британских островов. Ответьте на следующие вопросы?



1) В сентябре 2014 года прошел референдум о независимости, в случае положительного ответа большей части избирателей какой город должен был стать столицей? (название города и цифру)?

2) Тинвальд, один из старейших парламентов в мире, который был образован ещё в 979 году, обозначена цифрой 10. Назовите город?

3) Город расположен в церемониальном и метрополитенском графство Англии – Мерсисайд. пятый по величине город Великобритании (и третий — в Англии). Что это за город?

4) Первый и главный викторианский фабричный город с презентабельными складскими помещениями и офисными зданиями в виде башен. Его быстрый рост был таким же, как в любом другом месте в период Промышленной революции, – от поселения немногим больше деревни в 1750 году до главного мирового центра хлопчатобумажных тканей всего за сто лет?

- 5) Как называются острова, расположенные внутри круга X?
 6) Канал в круге Z в Англии называется по-другому, чем во Франции. Какой английский город-порт расположен здесь?
 7) Как французы называют этот пролив? Укажите длину пролива.

Критерии оценки:

За каждый правильный ответ – по 1 баллу, итого **7 баллов**.

Задание 3.

В современном мире значительное число стран являются водозависимыми, а значит и потенциально конфликтными. Степень водно-ресурсной "зависимости" любой страны обусловлена долей стока, полученного из сопредельных государств. В таблице представлены наиболее водозависимые страны, с наибольшей долей транзитного стока. Что это за государства? Укажите их главные трансграничные источники водоснабжения.

	Водозависимая страна	Доля транзитного стока, %	Трансграничные реки-источники водоснабжения	Характерные особенности водозависимой страны
1	...	97	А ...	99% населения живут на 4% всей территории страны
2	...	94	Б ...	На территории страны распространены пушты
			В ...	
3	...	91	Г ...	Страна Ближнего Зарубежья – экспортер аграрной продукции
			Д ...	
4	...	80	Е ...	Крупный экспортер алмазов

Критерии оценки: За правильное указание водозависимых стран – по 2 балла (8 баллов), за правильное определение трансграничных рек – по 1 баллу (6 баллов). **Итого 14 баллов**

Задание 4.

Определите по религиозной структуре населения страны, отличающиеся наименьшей протяженностью морского побережья (имеющие наименьший выход к Мировому океану):
 А) Мусульмане 97% (шииты 60-65%, сунниты 32-37%), христиане и прочие 3%;
 Б) Мусульмане 40%, православные 30%, католики 16%, протестанты 4%, прочие 10%;
 В) Мусульмане-сунниты 92%, христиане 5% (главным образом православные - приверженцы греческой православной и сирийской православной церкви, а также монофизиты, греко-католики и протестанты), прочие 3% (мусульмане-шииты и друзы).
 Какой из данных стран присущ продолжительный межэтнический конфликт? Между какими этносами? Какие крупнейшие города располагаются в зоне конфликта?

Критерии оценки: За верно определенную страну – по 2 балла (6 баллов), за определение и конфликтной территории и этносов – 2 балл, за определение городов – по 0,5 балла (максимум 2 балла). **Итого: 11 баллов**

Задание 5.

Определите по кратким описаниям шесть городских агломераций, расположенных на шести островах земного шара. Каждая из представленных агломераций является крупнейшей на своём острове. Укажите агломерации и острова, на которых они расположены.

1. Это крупнейшая городская агломерация в современном мире, численность её населения составляет около 38 миллионов человек. Центром агломерации является столица государства, город, разделённый на 23 специальных района, в каждом из которых есть мэр, эти районы больше похожи на независимые города, чем на районы как таковые. Столицей город стал относительно недавно, в 1868 году.

2. Столичная агломерация расположена на самом населённом острове земного шара. За последние десятилетия она резко выросла в численности населения и сегодня насчитывает около 31 миллиона жителей. Город был основан португальцами в 1537 году, а потом долгое время был центром голландской колонии. Сегодня город сочетает в себе все признаки столичной агломерации развивающегося государства: и положительные – крупный промышленный и финансовый центр с современным даунтауном, и отрицательные – высокая плотность населения, трущобы, множество социальных проблем.

3. Столичная агломерация одного из крупнейших христианских государств мира сегодня насчитывает около 24 миллионов человек. Центром агломерации является столичный город, один из самых густонаселённых в мире, который, однако, уступает по численности населения другому городу агломерации и всей страны. Обладая удобной гаванью, столица является главным портом страны и одним из наиболее оживлённых портов мира.

4. Эта городская агломерация с населением в 8,5 миллиона человек расположена в пределах частично признанного государства. Символом городской агломерации и всего острова является небоскрёб в 101 этаж, который входит в десятку самых высоких зданий в мире. Расположенный в северной части острова город характеризуется типичным муссонным климатом с жарким влажным летом и короткой мягкой зимой.

5. В городе-государстве, центре моноцентрической агломерации, проживает около 5,5 миллионов человек. Город обладает чрезвычайно выгодным географическим положением на стыке многих морских путей, что позволяет «перехватывать» многие грузопотоки. Он является одним из крупнейших портов мира по грузообороту, а также крупнейшим транзитным портом в мире. Город многонациональный и полирелигиозный, здесь четыре официальных языка, а символом города является мерлион, мифическое существо с телом рыбы и головой льва.

6. Эта городская агломерация насчитывает около 4 миллионов человек. Центром агломерации является город, бывшая столица страны, с бурной историей: за последние столетия он неоднократно менял хозяев – с арабов на португальцев, затем на голландцев, потом здесь обосновались англичане. Сегодняшний облик города во многом определяется процессами ложной урбанизации: среди похожих на трущобы старых кварталов вырастают сверкающие небоскребы из стекла и бетона, а строгие, но дряхлые колониальные виллы соседствуют с красочными восточными храмами.

Критерии оценки: За правильное определение агломераций – по 1 баллу (6 балла), за правильное указание островов – по 0,5 балла. **Итого 9 баллов**

ВСЕГО: 50 БАЛЛОВ