

Практический тур, 10 класс

Задание 1.

Исключите одно лишнее определение из предложенного списка

1. **Германия:** рейхстаг, гастарбайтер, евро, Опель, пиво, Висла.
2. **Франция:** кинофестиваль, Пежо, сыр, АЭС, духи, волынка, шампанское, шоколад.
3. **Швеция:** лыжи, бумага, туризм, рыба, часы, Вольво, шоколад
4. **Бельгия:** сыр, пиво, бриллианты, Амстердам, НАТО, фламандский
5. **Швейцария:** лыжи, банк, часы, сыр, шоколад, лекарство, франк, бумага.
6. **Венгрия:** Балатон, обувь, туризм, вино, индуизм, Икарус, бокситы
7. **Монако:** марки, магнолии, курорт, лес, туризм, казино, карты.
8. **Греция:** шубы, уголь, туризм, оливки, лимон, Средиземное море.

1 балл за каждый правильный ответ. Итого 8 баллов

Задание 2.

По данным о структуре экономики определите, каким из следующих стран – Индонезия, Кувейт, Нидерланды, Эфиопия - соответствуют строки А-Г в таблице. Объясните свой выбор.

Структура экономики, в %.

страна	Сельское хозяйство	Промышленность	Сфера услуг
А	0	45	55
Б	52	11	37
В	17	47	36
Г	3	27	70

1 балл за каждый правильный ответ. Итого 4 балла

Задание 3.

Чем объяснить, что показатель отношения численности пожилых людей (старше 60 лет) к численности детей (младше 14 лет) в Японии более, и в пятнадцать раз превосходит этот же показатель в Омане?

4 балла

Задание 4.

Какие факторы способствовали превращению ЮАР в одного из крупнейших экспортеров угля? Одна из причин – наличие крупных запасов угля. Укажите еще не менее двух причин.

4 балла

Задание 5.

Перед Вами представлены фотографии различных объектов. Заполните таблицу, написав названия данных объектов, регионы, где они расположены, а также ответив на дополнительные вопросы, поставленные к каждой фотографии.





Фото	Название объекта	Страна	Дополнительные вопросы	Ответы на вопросы
1			Этот объект служит объектом туризма а также религиозного паломничества буддистского и синтоистского культов. 1. Назовите форму вулкана	
2			1. По приказу какого русского царя в память о взятии Казани построен этот объект? 2. Напротив собора находится памятник известных борцов против интервентов. Назовите этих героев.	
3			1. Назовите зарубежный аналог этого объекта во Франции. 2. На южном берегу какого залива расположен этот объект?	
4			1.Этот объект являлся политическим и культурным центром этого племени 2.На каком полуострове расположен этот объект? 3.Какой международной организацией этот объект признан мировым и культурным наследием ?	
5			1. Назовите максимальную глубину этого объекта. 2. Назовите объекты-аналоги по происхождению на африканском континенте (не менее двух)	

1 балл за каждую правильную страну и каждый правильный объект. 2 балла за каждый правильный ответ на вопрос. Итого 30 баллов

ИТОГО: 50 баллов

Практикалық тур, 10 сынып

Тапсырма 1.

Ұсынылып отырған тізімнен бір артық анықтаманы алып тастаңыз

1. **Германия:** рейхстаг, гастарбайтер, евро, Опель, сыра, Висла.
2. **Франция:** кинофестиваль, Пежо, ірімшік, АЭС, иіс су, волынка (музыкалық аспап), шампанское, шоколад.
3. **Швеция:** шаңғы, қағаз, туризм, балық, сағат, Вольво, шоколад
4. **Бельгия:** ірімшік, сыра, бриллиант, Амстердам, НАТО, фламанд
5. **Швейцария:** шаңғы, банк, сағат, ірімшік, шоколад, дәрі, франк, қағаз.
6. **Венгрия:** Балатон, аяқ-киім, туризм, шарап, индуизм, Икарус, боксит
7. **Монако:** маркі, магнолия, курорт, орман, туризм, казино, карталар.
8. **Греция:** тондар, көмір, туризм, зәйтүн, лимон, Жерорта теңізі.

Әрбір дұрыс жауапқа 1 балл. Жалпы 8 балл

Тапсырма 2.

Экономиканың құрылымы бойынша мәліметтерге сүйене отырып, кестедегі А-Г жолақтары Индонезия, Кувейт, Нидерланды, Эфиопия елдерінің қайсысына қатысты екендігін анықтаңыздар. Өз таңдауыңызды түсіндіріңіз.

Экономика құрылымы, %.

ел	Ауыл шаруашылығы	Өнеркәсіп	Қызмет көрсету сферасы
А	0	45	55
Б	52	11	37
В	17	47	36
Г	3	27	70

Әрбір дұрыс жауапқа 1 балл. Жалпы 4 балл

Тапсырма 3.

Қарт адамдар санының (60 жастан жоғары) балалар санына (14 жастан төмен) қатынасының көрсеткіші Жапонияда көп, және бұл көрсеткіш Оманда он бес есе артық екенін немен түсіндіруге болады?

4 балл



Тапсырма 4.

Қандай факторлар ОАР-дың ірі көмір экспорттаушыға айналуына әсер етті? Негізгі себептерінің бірі- көмірдің ірі қорларының болуы. Тағы да екеуден кем емес себепін көрсетіңіз.

4 балл

Тапсырма 5.

Сіздердің алдарыңызда әртүрлі объектілердің суреті берілген. Берілген объектілердің атын, орналасқан аймақтарын және әр суретке қойылған қосымша сұрақтарға жауап бере отырып, кестені толтырыңыз.



Су рет	Объектінің аты	Ел	Қосымша сұрақтар	Сұрақтарға жауап
1			Бұл объект туризм объектісі, сонымен бірге будда және синтоизм діндеріне сенушілердің табыну немесе сиыну объектісі. 1. Вулканның пішінін атаңыз.	
2			1. Бұл объект қандай орыс	

			патшасының бұйрығымен Казанды алу естелігі ретінде салынған? 2. Соборға қарама-қарсы интервенттерге қарсы шыққан белгілі күресшілердің (борцы) ескерткіші орналасқан. Бұл батырлардың атын атаңыз.	
3			1. Бұл объектінің Франциядағы шетелдік ұқсас объектісін атаңыз. 2. Бұл объект қандай шығанақтың жағалауында орналасқан?	
4			1. Бұл объект бұл тайпаның саяси және мәдени орталығы болған 2. Бұл объект қай түбекте орналасқан? 3. Қандай халықаралық ұйым бұл объектіні әлемдік және мәдени мұра деп қабылдады ?	
5			1. Бұл объектінің максималды тереңдігін атаңыз. 2. Шығу тегі бойынша Африка континентіндегі ұқсас объектілерді атаңыз. (екеуден кем емес)	

Әрбір дұрыс елге және дұрыс объектіге 1балл. Сұрақтарға берілген әрбір дұрыс жауапқа 2 балл. Жалпы 30 балл

Барлығы: 50 балл