

МУЛЬТИМЕДИЯЛЫҚ ТУР

География пәнінен Республикалық пәндік олимпиада
18-21 сәуір 2022 ж.



МУЛЬТИМЕДИЯЛЫҚ ТУРДЫҢ ЕРЕЖЕЛЕРІ

- ✘ Мультимедиялық тур 40 сұрақтан тұрады.
- ✘ Әр сұраққа 5 таңдау беріледі, солардың тек біреуі дұрыс жауап.
- ✘ Тестінің 15 сұрағы ағылшын тілінде құрастырылған.
- ✘ Әр сұраққа мұқият назар аударыңыз.
- ✘ Әр сұраққа **1 минут** уақыт беріледі.
- ✘ Әр дұрыс жауапқа – 1 ұпайдан.
- ✘ Жауап парақшаларында әр дұрыс жауапты дөңгелекпен белгілеңіз, қате болған жағдайда жауапты сызып тастаңыз және сіздің таңдауыңыз бойынша дұрыс деп ойлайтын жауабыңызды белгілеңіз.

СӘТТІЛІК !!!



№ 1 СҰРАҚ

А әрпімен белгіленген литосфералық қозғалыс түрін атаңыз ?

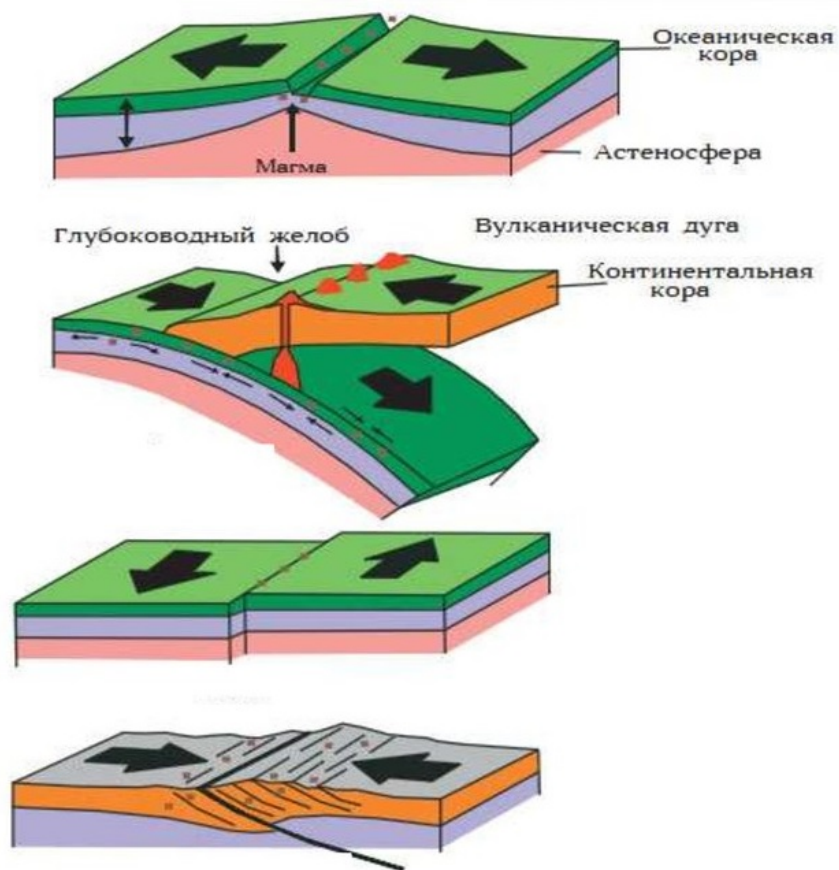
А. субдукция

В. коллизия

С. спрединг

Д. шөгу

Е. рифтинг



A

B

C

D

№ 2 СҰРАҚ

Төмендегі аэрофотосуретте қандай геологиялық құрылым бейнеленген?



- А. метеоритті кратер В. Жанартаулық кальдера
С. эрозияланған антиклин Д. эрозияланған синклин Е. кар

QUESTION № 3

Using Table 1 which continent has the most megacities?

A. Africa

B. Asia

C. North America

D. South America

E. Australia

Table 1: The world's largest cities in 2018 with predicted growth

2018 rank	City	Population (thousands)	
		2018	2030
1	Tokyo, Japan	37,468	36,574
2	Delhi, India	28,514	38,939
3	Shanghai, China	25,852	32,869
4	São Paulo, Brazil	21,650	23,824
5	Mexico City, Mexico	21,581	24,111
6	Cairo, Egypt	20,076	25,517
7	Mumbai, India	19,980	24,572
8	Beijing, China	19,618	24,282
9	Dhaka, Bangladesh	19,578	28,076
10	Osaka, Japan	19,281	18,658

№ 4 СҰРАК

Мына фотосуреттерде қандай байырғы халық көрсетілген?


А. аймара

В. инуит

С. чаморро

Д. туарег

Е. саамдар



QUESTION № 5

This is a Nauru island. In the late 20th century it boasted an income per head above that of the USA due to rich resources of phosphates. These have now become exhausted and the people are struggling to survive. How we can call such type of economy?

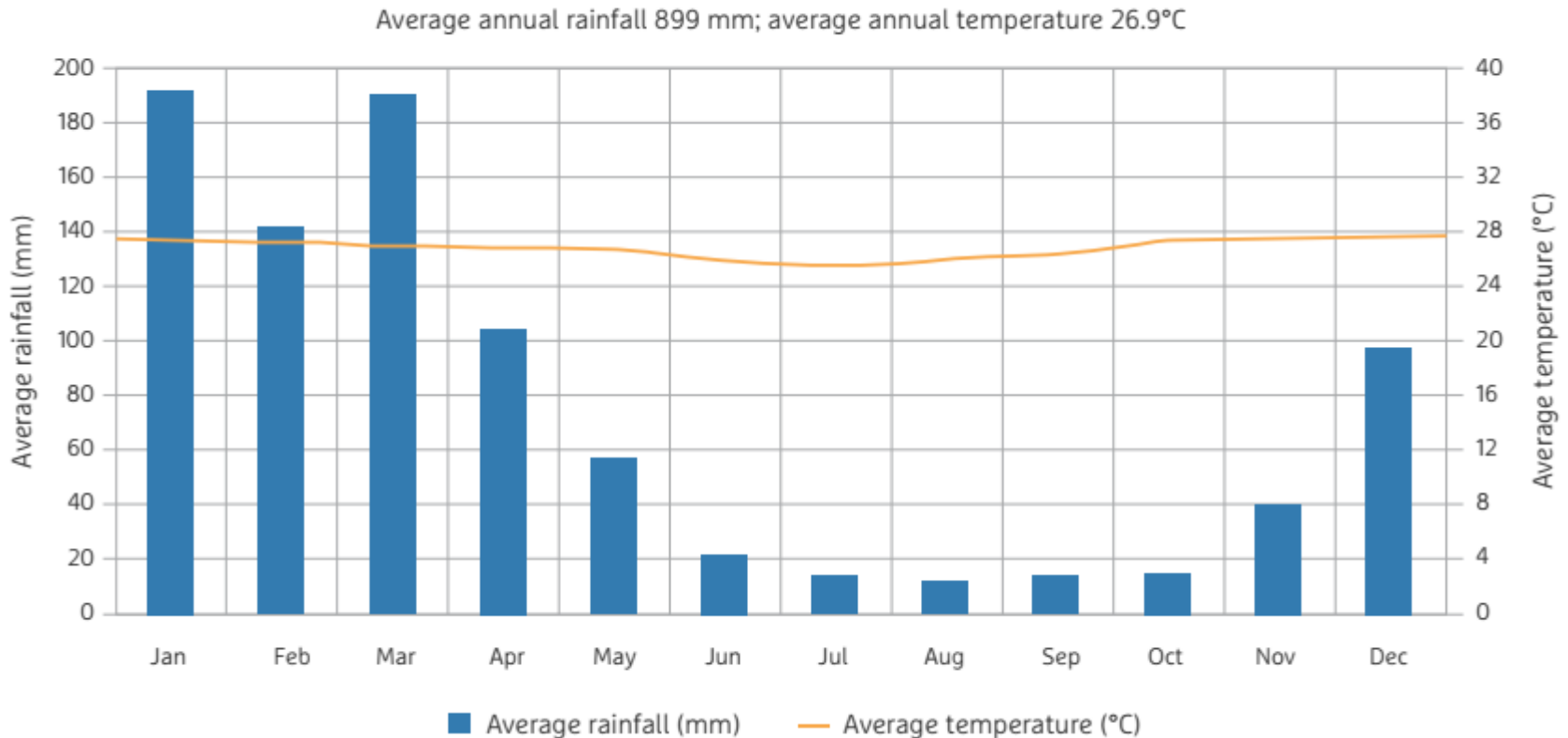


- A. sustainable economy
- B. mixed economy
- C. market economy
- D. robber economy
- E. no correct answer

QUESTION № 6

Approximately how much rainfall does Port Moresby receive in its driest 4 months?

- A. 11 mm B. 55 mm C. 104 mm D. 520 mm E. 180 mm



№ 7 СҰРАҚ

Қандай табиғат белдеуінде ұяшықты үгілу көп кездеседі ?

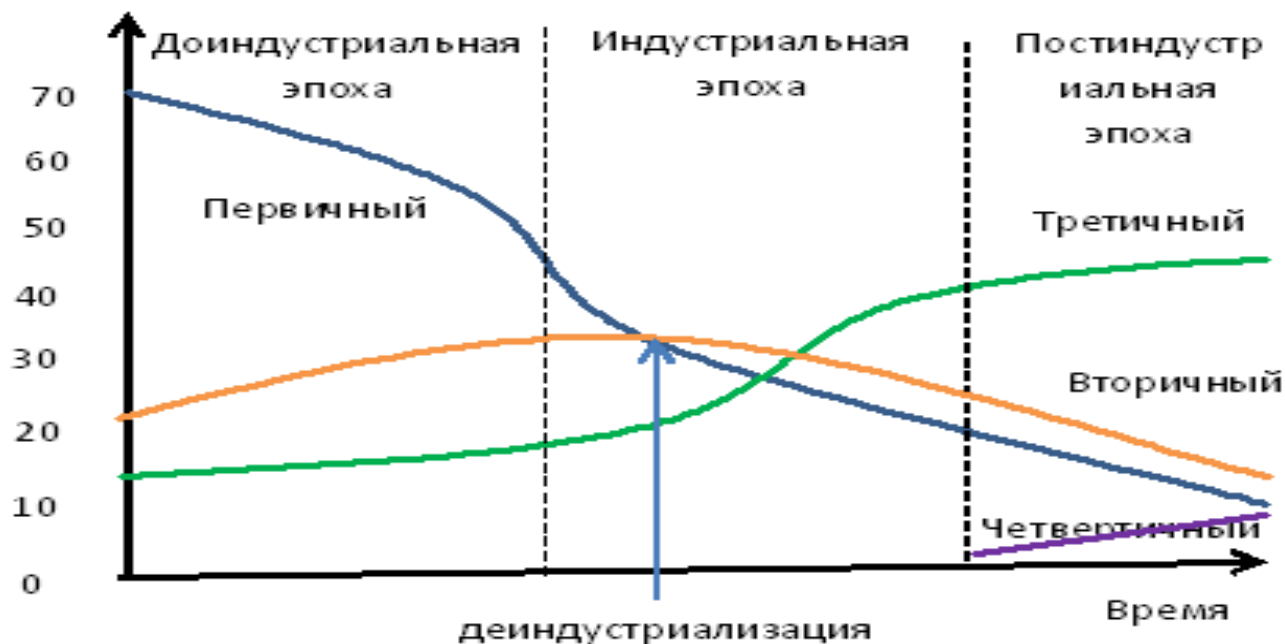


- A. тундра
- B. тайга
- C. шөл және шөлейт
- D. саванна
- E. ылғалды экваторлық ормандар

№ 8 СҰРАҚ

Кларк-Фишер моделінің осы нұсқасының қай тармағына қарапайым балық шаруашылығы кіреді?

Структура занятости по секторам экономики, в %



А. бірінші

В. екінші

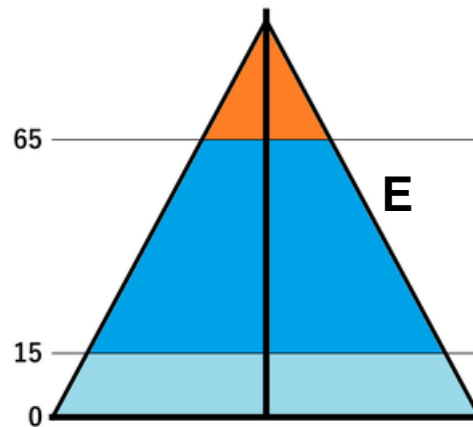
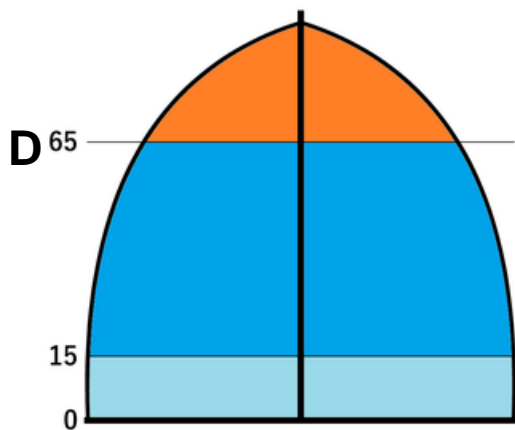
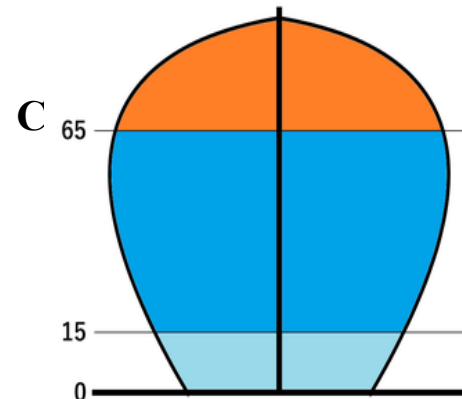
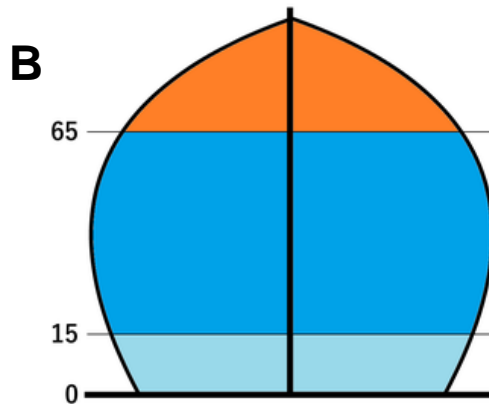
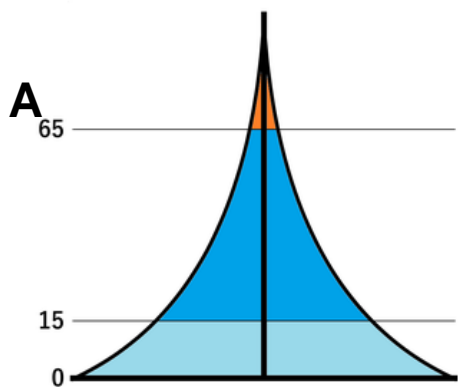
С. үшінші

Д. төртінші

Е. ешқайсысында

№ 9 СҰРАҚ

Демографиялық ауысудың 2 кезеңін анықтаңыз?



A.A

B.B

C.C

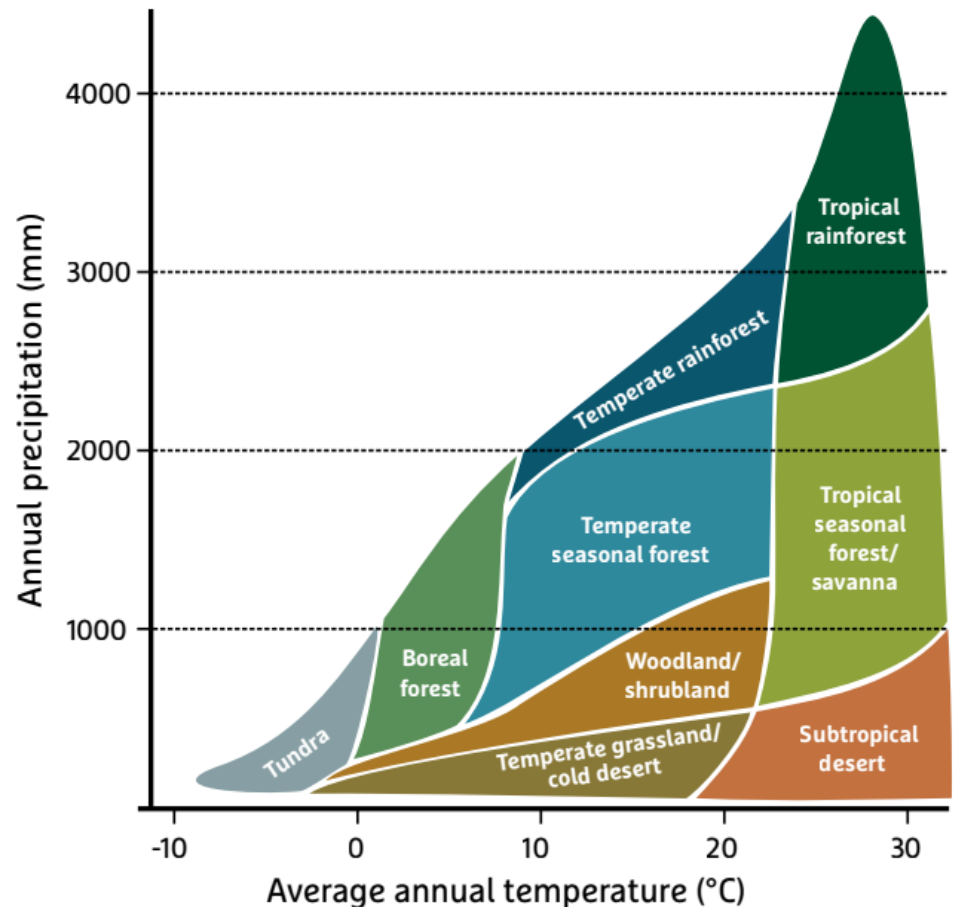
D.D

E.E

QUESTION № 10

Considering the temperature and rainfall in Figure on Question 6 Port Moresby is in which biome in Figure below?

- A. temperate rainforest
- B. temperate seasonal forest
- C. tropical rainforest
- D. tropical seasonal forest /savannah
- E. boreal forest



№ 11 СҰРАҚ

Суреттерде қандай қауіпті табиғи құбылыс бейнеленген?



А.сулой В. гиперган С. лахар
D. Наруто су иірімі Е. мурмурация

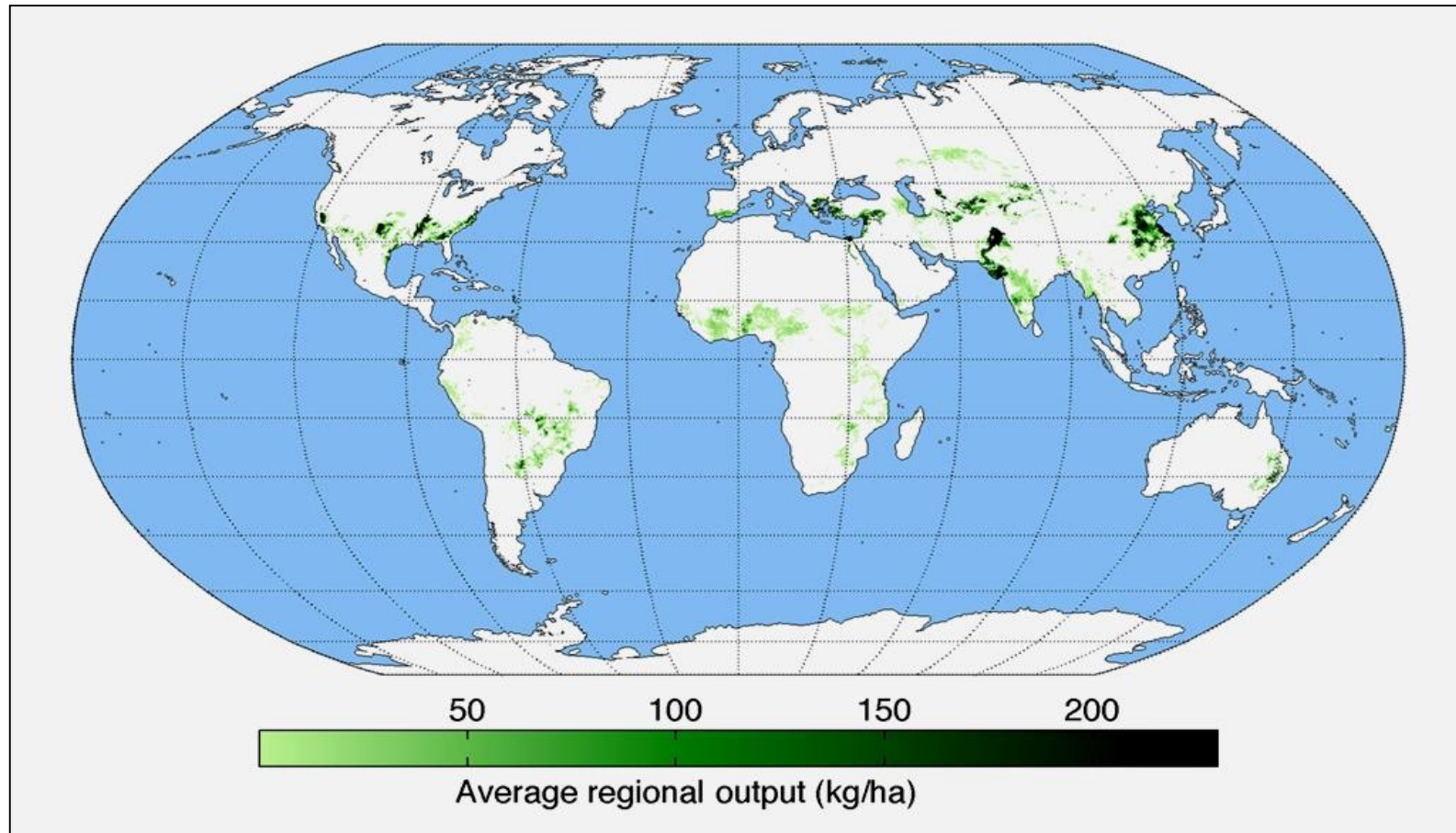
№ 12 СҰРАҚ

«Танатотуризм» ұғымына қандай сурет ең жақсы сәйкес келеді?



№ 13 СҰРАҚ

Картада ... негізгі өндірушілері болып табылатын аймақтар көрсетілген.



А. алма

В. банан

С.цитрус

Д.мақта

Е.кофе

QUESTION № 14

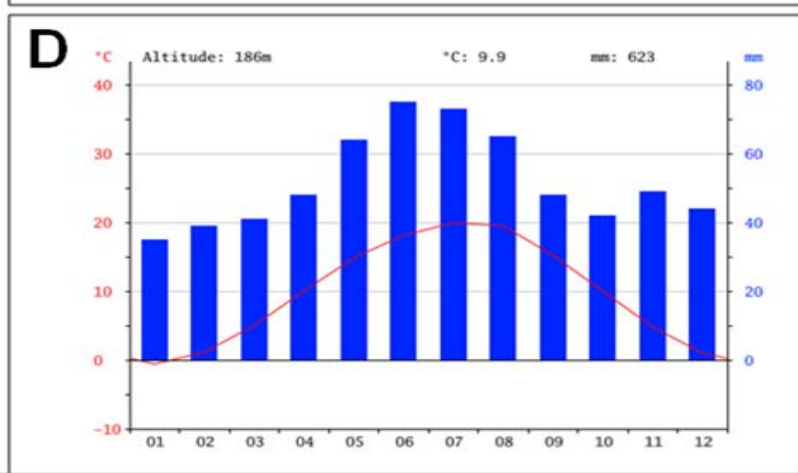
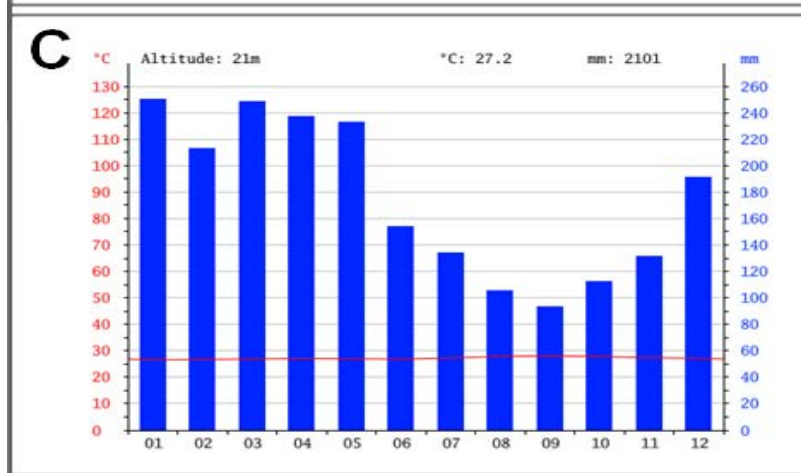
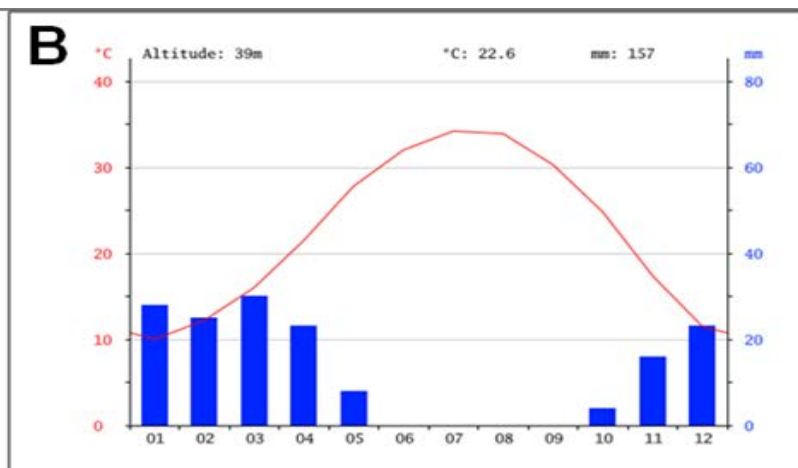
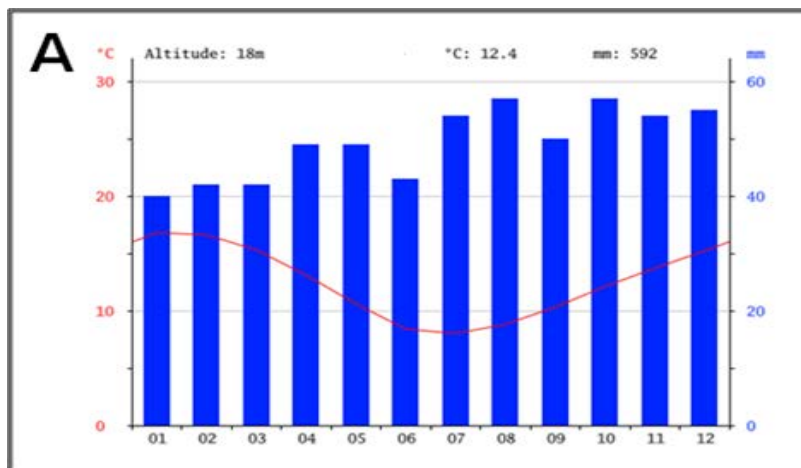
What is the reason of coral bleaching?



- A. low light due to cloudcover
- B. sea temperature increase
- C. increases intourist numbers
- D. overfishing
- E. when they get older they start blenching

№ 15 СҰРАҚ

Ылғалды тропикалық орманға қандай климатограмма сәйкес келеді?



A. A

B. B

C. C

D. D

E. Барлық жауаптар дұрыс

№ 16 СҰРАҚ

... 7-12 мың жыл бұрын қазіргі Мексика аумағында пайда болды. Біржылдық шөп тұқымдас мәдени өсімдік. Бұл өсімдіктің ең ірі импорттаушылары-Жапония, Мексика және Қытай. Мәдениетті атаңыз.

А.бидай В.фасоль С.жүгері
D.қызанақ Е. чили бұрышы

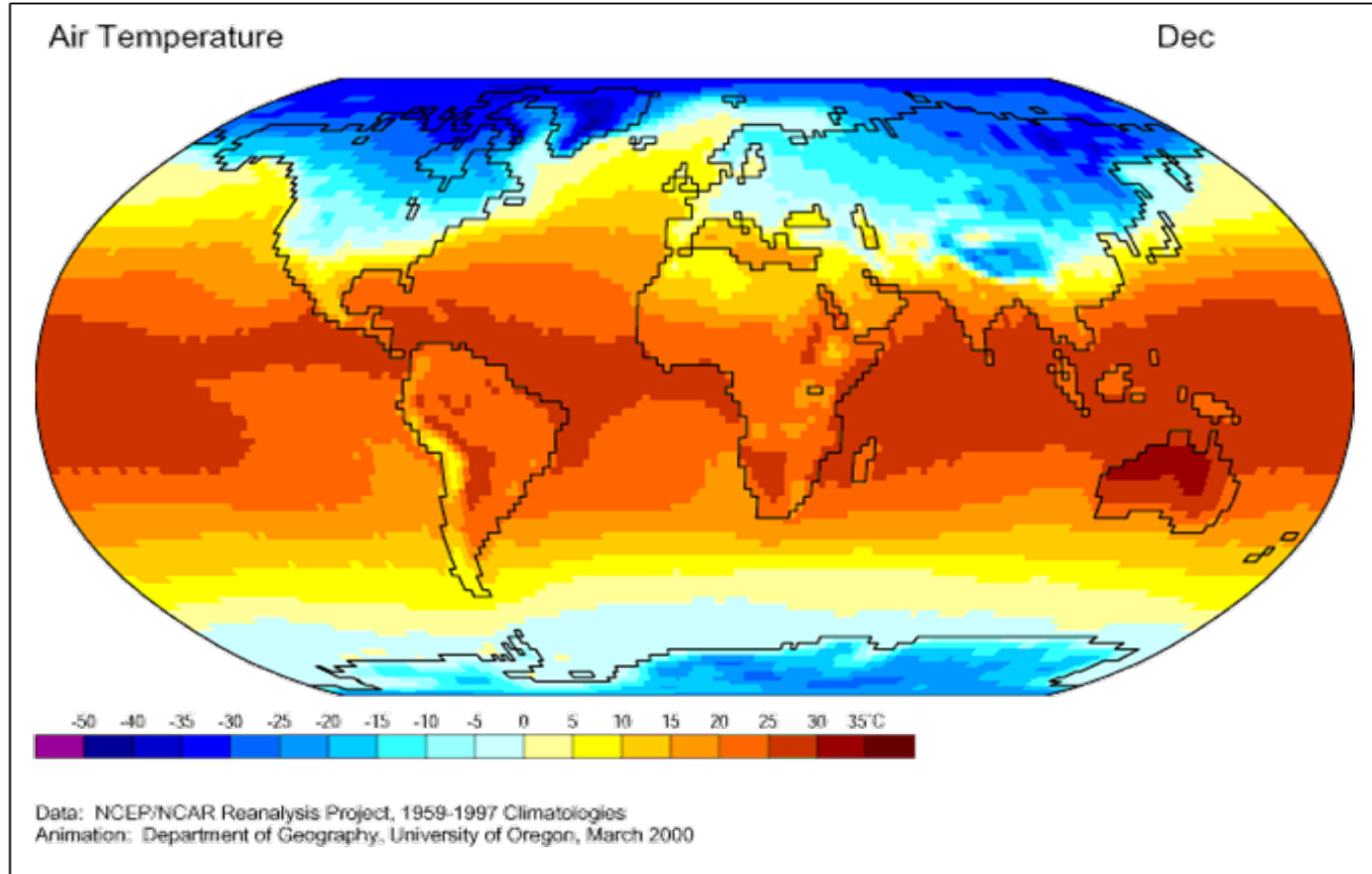
2019 ж. бойынша үздік 5 өндіруші ел

(АҚШ ауыл шаруашылығы министрлігінің мәліметтері бойынша (млн тонн)

АҚШ	347
Қытай	254
Бразилия	101
ЕО	64,56
Аргентина	54

QUESTION № 17

Which factor is the most important to explain the temperature differences shown in this map?



- A. continentality
- B. ocean currents
- C. Earth rotation
- D. environmental pollution
- E. latitude

№ 18 СҰРАҚ

ЮНЕСКО-ның Бүкіләлемдік мұралар тізіміне кіретін қазақстандық екі қорықтың бірі. Қорық 1968 жылы құстардың көптеген түрлерінің мекендейтін бірегей сулы-батпақты жерлерін сақтау үшін құрылған. Қазақстанның қай қорығы туралы баяндалып жатқанын анықтаңыз.



А. Алакөл В. Барсакелмес С. Қорғалжын
D. Марқакөл Е. Наурызым

№ 19 СҰРАҚ

Берілген мәліметтерге сәйкес топырақ түрін анықтаңыз:

Алып жатқан аумағы	25,5 млн га немесе Қазақстан аумағының 9,5%
Облыстар	Солтүстік Қазақстан облысы, Қостанай, Ақмола, Павлодар, Ақтөбе және БҚО көп бөлігі

- А. құба (бурые)
- В. сұр-құба (серо-бурые)
- С. қоңыр (каштановый)
- Д. қара (черноземы)
- Е. қошқыл (коричневые)

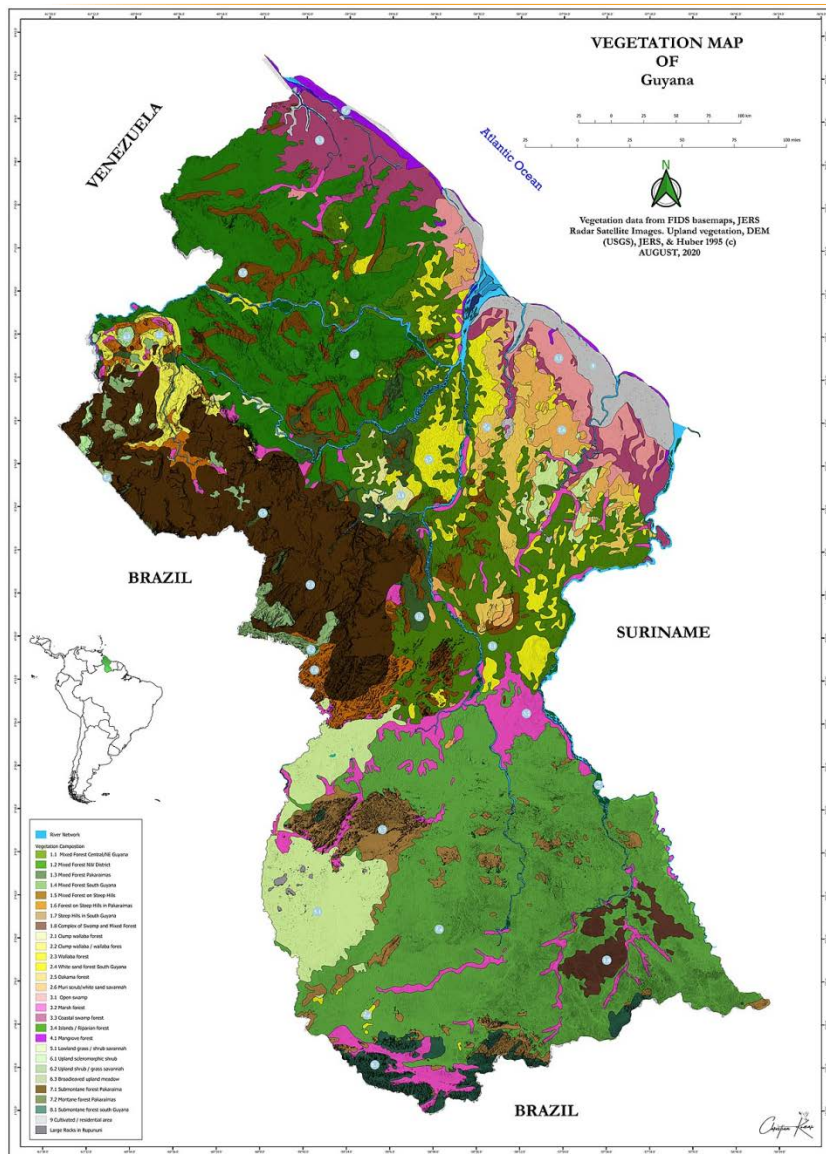


QUESTION № 20

Based on photos and information below find out the country in 14 century this country called «Land of million of elephants and a white umbrella». Population 7,2 million.



- A. Laos B. Thailand C. Myanmar
D. Vietnam E. Indonesia



Бұл картада картографиялық кескіннің қандай тәсілі қолданылады?

- A. ареалдар тәсілі
- B. сапалы Фон тәсілі
- C. сандық Фон тәсілі
- D. картограмм тәсілі
- E. нүктелік тәсіл

№ 22 СҰРАҚ

Суретте бұрмалану сипаты бойынша проекцияның қандай түрі көрсетілген?

- A. цилиндрлік теңшамалы
- B. жалған цилиндрлік
- C. конустық теңшамалы
- D. поликонустық
- E. азимуттық теңаралық



QUESTION № 23

Canadian business jet manufacturer. It was also formerly a manufacturer of commercial jets, public transport vehicles, trains, and recreational vehicles?

- A. Airbus
- B. Boeing
- C. Embraer
- D. Aeromot
- E. Bombardier



№ 24 СҰРАҚ

Ат ендіктері (конские широты) ?

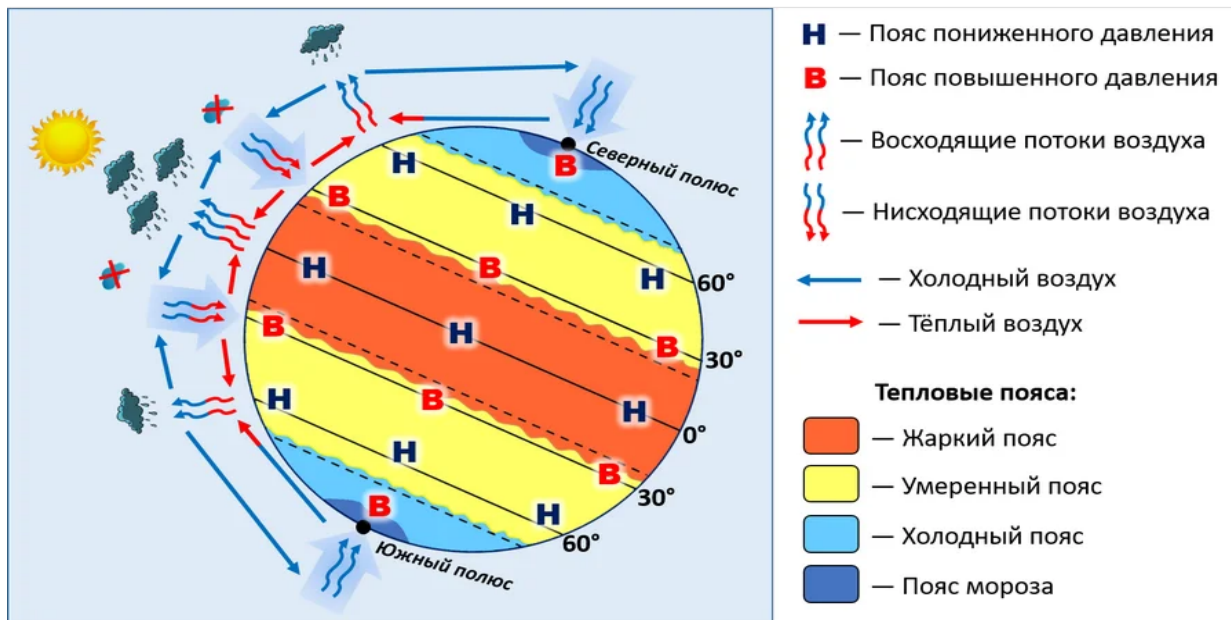
А. Экватордың солтүстігі мен оңтүстігінде 10 және 25° арасында орналасқан ендіктер

В. 30-35° солтүстік пен оңтүстік арасындағы субтропиктік ендіктер

С. Жердің оңтүстік жарты шарындағы 40° пен 50° ендік аралығындағы мұхиттық кеңістік

Д. Жердің оңтүстік жарты шарындағы 50° пен 60° ендік аралығындағы, Антарктидаға жақын орналасқан кеңістіктер

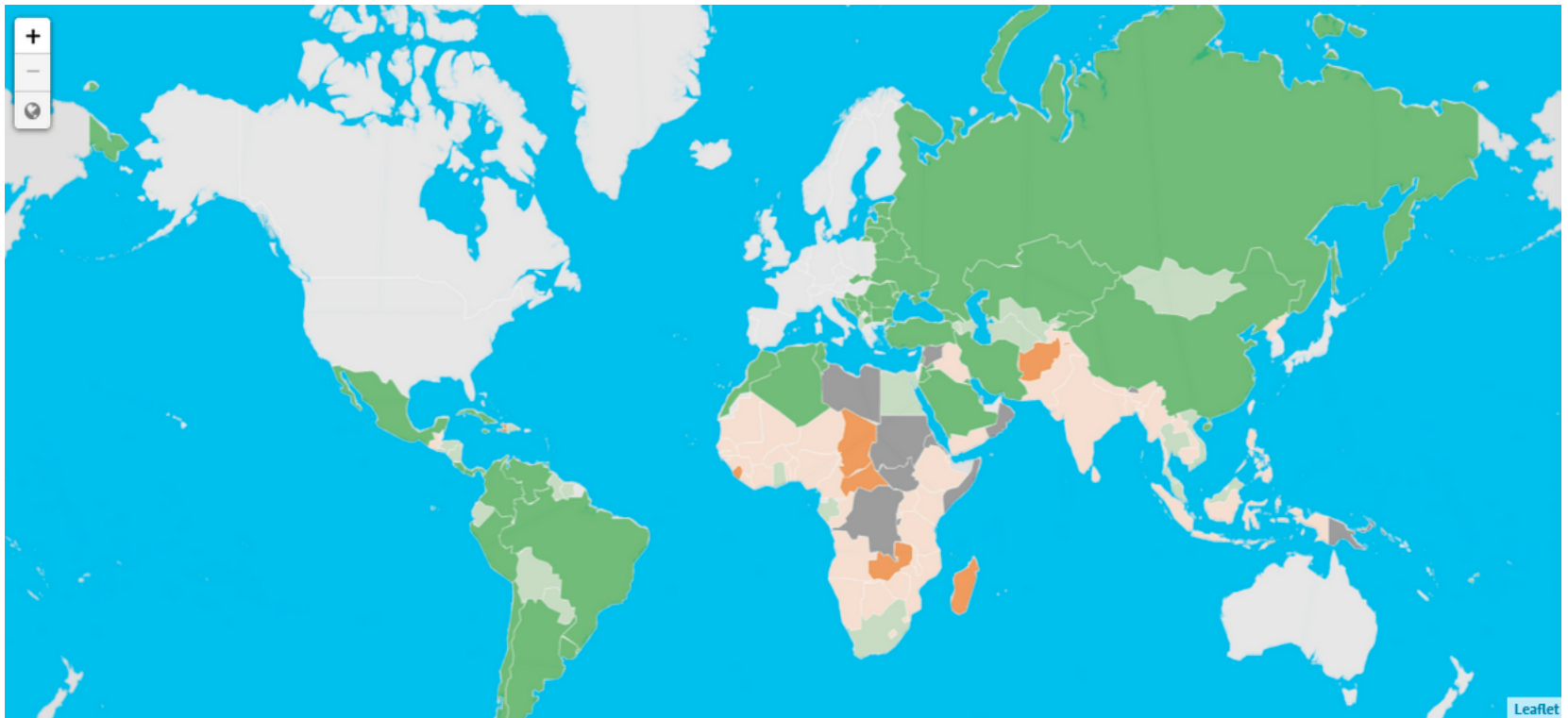
Е. 60° және 70° с. е. аралығындағы субарктикалық ендіктер



QUESTION № 25

What indicator does the map represent?

- A. gender inequality
- B. lack of medicine
- C. climate change
- D. malnutrition and hunger
- E. drinking water shortage



Extremely alarming
 ≥ 50

Alarming
35.0-49.9

Serious
20.0-34.9

Moderate
10.0-19.9

Low
 ≤ 9.9

No data

Not calculated

№ 26 СҰРАҚ

Лаваның тез салқындауы нәтижесінде пайда болған магмалық тау жынысы. Негізгі минералдары: кварц және дала шпаты.

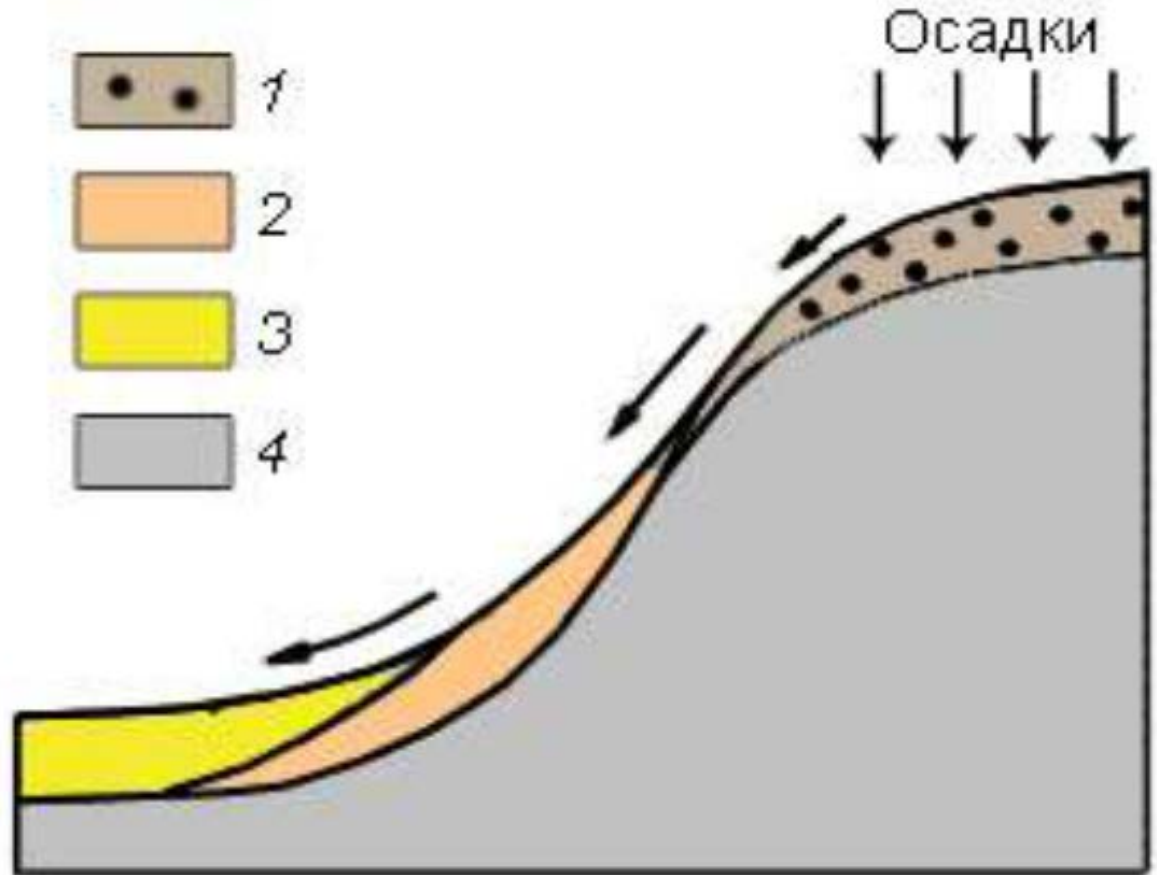
- А. боксит
- В. тақтатас
- С. обсидиан
- Д. берилл
- Е. опал



№ 27 СҰРАҚ

Шөгінділердің қандай түрі 3 санымен белгіленген?

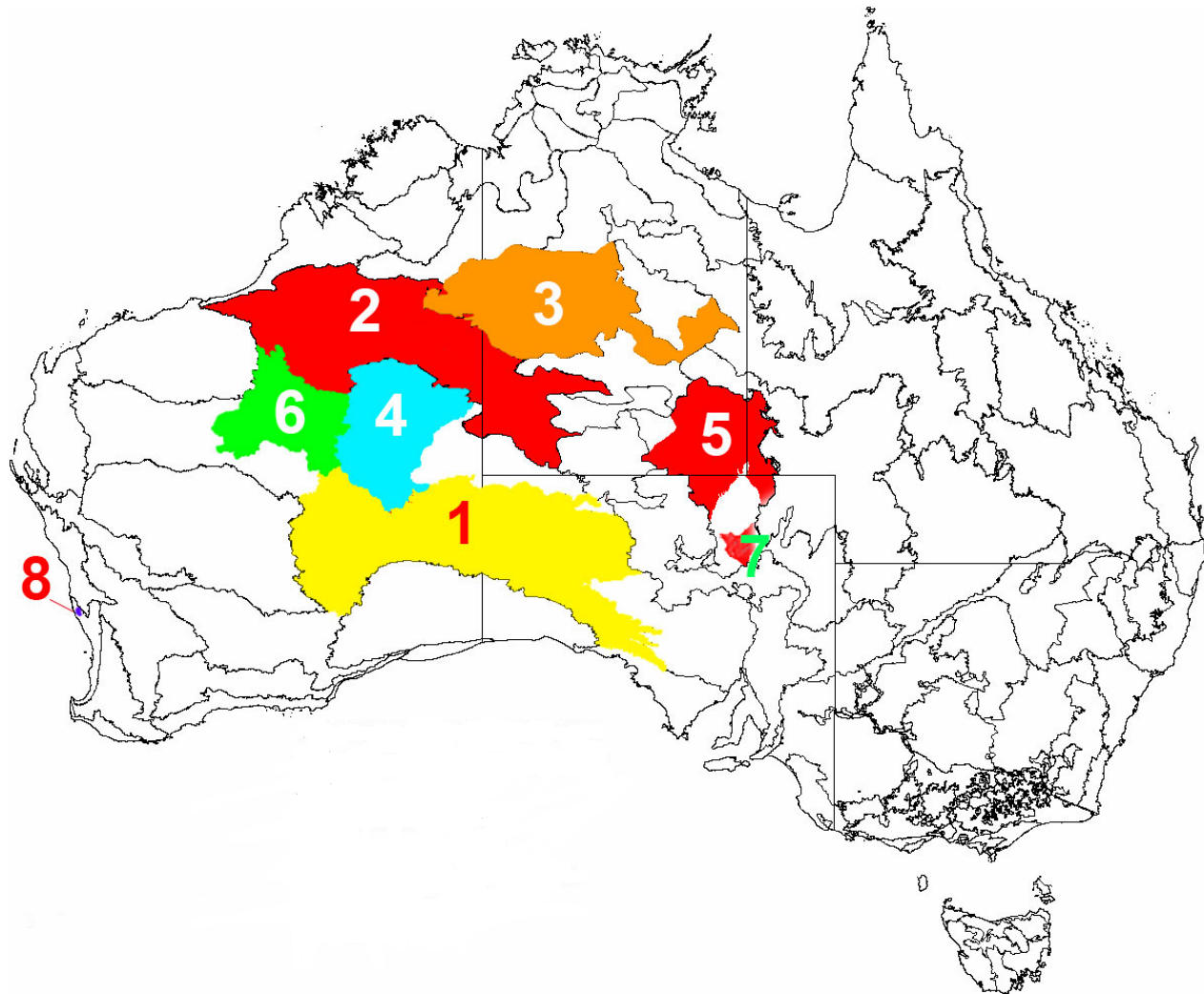
- А. элювий
- В. аллювий
- С. делювий
- Д. пролювий
- Е. иллювий



QUESTION № 28

Which number in the picture indicates the location of the Gibson Desert?

- A. 2
- B. 3
- C. 4
- D. 5
- E. 6



№ 29 СҰРАҚ

Бұл қорық Қазақстанның қай облысында орналасқан?

А. Қызылорда

В. Алматы

С. Шығыс Қазақстан

Д. Жамбыл

Е. Түркістан



№ 30 СҰРАҚ

Суреттерде мұздық бедерінің қандай формасы көрсетілген?

- A) нунатактар
- B) друмлиндер
- C) қоймандай тастар
- D) трог
- E) цирк



QUESTION № 31

Which of the picture corresponds to the term "cuesta"?

- A. A
- B. B
- C. C
- D. D
- E. E



A



B



C



D



E

№32 СҰРАҚ

Норвегия жағалауларын қай теңіз шайып жатқан жоқ?

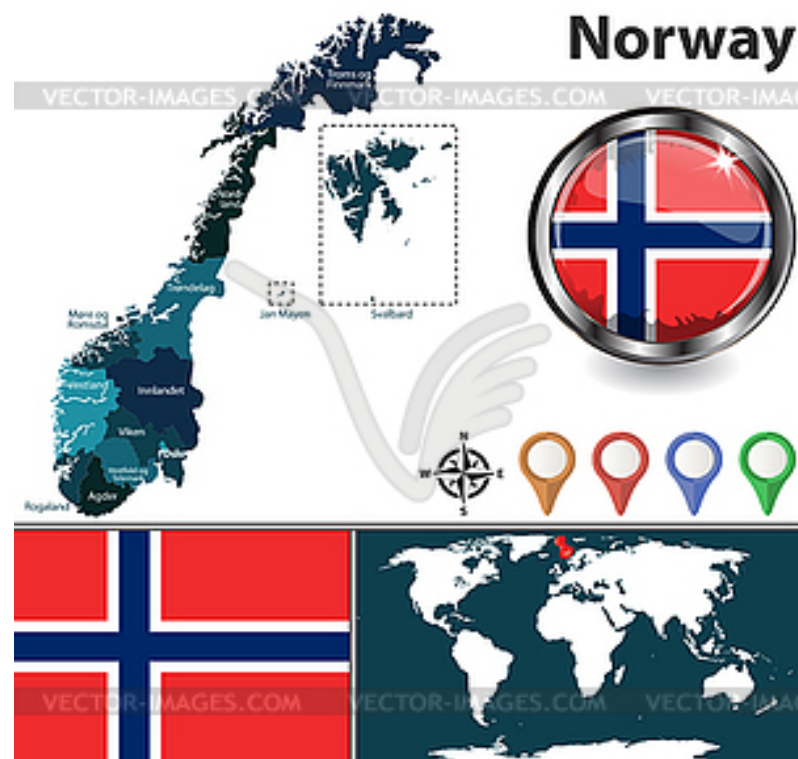
A. Балтық

B. Солтүстік

C. Баренц

D. Норвег

E. Барлық теңіздер Норвегияны шайып жатыр



№33 СҰРАҚ

Суреттер қандай діни ағымды білдіреді?

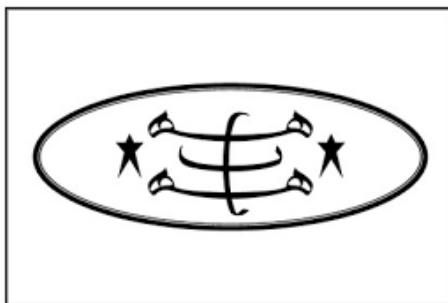


A. Мазһабтар

B. Баһаи

C. Копттар

D. Баптистер

E. Друздар



QUESTION № 34

Which lithospheric plate is indicated by the number 3 in the picture?

A. Scotia

B. Vinson

C. Cocos

D. Nazca

E. Drake



№ 35 СҰРАҚ

Төменде келтірілген көрікті жерлер қай облысқа тән?

А. Ақтөбе В. Ақмола

С. Павлодар Д. Қарағанды


Е. Жамбыл



№ 36 СҰРАҚ

Төменде көрсетілген елдер қандай критерийлер бойынша біріктірілген:

- А. дамушы елдер
- В. мұнай экспорттаушы елдер
- С. аралдық елдер
- Д. құрлықшілік елдер
- Е. монархиялық елдер



QUESTION № 37

The picture shows endemics of one country. Name the capital?

- A. Brasilia
- B. Windhoek
- C. Jakarta
- D. Bangkok
- E. Suva



QUESTION № 38

Which country is not a member of ECOWAS (Economic Community of West African country) ?

- A. Benin B. Togo C. Mali
D. Cameroon E. Ghana



№ 39 СҮРАК

Суретте кай өзен көрсөтүлгөн?

А. Лена

В. Колыма

С. Енисей

Д. Анадыр

Е. Индигирка



QUESTION № 40

Which of the following cities is located north of the others?

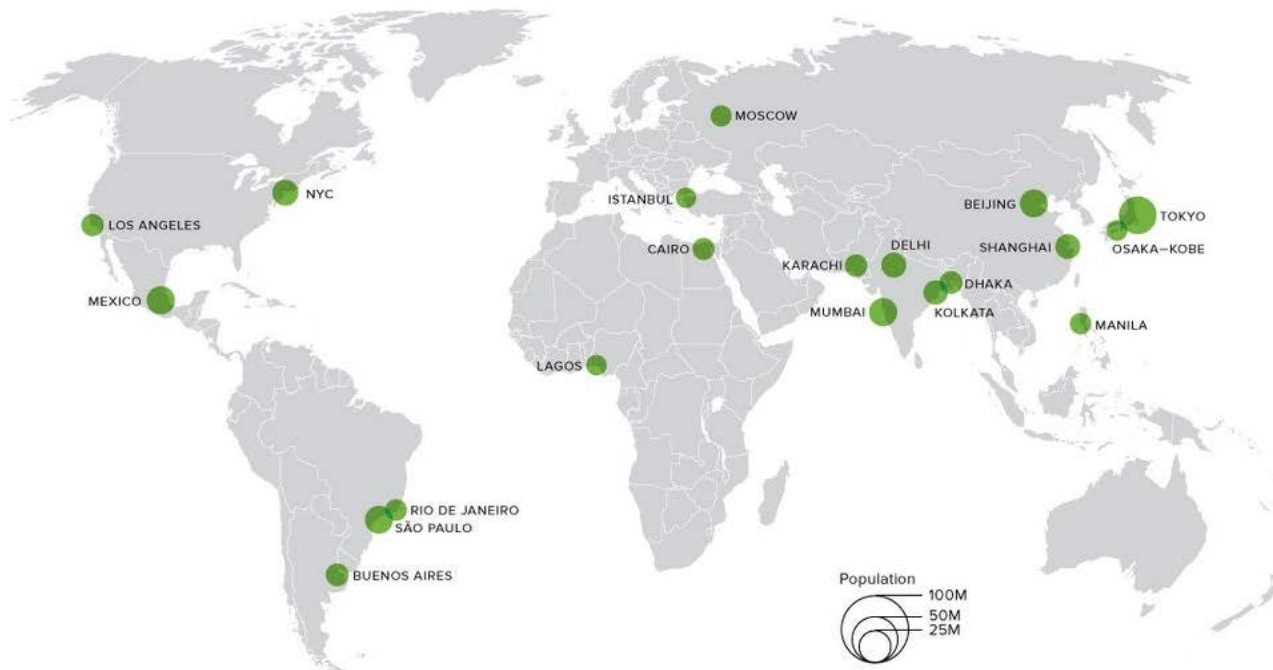
A. Washington

B. Madrid

C. Sapporo

D. Beijing

E. Ankara



Тест аяқталды!



МУЛЬТИМЕДИЙНЫЙ ТУР

Республиканской предметной олимпиады по географии,
18-21 апреля 2022 г.



ПРАВИЛА МУЛЬТИМЕДИЙНОГО ТУРА

- ✘ Мультимедийный тур состоит из 40 вопросов.
- ✘ На каждый вопрос дается 5 вариантов ответов, только один из них правильный.
- ✘ 15 вопросов тестов составлены на английском языке.
- ✘ Вникайте в каждый вопрос внимательно.
- ✘ На каждый вопрос дается **1 минута**.
- ✘ За каждый правильный ответ – 1 балл.
- ✘ В листах ответов обведите правильный ответ кружком, если вы сделали ошибку, зачеркните ответ и обведите кружком правильный новый ответ по вашему мнению.

УДАЧИ!!!



ВОПРОС № 1

Назовите вид литосферного движения под обозначением А?

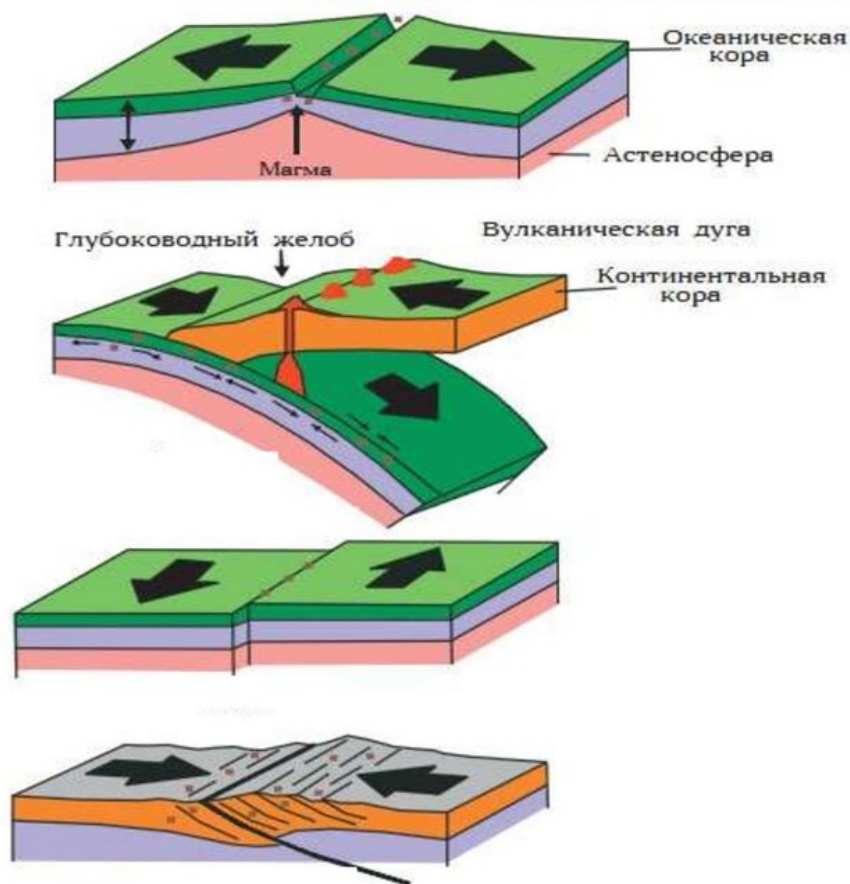
А. субдукция

В. коллизия

С. спрединг

Д. сдвиг

Е. рифтинг



A

B

C

D

ВОПРОС № 2

Какое геологическое строение изображено на данной аэрофотоснимке?



А. метеоритный кратер В. Вулканическая кальдера С. эродированная антиклиналь Д. эродированная синклиналиль Е. кар

QUESTION № 3

Using Table 1 which continent has the most megacities?

A. Africa

B. Asia

C. North America

D. South America

E. Australia

Table 1: The world's largest cities in 2018 with predicted growth

2018 rank	City	Population (thousands)	
		2018	2030
1	Tokyo, Japan	37,468	36,574
2	Delhi, India	28,514	38,939
3	Shanghai, China	25,852	32,869
4	São Paulo, Brazil	21,650	23,824
5	Mexico City, Mexico	21,581	24,111
6	Cairo, Egypt	20,076	25,517
7	Mumbai, India	19,980	24,572
8	Beijing, China	19,618	24,282
9	Dhaka, Bangladesh	19,578	28,076
10	Osaka, Japan	19,281	18,658

ВОПРОС № 4

Какое коренное население представлено на фотографиях?

А. аймара

В. инуиты

С. чаморро

Д. туареги

Е. саамы



QUESTION № 5

This is a Nauru island. In the late 20th century it boasted an income per head above that of the USA due to rich resources of phosphates. These have now become exhausted and the people are struggling to survive. How we can call such type of economy?

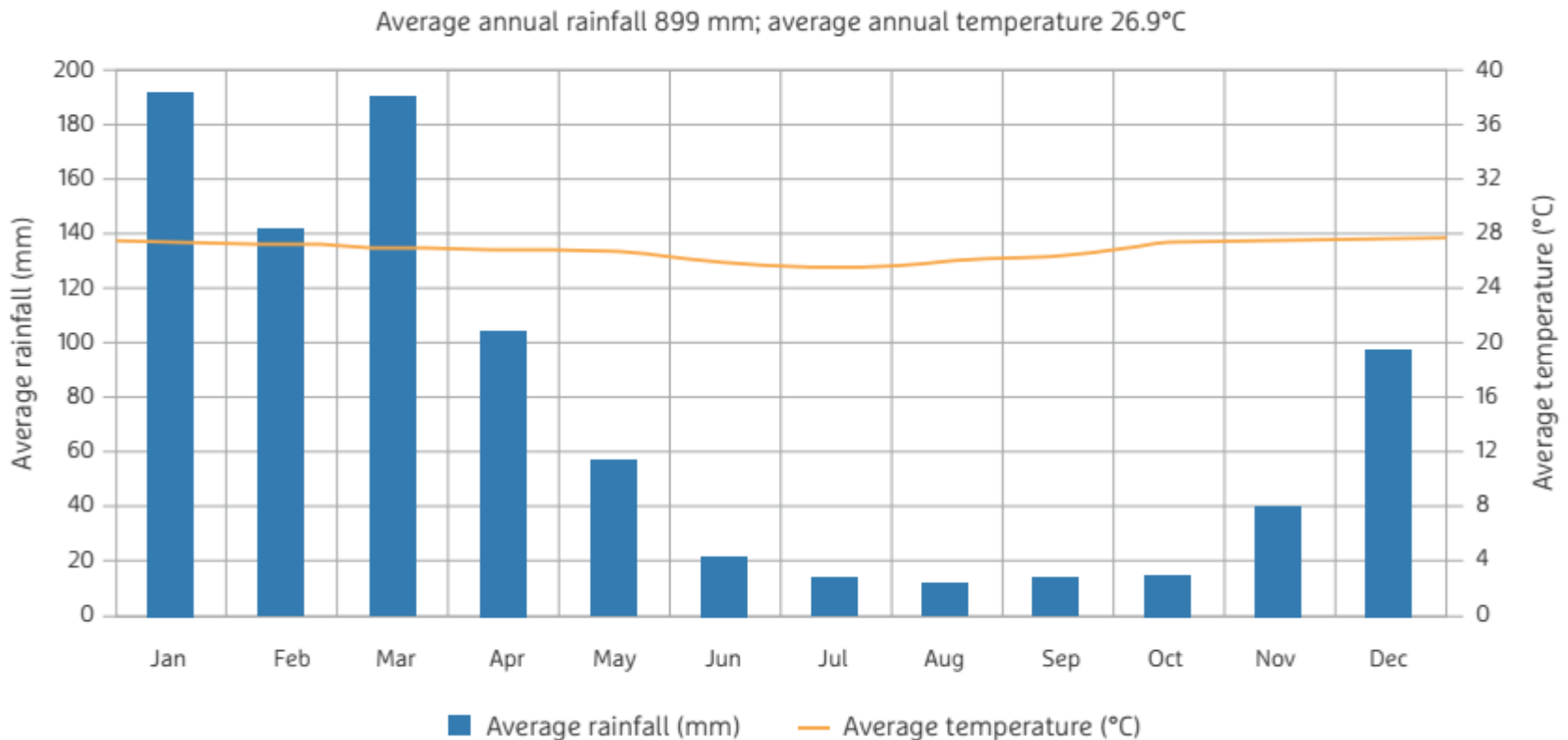


- A. sustainable economy
- B. mixed economy
- C. market economy
- D. robber economy
- E. no correct answer

QUESTION № 6

Approximately how much rainfall does Port Moresby receive in its driest 4 months?

- A. 11 mm B. 55 mm C. 104 mm D. 520 mm E. 180 mm



ВОПРОС № 7

В какой природной зоне встречается обильное ячеистое выветривание?

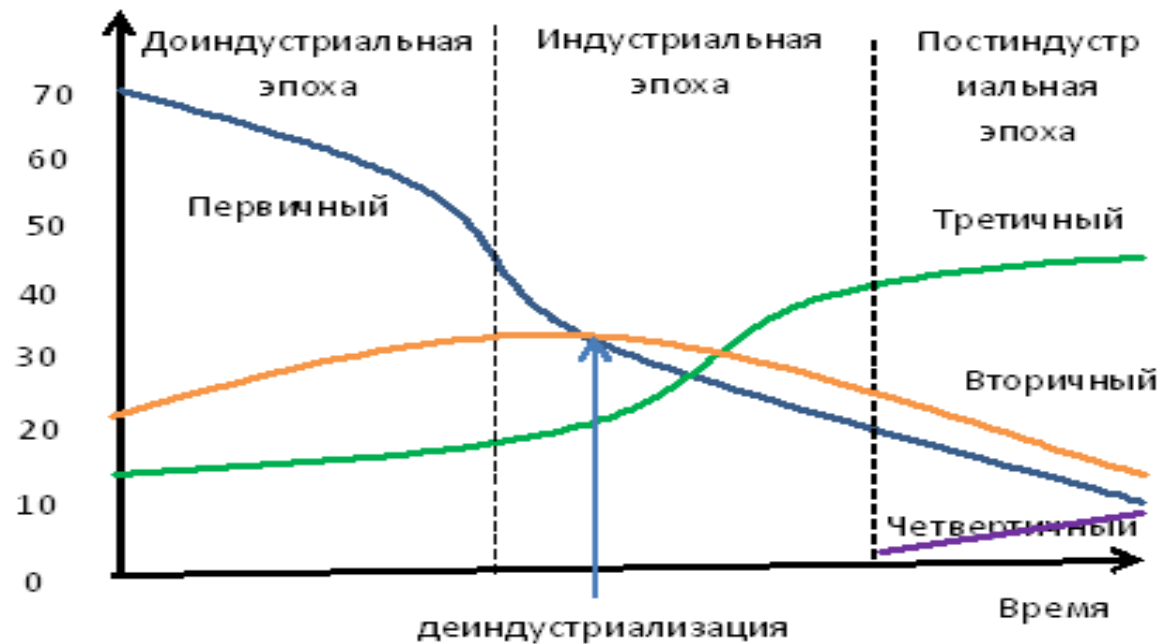


- А. тундра
- В. тайга
- С. пустыни и полупустыни
- Д. саванна
- Е. влажные экваториальные леса

ВОПРОС № 8

В какую строку этой версии модели Кларка-Фишера включено примитивное рыбное хозяйство?

Структура занятости по секторам экономики, в %



А. первичный

В. вторичный

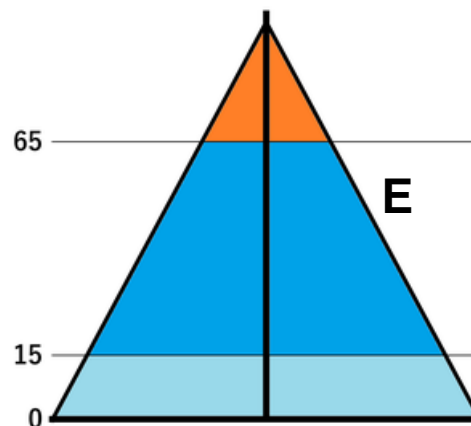
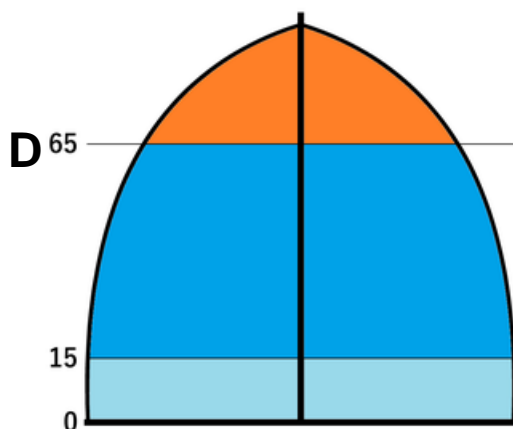
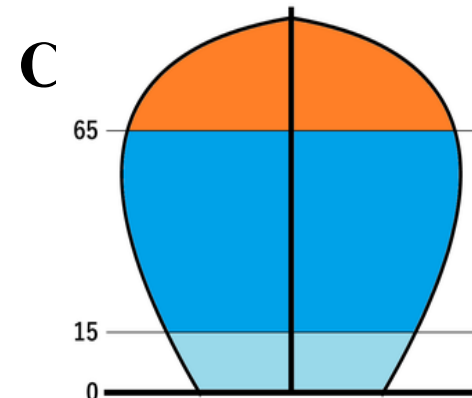
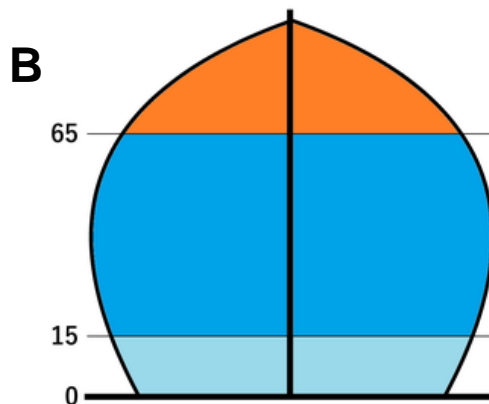
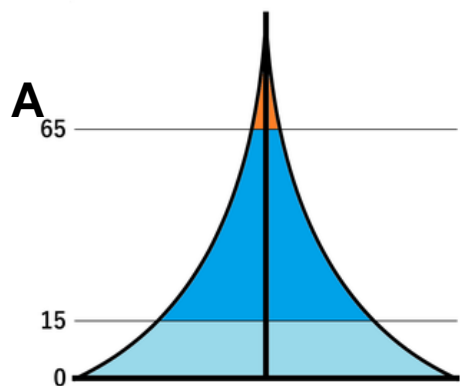
С. третичный

Д. четвертичный

Е. ни в одной

ВОПРОС № 9

Среди предложенных определите 2 фазу демографического перехода?



A.A

B.B

C.C

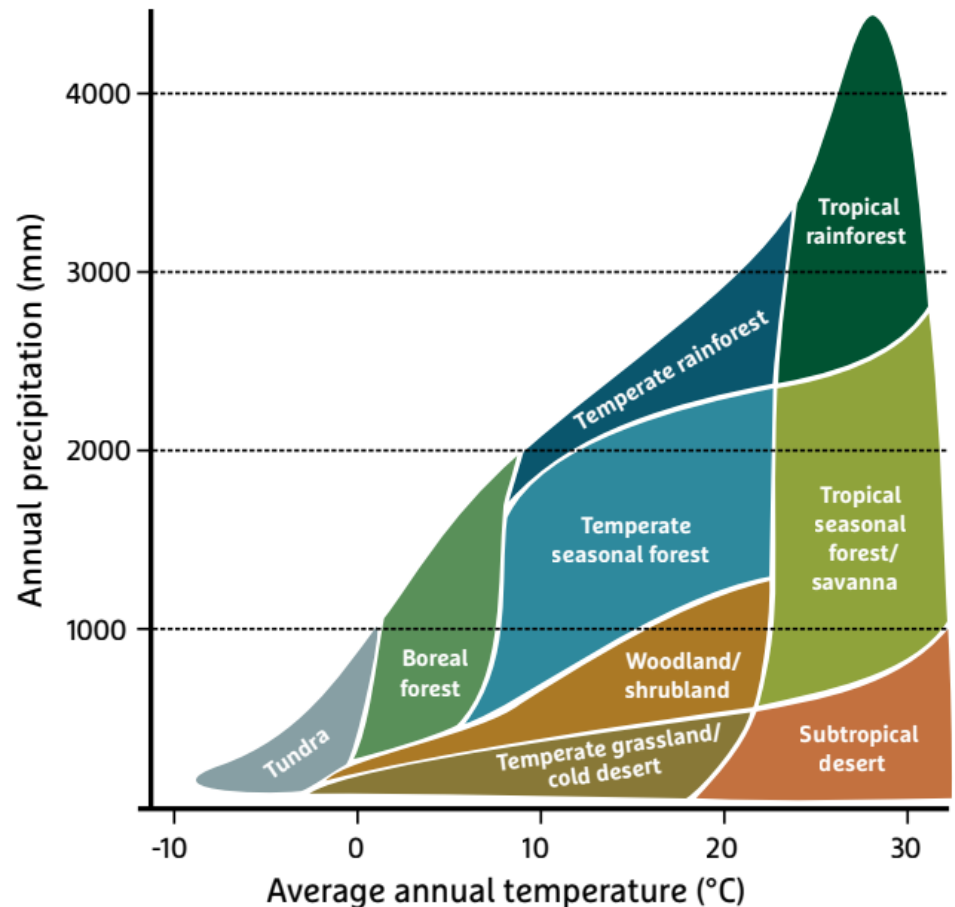
D.D

E. E

QUESTION № 10

Considering the temperature and rainfall in Figure on Question 6 Port Moresby is in which biome in Figure below?

- A. temperate rainforest
- B. temperate seasonal forest
- C. tropical rainforest
- D. tropical seasonal forest /savannah
- E. boreal forest



ВОПРОС № 11

Какое опасное природное явление представлено на рисунках?



А.сулой В. гиперган С. лахар

Д. водоворот Наруто Е. мурмурация

ВОПРОС № 12

Какой рисунок лучше всего соответствует понятию «танатотуризм»?



A. A

B. B

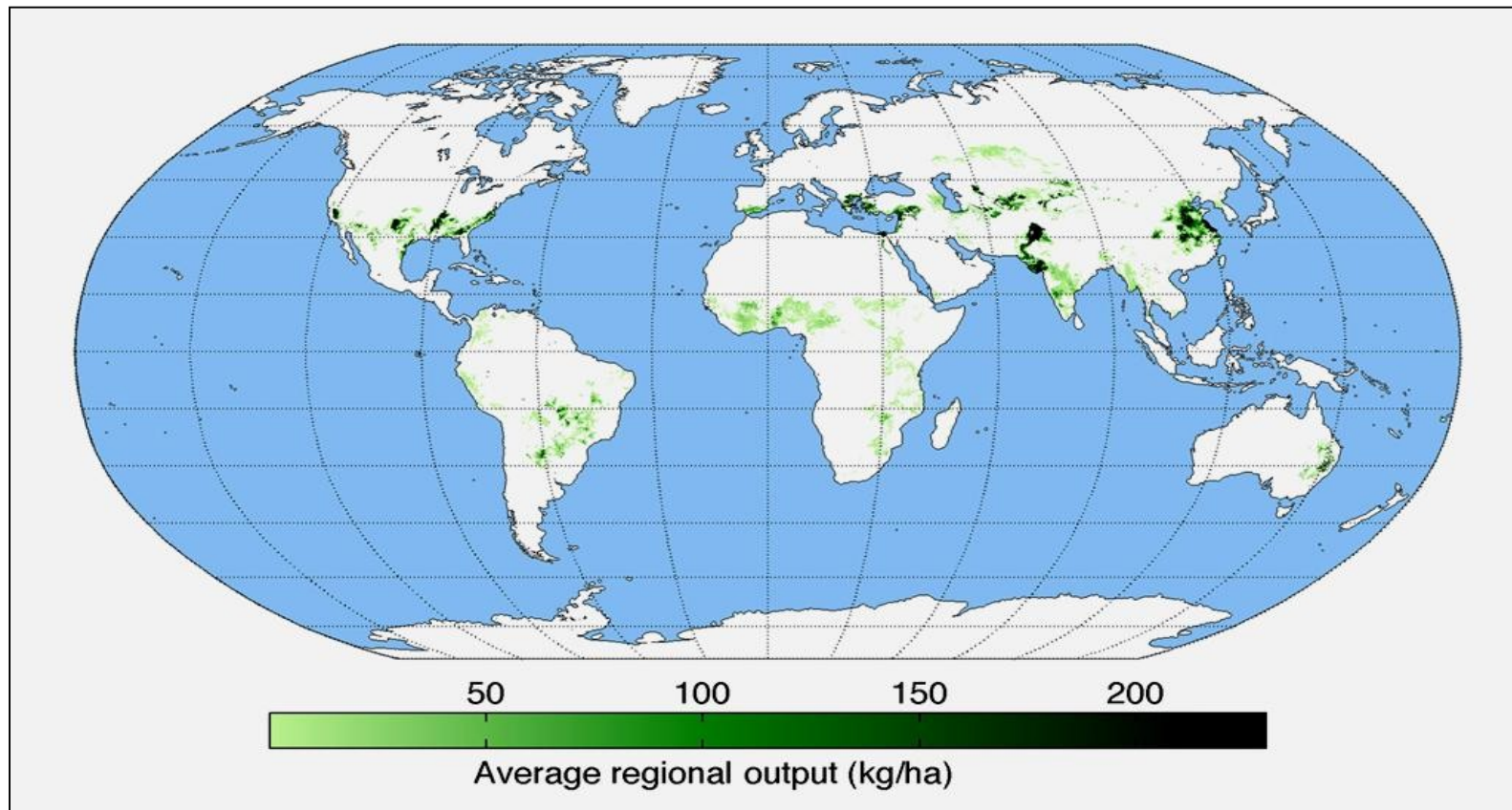
C. C

D. D

E. ни один

ВОПРОС № 13

На карте показаны регионы, которые являются основными производителями:



А. яблоки В. бананы С.цитрус Д.хлопок Е.кофе

QUESTION № 14

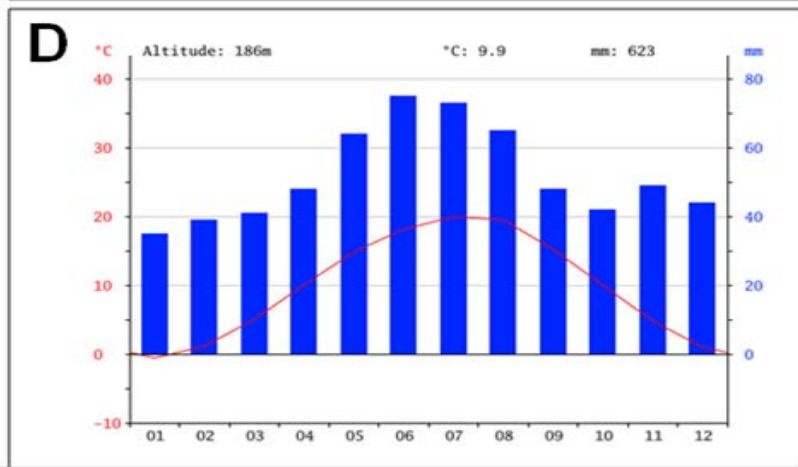
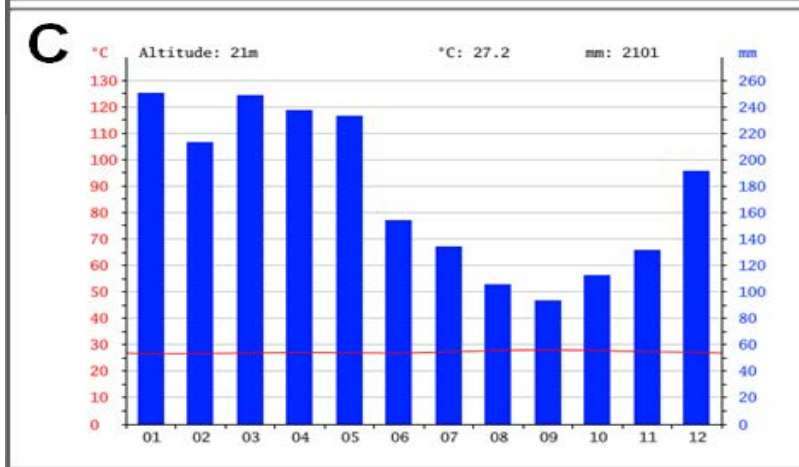
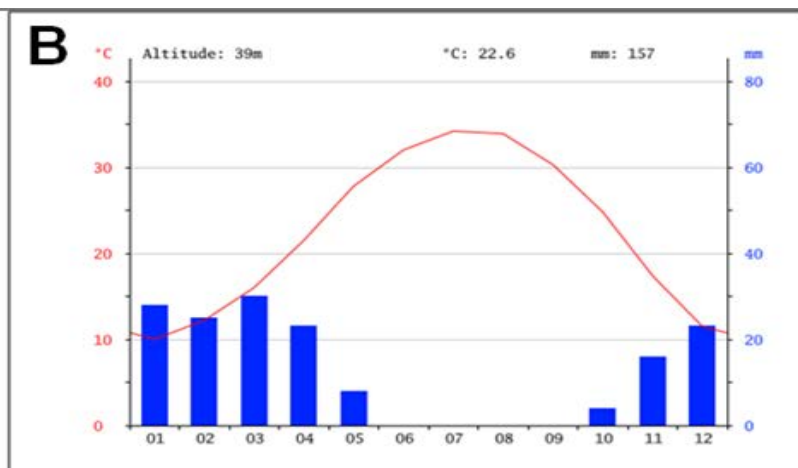
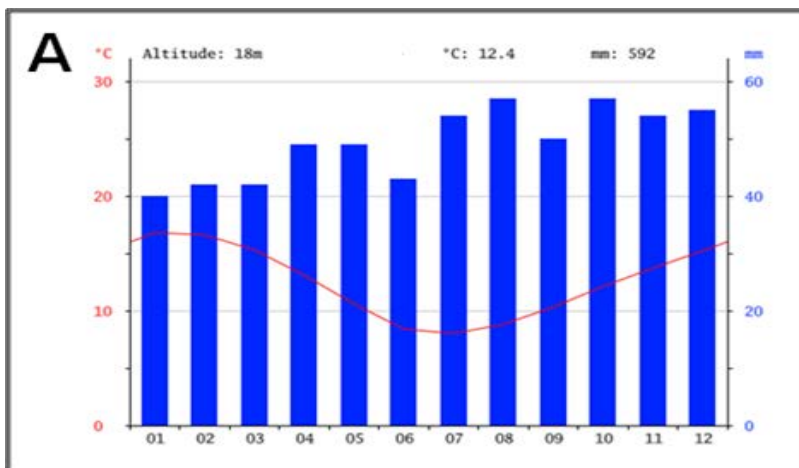
What is the reason of coral bleaching?



- A. low light due to cloudcover
- B. sea temperature increase
- C. increases intourist numbers
- D. overfishing
- E. when they get older they start blenching

ВОПРОС № 15

Какая климатограмма соответствует влажному тропическому лесу?



A. A

B. B

C. C

D. D

E. все ответы верны

ВОПРОС № 16

... была введена в культуру 7-12 тыс. лет назад на территории современной Мексики. Однолетнее травянистое культурное растение. Крупнейшие импортеры этой культуры являются Япония, Мексика и Китай. Назовите культуру.

- А.пшеница В.фасоль С.кукуруза
Д.томаты Е.перец чили

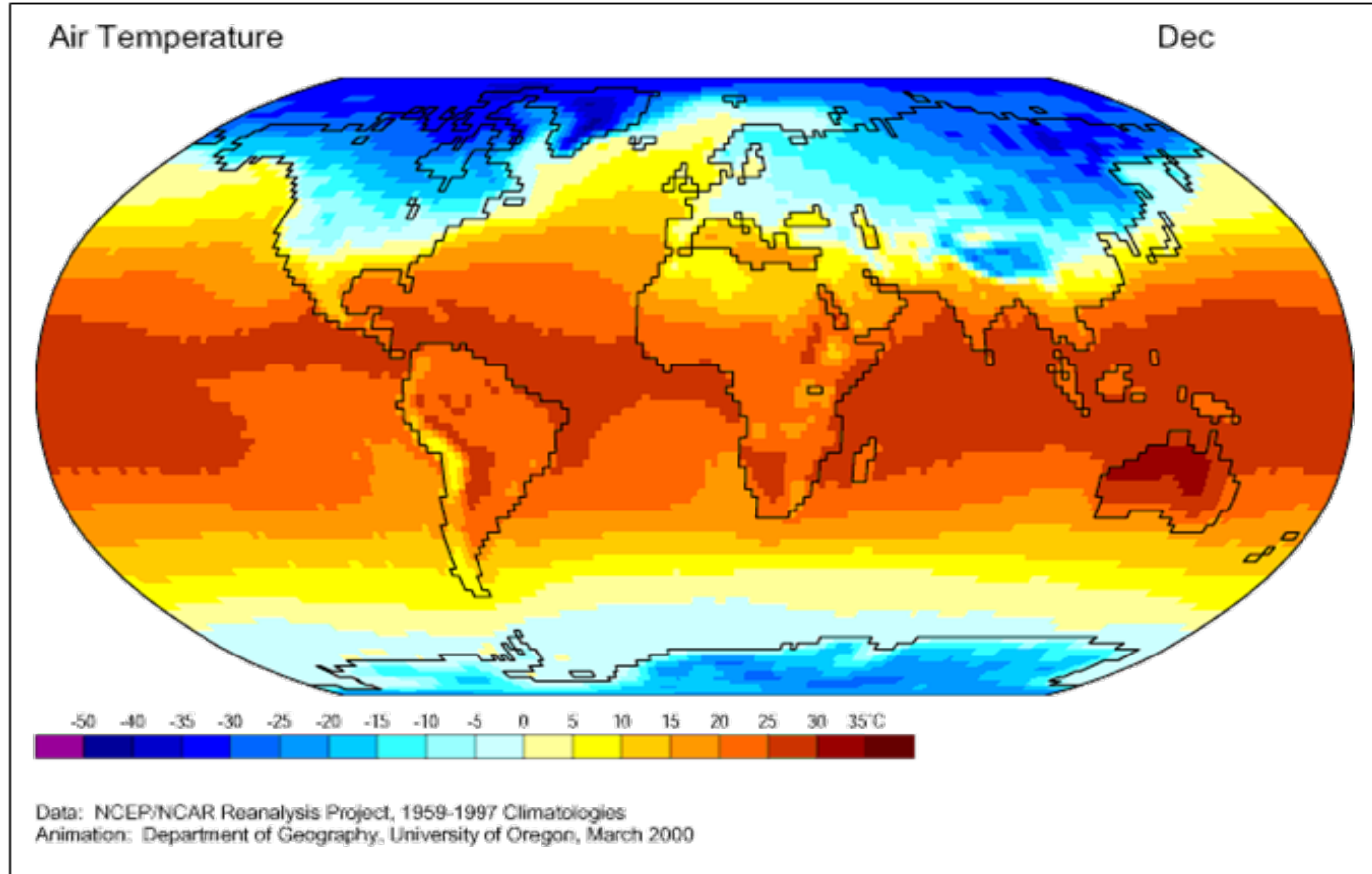
Топ 5 производителей в 2019 г.

(по данным министерства сельского хозяйства США
(млн тонн))

США	347
Китай	254
Бразилия	101
ЕС	64,56
Аргентина	54

QUESTION № 17

Which factor is the most important to explain the temperature differences shown in this map?



- A. continentality B. ocean currents C. Earth rotation
D. environmental pollution E. latitude

ВОПРОС № 18

Один из двух казахстанских заповедников, входящих в список Всемирного наследия ЮНЕСКО. Заповедник создан в 1968 году для сохранения уникальных водно-болотных угодий, являющихся местом обитания многих видов птиц. Определите, о каком заповеднике Казахстана идет речь.



А. Алакольский В. Барсакельмесский С. Коргалжынский
Д. Маркакольский Е. Наурзумский

ВОПРОС № 19

По приведенным данным определите тип почвы

Занимаемая площадь	25,5 млн га или 9,5% территории Казахстана
Области	Северо-Казахстанская область, большая часть Костанайской, Акмолинской, Павлодарской, Актюбинской и ЗКО

А. бурые

В. серо-бурые

С. каштановые

Д. черноземы

Е. коричневые почвы



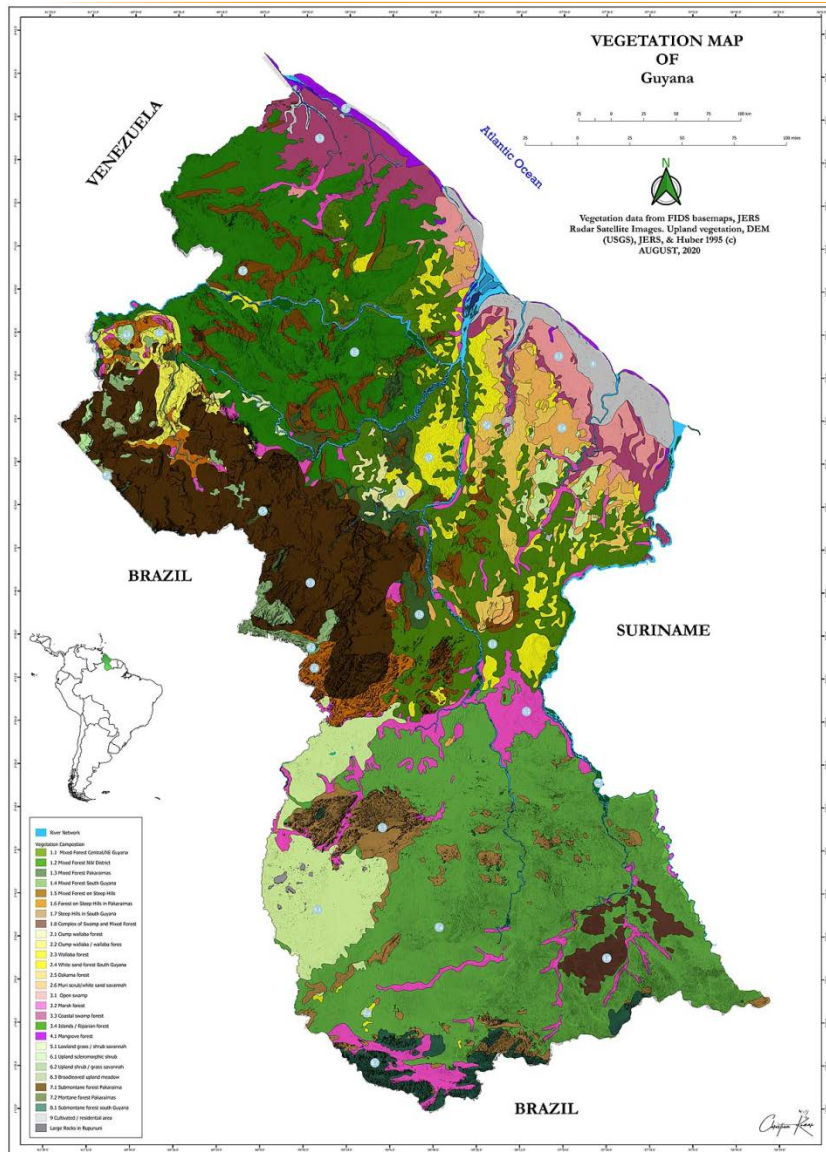
QUESTION № 20

Based on photos and information below find out the country in 14 century this country called «Land of million of elephants and a white umbrella». Population 7,2 million.



- A. Laos B. Thailand C. Myanmar
D. Vietnam E. Indonesia

ВОПРОС № 21



Какой способ картографического изображения использован на этой карте?

- А. способ ареалов
- В. способ качественного фона
- С. способ количественного фона
- Д. способ картограмм
- Е. точечный способ

ВОПРОС № 22

Какой вид проекции по характеру искажений представлен на рисунке?

- А. цилиндрическая равновеликая
- В. псевдоцилиндрическая
- С. коническая равноугольная
- Д. поликоническая
- Е. азимутальная равнопромежуточная



QUESTION № 23

Canadian business jet manufacturer. It was also formerly a manufacturer of commercial jets, public transport vehicles, trains, and recreational vehicles?

- A. Airbus
- B. Boeing
- C. Embraer
- D. Aeromot
- E. Bombardier



ВОПРОС № 24

Конские (лошадиные) широты?

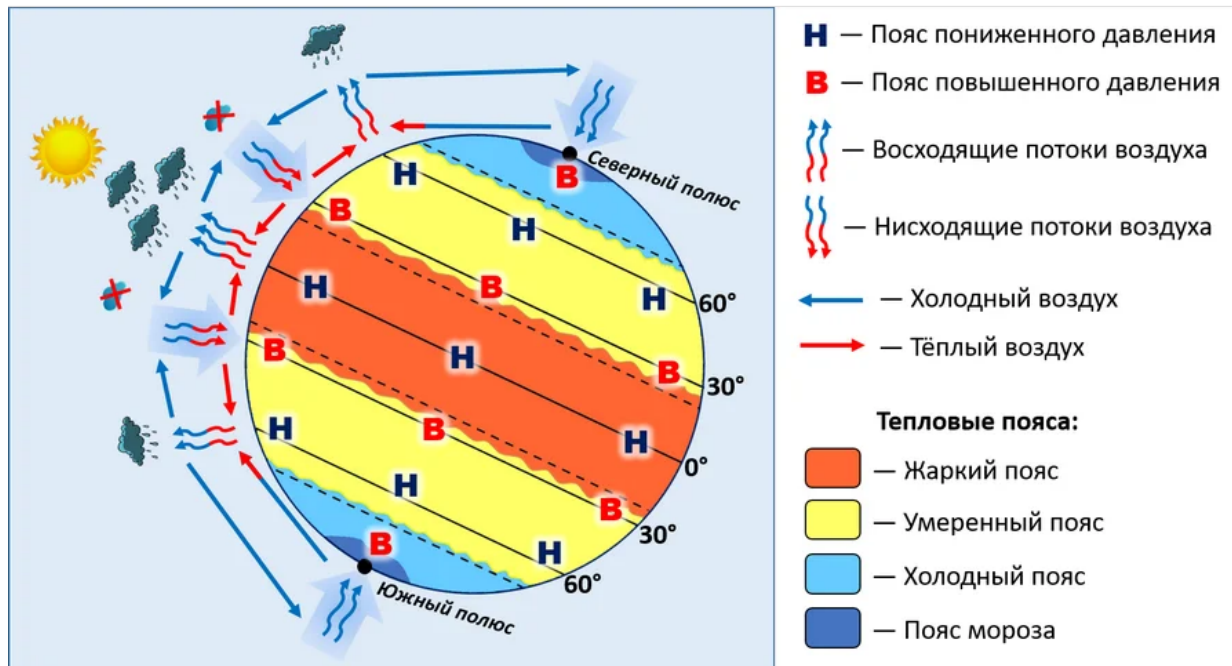
А. широты расположенные между 10 и 25 ° севернее и южнее Экватора

В. субтропические широты между 30 и 35 ° на севере и юге

С. океаническое пространство между 40° и 50° широты в Южном полушарии Земли

Д. пространствам между 50° и 60° широты в Южном полушарии Земли, которые расположены рядом с Антарктидой

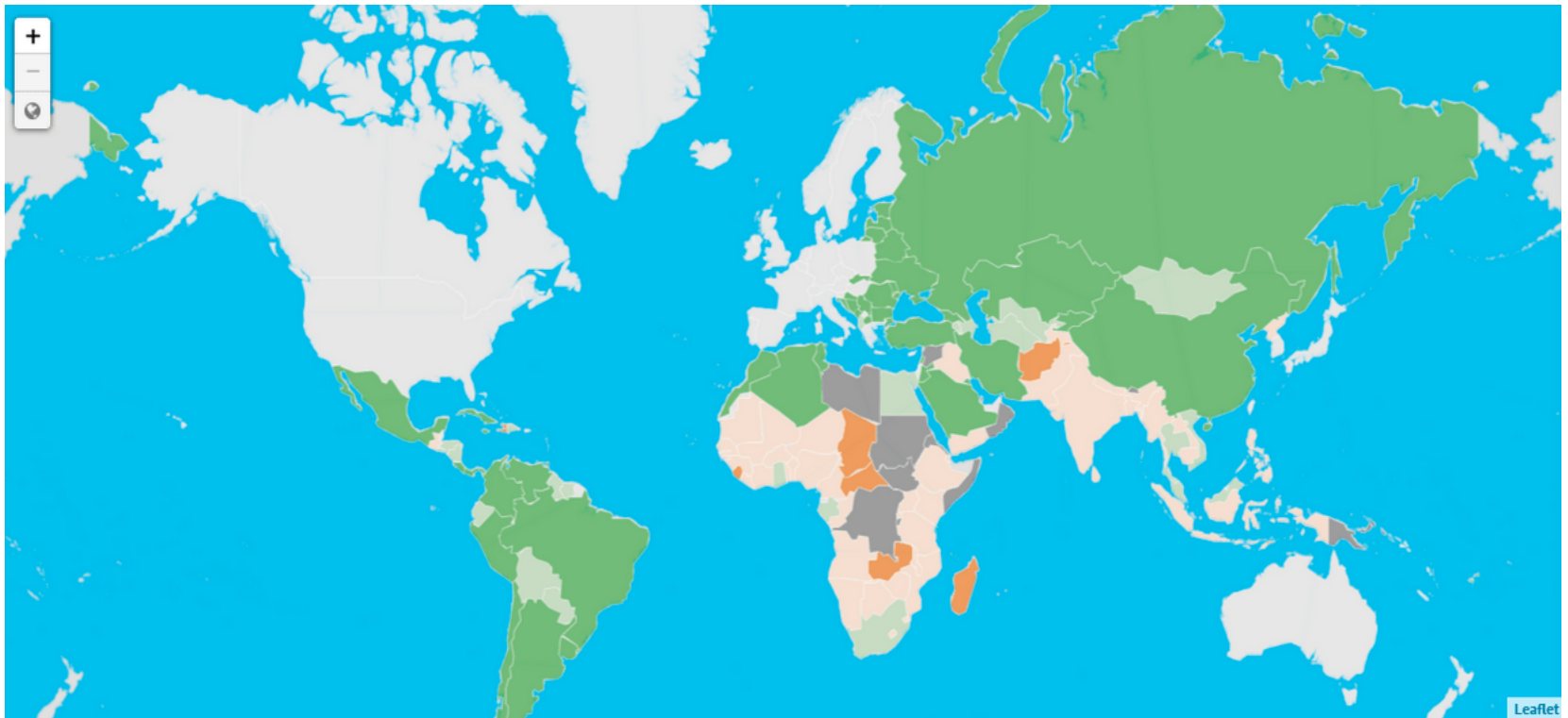
Е. субарктические широты между 60° и 70° с. ш.



QUESTION № 25

What indicator does the map represent?

- A. gender inequality
- B. lack of medicine
- C. climate change
- D. malnutrition and hunger
- E. drinking water shortage



Extremely alarming
 ≥ 50

Alarming
35.0-49.9

Serious
20.0-34.9

Moderate
10.0-19.9

Low
 ≤ 9.9

No data

Not calculated

ВОПРОС № 26

Магматическая горная порода, образующегося в результате быстрого охлаждения лавы. Основные минералы: кварц и полевой шпат.

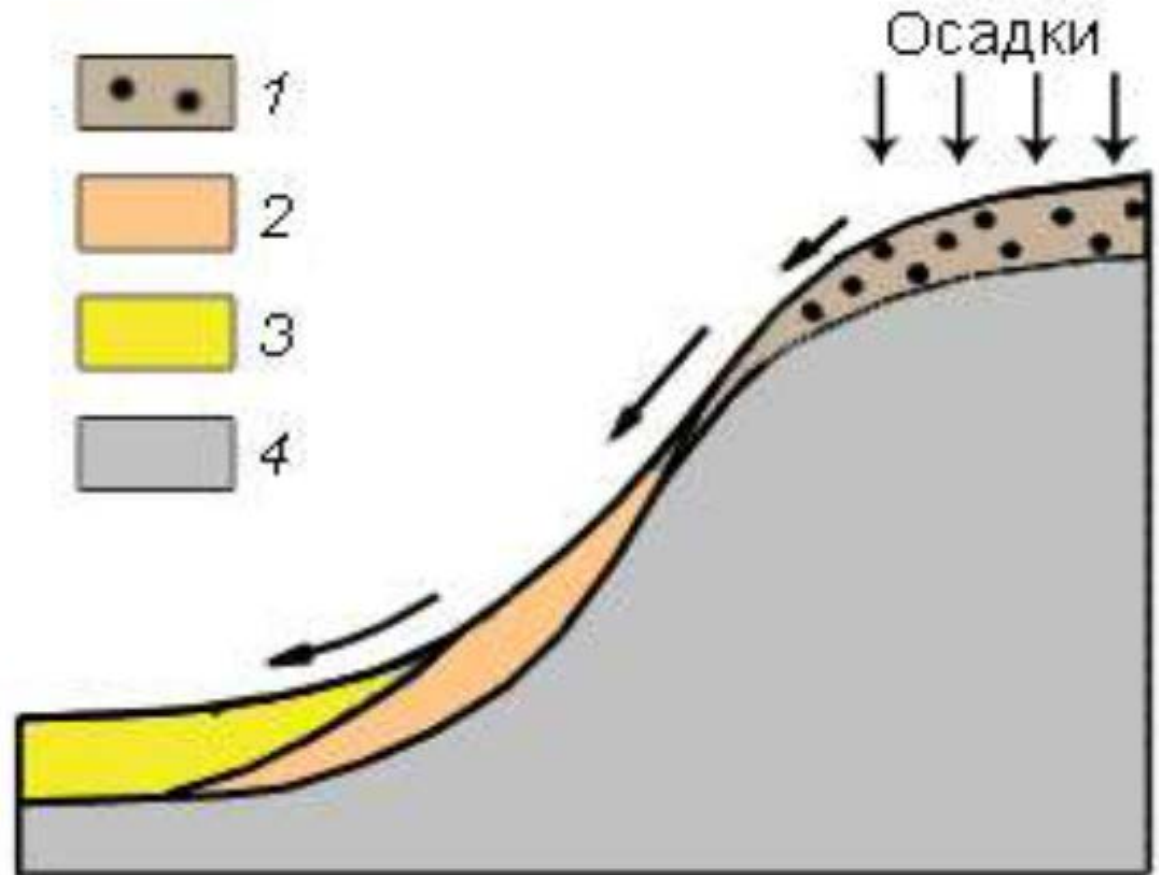
- А. боксит
- В. сланец
- С. обсидиан
- Д. берилл
- Е. опал



ВОПРОС № 27

Какой вид отложений отмечен цифрой 3?

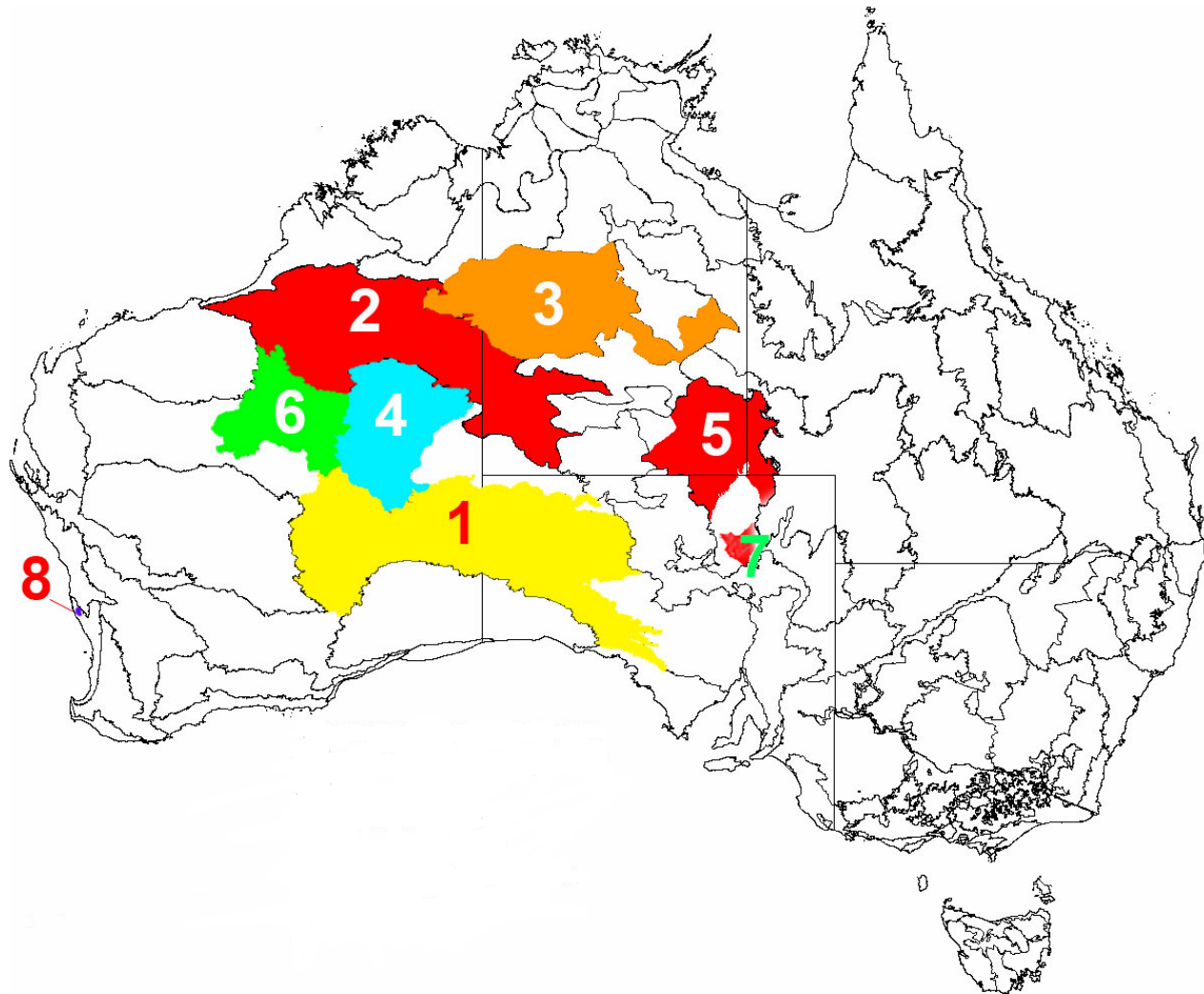
- А. элювий
- В. аллювий
- С. делювий
- Д. пролювий
- Е. иллювий



QUESTION № 28

Which number in the picture indicates the location of the Gibson Desert?

- A. 2
- B. 3
- C. 4
- D. 5
- E. 6



ВОПРОС № 29

В какой области Казахстана находится данный заповедник?

- А. Кызылординская
- В. Алматинская
- С. Восточно-Казахстанская
- Д. Жамбылская
- Е. Туркестанская



ВОПРОС № 30

Какая форма ледникового рельефа показана на фотографиях?

- А) нунатаки
- Б) друмлины
- С) бараньи лбы
- Д) трог
- Е. цирк



QUESTION № 31

Which of the picture corresponds to the term "cuesta"?

- A. A
- B. B
- C. C
- D. D
- E. E



A



B



C



D

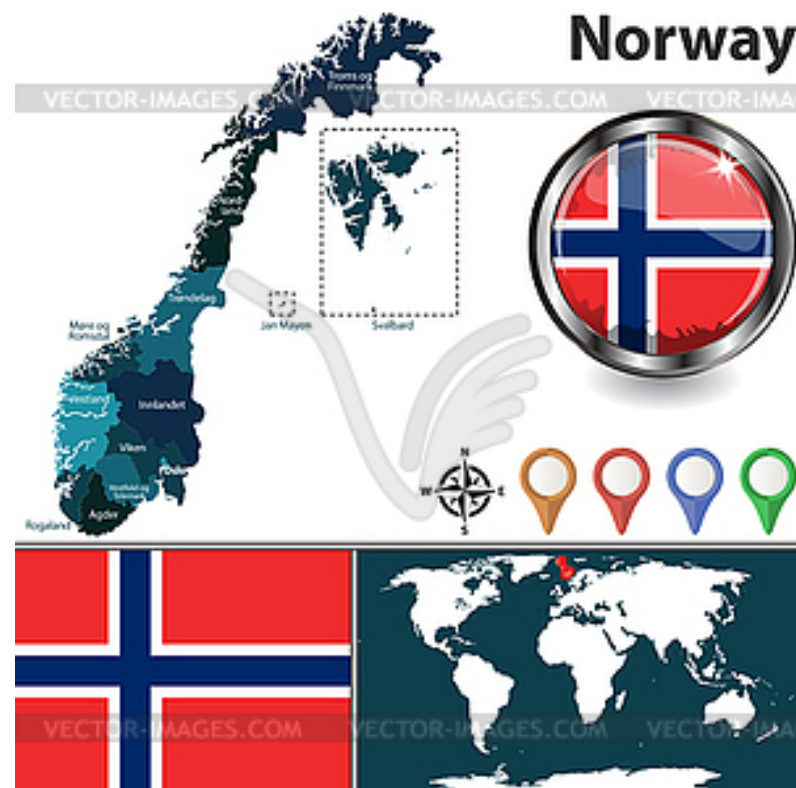


E

ВОПРОС № 32

Какое море НЕ омывает берега Норвегии?

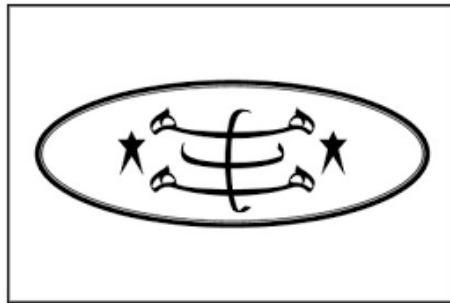

- A. Балтийское
- B. Северное
- C. Баренцево
- D. Норвежское
- E. все моря омывают Норвегию



ВОПРОС № 33

Какое религиозное течение представляют рисунки?

- А. Мазхабы
- В. Бахаи
- С. Копты
- Д. Баптизм
- Е. Друзы



QUESTION № 34

Which lithospheric plate is indicated by the number 3 in the picture?

A. Scotia

B. Vinson

C. Cocos

D. Nazca

E. Drake



ВОПРОС № 35

Для какой области характерны достопримечательности?

А. Актюбинская В. Акмолинская

С. Павлодарская Д. Карагандинская


Е. Жамбылская



ВОПРОС № 36

По какому критерию объединены представленные ниже страны:

- А. развивающиеся страны
- В. страны-экспортеры нефти
- С. островные страны
- Д. внутриконтинентальные страны
- Е. монархические страны



QUESTION № 37

The picture shows endemics of one country. Name the capital?

- A. Brasilia
- B. Windhoek
- C. Jakarta
- D. Bangkok
- E. Suva



QUESTION № 38

Which country is not a member of ECOWAS (Economic Community of West African country) ?

- A. Benin B. Togo C. Mali
D. Cameroon E. Ghana



ВОПРОС № 39

Какая река отмечена на рисунке?

А. Лена

В. Колыма

С. Енисей

Д. Анадырь

Е. Индигирка



QUESTION № 40

Which of the following cities is located north of the others?

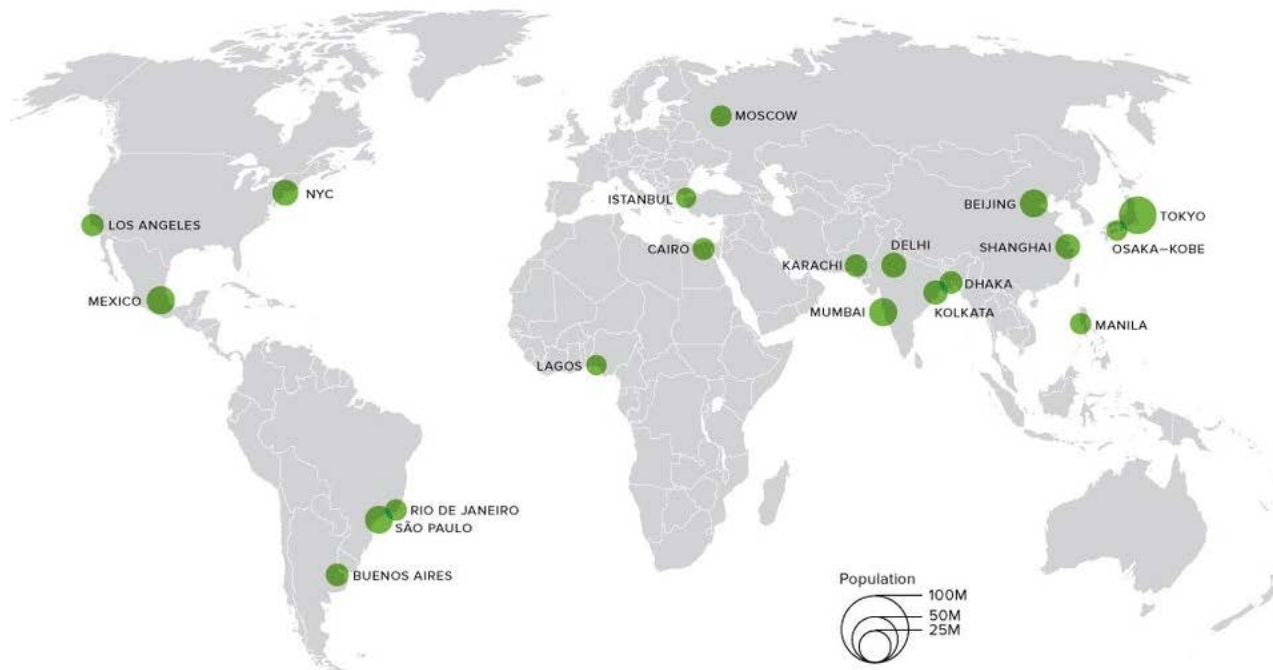
A. Washington

B. Madrid

C. Sapporo

D. Beijing

E. Ankara



Тест завершен!

