

МУЛЬТИМЕДИЯЛЫҚ ТУР

ГЕОГРАФИЯ ПӘНІНЕН
РЕСПУБЛИКАЛЫҚ ПӘНДІК ОЛИМПИАДА



МУЛЬТИМЕДИЯЛЫҚ ТУРДЫҢ ЕРЕЖЕЛЕРІ

- ✘ Мультимедиялық тур 40 сұрақтан тұрады.
- ✘ Әр сұраққа 5 таңдау беріледі, солардың тек біреуі дұрыс жауап.
- ✘ Тестінің 15 сұрағы ағылшын тілінде құралған.
- ✘ Әр сұраққа баса назар аударыңыз.
- ✘ Әр сұраққа 1 минуттан беріледі.
- ✘ Әр дұрыс жауапқа – 1 ұпайдан.
- ✘ Жауап парақшаларында әр дұрыс жауапты дөңгелекпен белгілеңіз, қате болған жағдайда жауапты сызып тастаңыз және сіздің таңдауыңыз бойынша дұрыс деп ойлайтын жауабыңызды белгілеңіз.

СӘТТІЛІК !!!



СУРАК № 1

Бұл фотосуреттер қай елде түсірілген?



- A. Сент-Винсент және Гренадиндер
- B. Сент-Китс және Невис
- C. Сан-Томе және Принсипи
- D. Фиджи
- E. Кирибати

СҰРАҚ № 2


Қызыл түспен белгіленген аралдарды атаңыз



А. Кіші Антиль В. Маскарен С. Канар аралдары D. Мадейра Е. Балеар

СҰРАҚ № 3

Бұл фотосуреттердің барлығы тізімдегі аралдардың біріне қатысты. Қайсысына?



А. Занзибар

В. Калимантан

С. Мадагаскар

Д. Жаңа Каледония

Е. Ява

СУРАҚ № 4

Криогендік жер бедерінің түрін анықтаңыз



А. Друмлиндер

В. Гидролакколиттер

С. Солифлюкция

Д. Мұз сыналары

Е. Термокарст

СҰРАҚ № 5

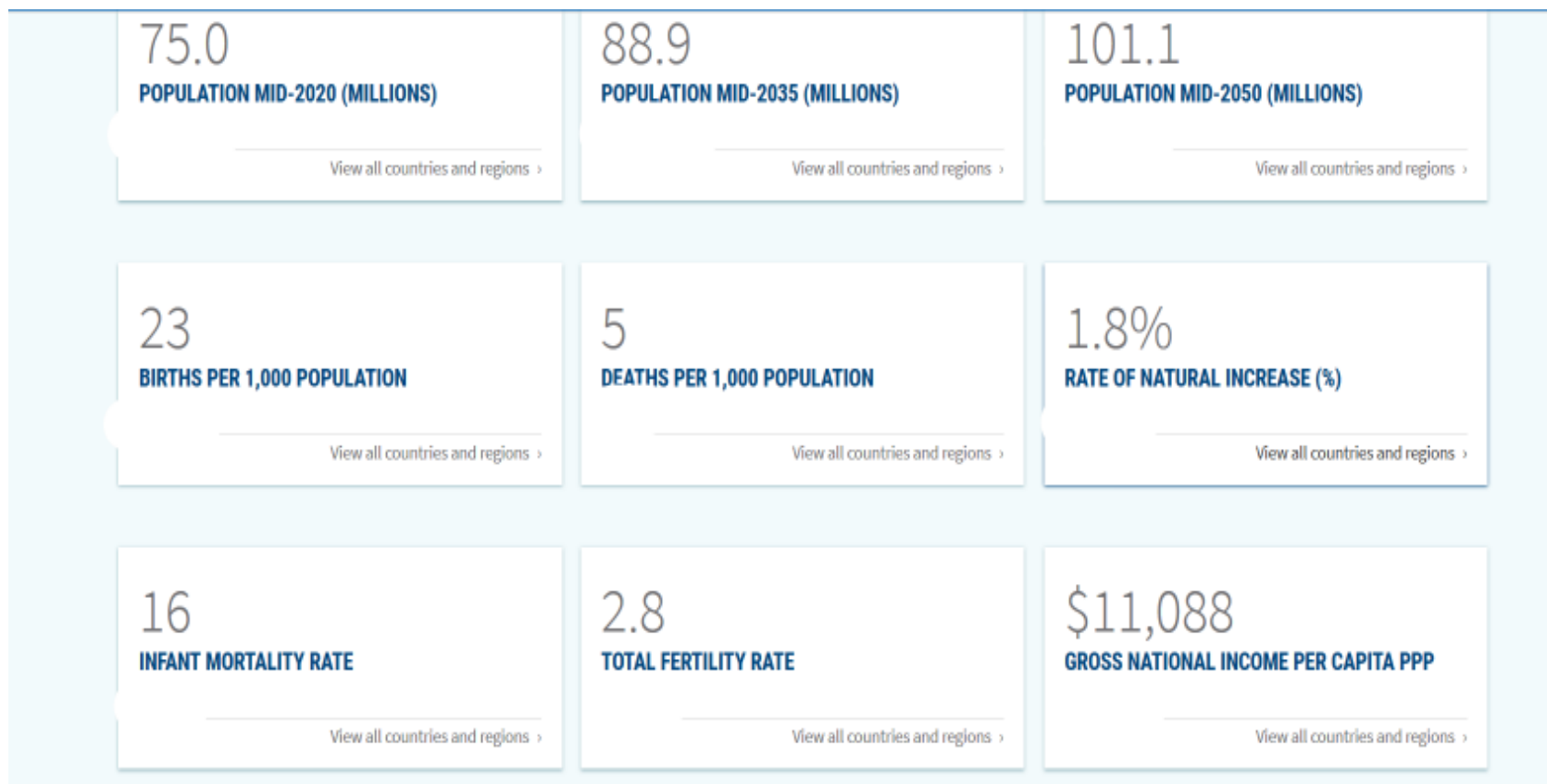
Топонимдер - географиялық атауларды (топонимдер), олардың шығу тегін, семантикалық мағынасын, дамуын, қазіргі жағдайын, жазылуы мен айтылуын зерттейтін ономастиканың бөлімі. Жетіспейтін ұғымды жазыңыз.

Түсінік түрлері	Осы ұғымдарды бейнелейтін нысан атаулары
Гидроним	Топоним түрі, су нысандарының атауы
Фитоним	Оним түрі, өсімдік атаулары
Топоним	Оним түрі, географиялық атаулар
...	Топоним түрі, арал атаулары

А. острономим В. агороним С. инсулоним Д. гелоним Е. космоним

QUESTION № 6

Name the region that is characterized by the following indicators in 2020



- A. Eastern Europe B. Oceania C. Eastern Africa D. Caribbean
E. Central Asia

СҮРАҚ № 7

б.з.д VI-V ғасырларда пайда болған Үндістандағы діни-философиялық ілім. Бұл діни ілім өзінің мақсатын аскетизм көмегімен ешқандай дживаға зиян келтірмеу арқылы дживаларды (тіршілік иелерін) азаптан босату және тәндік мұқтаждықтардан бас тартуды мақсат етеді. Болмыстың өзіндік доктринасы бар – ОНТОЛОГИЯ



परस्परपुत्रहोजीवानाम्

- A. пранаяна
- B. махаяна
- C. сикхизм
- D. джайнизм
- E. индуизм

СҰРАҚ № 8

Сары түспен белгіленген елді атаңыз



А. Бенин

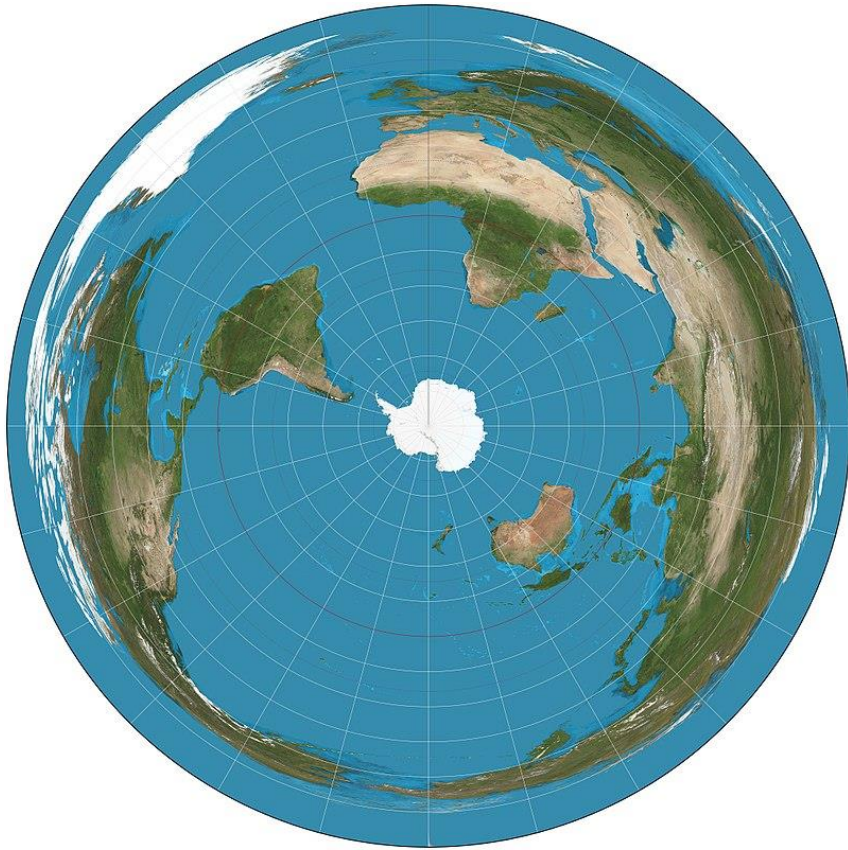
В. Того

С. Гана

Д. Эритрея

Е. Буркина-Фасо

QUESTION № 9



What type of projection shows the earth so that a line from the central point to any other point on the map gives the shortest distance between the two points
projection

- A. conical projection B. azimuthal projection C. cylindrical
projection D. pseudocylindrical projection E. no correct
answer

СҰРАҚ № 10



Белгілі географ, ғалым, педагог, Қазақстан мен Орталық Азиядағы алғашқы география ғылымдарының докторы, профессор, қоғам қайраткері, Халықаралық қоғамдық туризм академиясының академигі.

Қазақстандағы алғашқы туризм кафедраларын құруға ат салысқан. Оларға, Абай атындағы ҚазҰПУ-ды және әл-Фараби атындағы Қазақ ұлттық университетін және «Тұран» университетін атап айтуға болады.

400 -ден астам ғылыми жұмыстың авторы.

А. Надыров Ш.М.

В. Жандаев М.Ж.

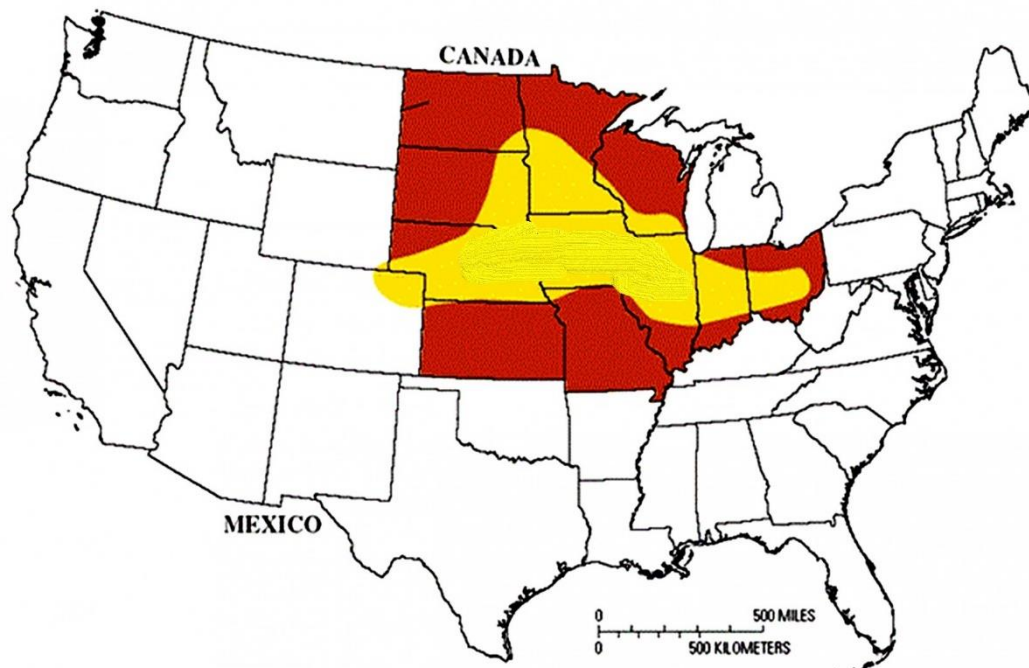
С.Двоскин В.Я.

Д. Макаревич К.Г.

Е. Ердаuletov С.Р.

СҰРАҚ № 11

АҚШ белдеуі - бұл белгілі бір типтік сипаттамаларды иеленуге негізделген, ел аймақтарының шартты бөлінуі. «Белдеу» термині алғаш рет дақылдардың бір түрін өсіруге бейімделген егіншілік аймақтары аясында қолданылды. Суретте қай белдеу сары түспен көрсетілген?



А. жүгері

В. бидай

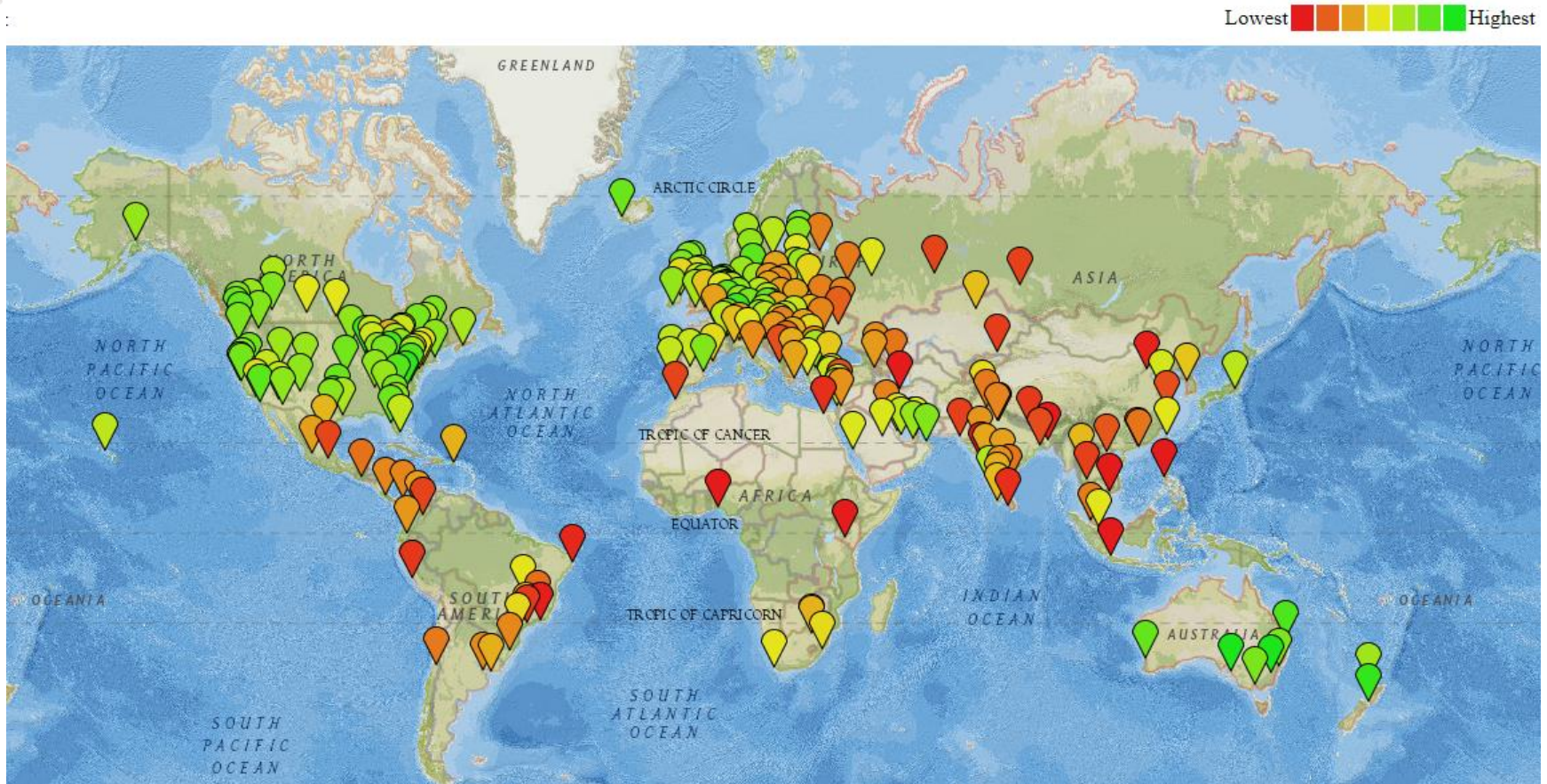
С. жемісті

Д. мақта

Е. күріш

QUESTION № 12

Which cities are the best deals? What does this map represent?



- A. Quality of air B. Quality of life and cost of living C. Number of cars
D. Number of bicycles E. Number of telephones

СҰРАҚ № 13

Берілген мәліметтер бойынша топырақ типін анықтаңыз

Қазақстанда таралған топырақтың табиғи аймақтары	Дала және жартылай шөлді аймақтар
Таралған аумақ	90,6 млн. га немесе Қазақстан аумағының 34%
Облыстар	Орталық Қазақстанның көп бөлігі, Каспий маңы ойпаты, Шығыс Қазақстан облысының жазықтары

А. қоңыр

В. сұрғылт-қоңыр

С. каштан

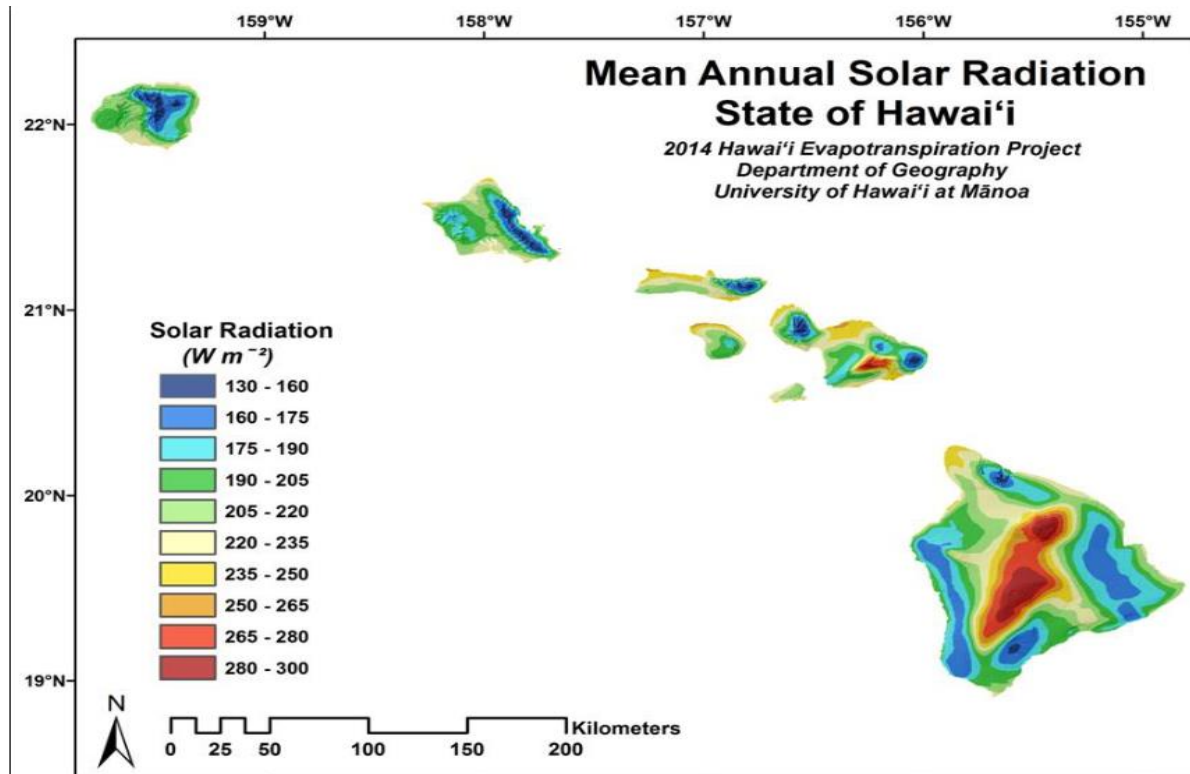
Д. қара

Е. қоңырқай топырақ



QUESTION № 14

Given the information in the image, in which of the following areas is cloud cover likely to be the highest on the island of Hawaii?



- A. on the north and northeast-facing slopes of the mountains
- B. on the southern tip of the island
- C. on the extreme northwestern tip of the island
- D. along the northern coastline
- E. no correct answer

СҰРАҚ № 15

Метаморфтық тау жынысын анықтаңыз

A



B



C



D



E

QUESTION № 16


Which of the following nations produces more than 100% of its electricity needs from hydroelectric power and exports much of its overall production to its neighbors?



- A. Mexico B. Russia C. Paraguay D. Brazil E. Costa Rica

СҰРАҚ № 17

XVI–XVIII ғасырларда «Күл жағалауы» Батыс Африка жағалауындағы ең ірі құлдар сауда орталығы болды, бақылаушылары болып **Англия** мен **Нидерланды** саналды. Аталмыш жағалау қандай қазіргі мемлекеттер аумағында орналасқан?



- A. Того, Бенин, Нигерия
- B. Кот-д-Ивуар, Гана, Либерия
- C. Нигерия, Камерун, Гвинея
- D. Либерия, Кот-д-Ивуар, Гана
- E. Буркина-Фасо, Гана, Того

QUESTION № 18

This image is a time-lapse photograph of a certain natural phenomenon. At which of the following latitudes was this photograph most likely taken?



- A. 20° B. 40° C. 50° D. 70° E. no correct answer

СУРАҚ № 19

Суреттерде көрсетілген қаланың климат түрін анықтаңыз.



А. континентальды

В. теңіздік

С. муссондық

Д. экваторлық

Е. экваторлық және континентальды

СҰРАҚ № 20

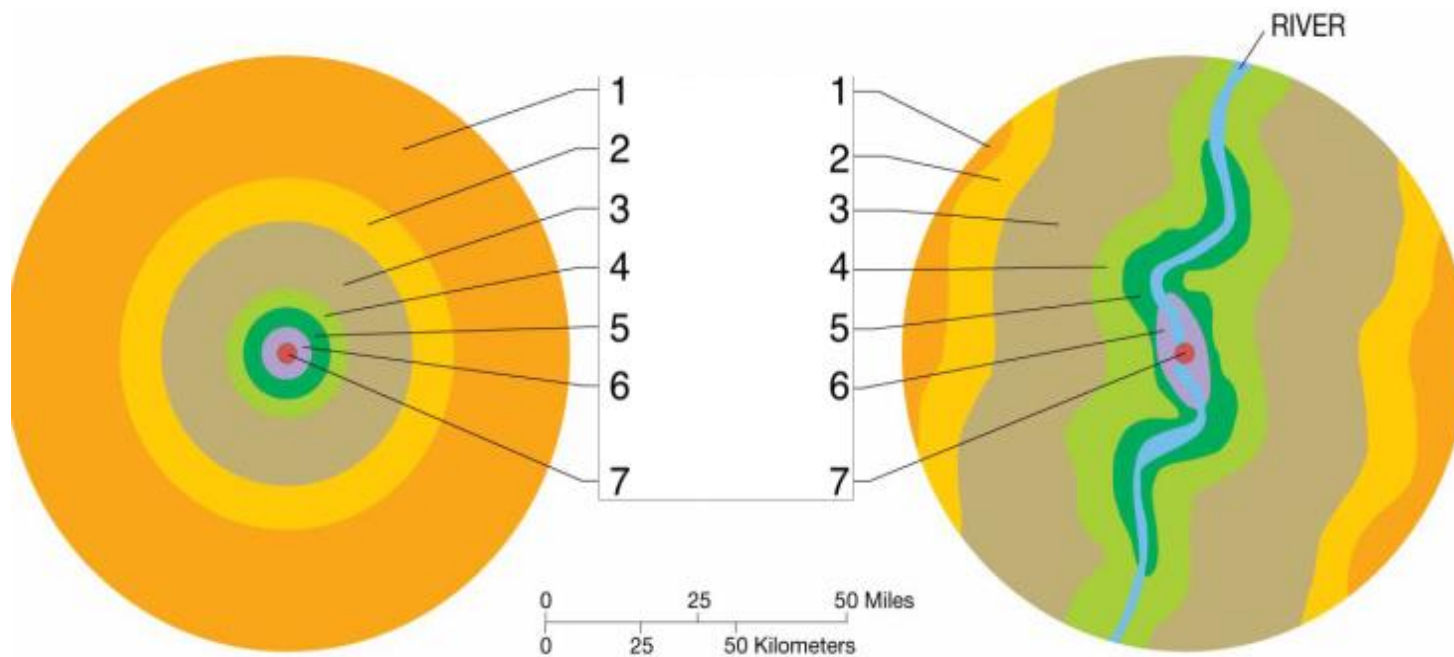
Кампунг Пеланги (Kampung Pelangi) ауылы кедей және дамымаған болған еді, алайда билік өкілдері \$ 22 000 доллар көлеміндегі қаржымен ауыл үйлерін нағыз өнер туындыларына айналдырды. Ғажайып түрлендіру туралы бастама орта мектептің директоры Сламет Видодо ұсынысымен бастау тапқан. Тар көшелер бойымен боялған қабырғалар бүкіл ауылға өмір сыйлады, артынша бұл өлкелерге туристер (және тиісінше ақша) ағымы айтарлықтай өсті. Бұл ауыл қай елде?



- A. Камбоджа В. Малайзия С. Индонезия D. Бруней E. Тайланд

QUESTION № 21

This image shows a model of land use proposed by which of the following?



- A. David Ricardo B. Johann von Thunen C. Homer Hoyt
D. Chauncy Harris and Edward Ullman E. no correct answer

СУРАҚ № 22

Суреттерде қандай геологиялық түзіліс көрсетілген?



А. шарьяжи
D. карстік ойық

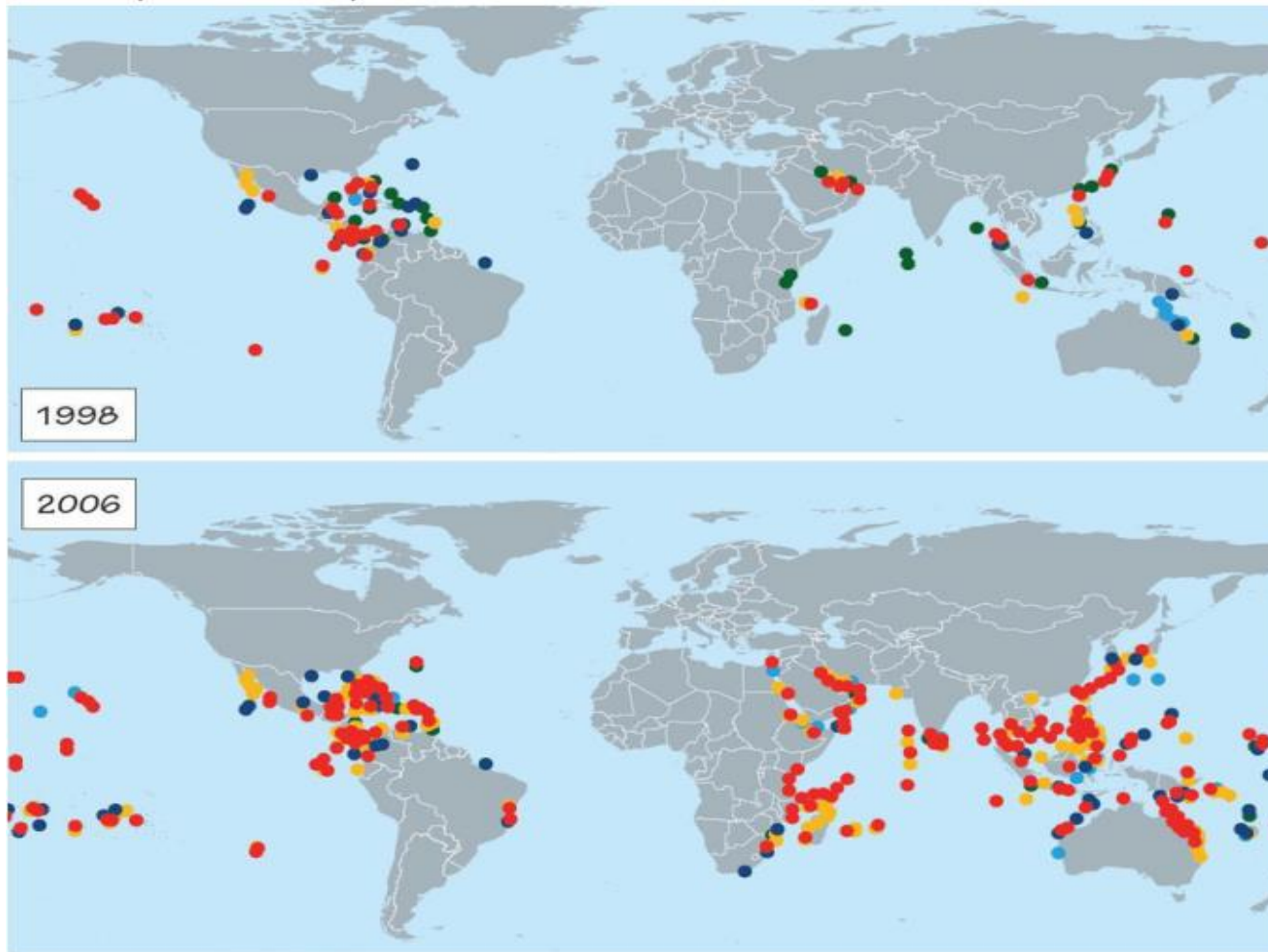
В. фульджи

Е. ригель

С. жыра

QUESTION № 23

These maps show coral bleaching events during the specified years. Which of the following colors likely represents the most severe bleaching events?



- A. yellow B. red C. green D. light blue E. no correct answer

СУРАК № 24

Фотосуреттер қай қалада түсірілген?



А. Ереван В. Измир

С. Стамбул Д. Тегеран Е. Баку

СҰРАҚ № 25

Картада не ерекшеленіп көрсетілген ?



- A. банан экспорты көрсеткіштері жоғарғы елдер
- B. экваторлық ормандар
- C. өсімдіктер әлемінің максималды биоалуантүрлілігіне ие елдер
- D. жануарлар әлемінің максималды биоалуантүрлілігіне ие елдер
- E. үздік кофе өндіруші 25 ел

QUESTION № 26

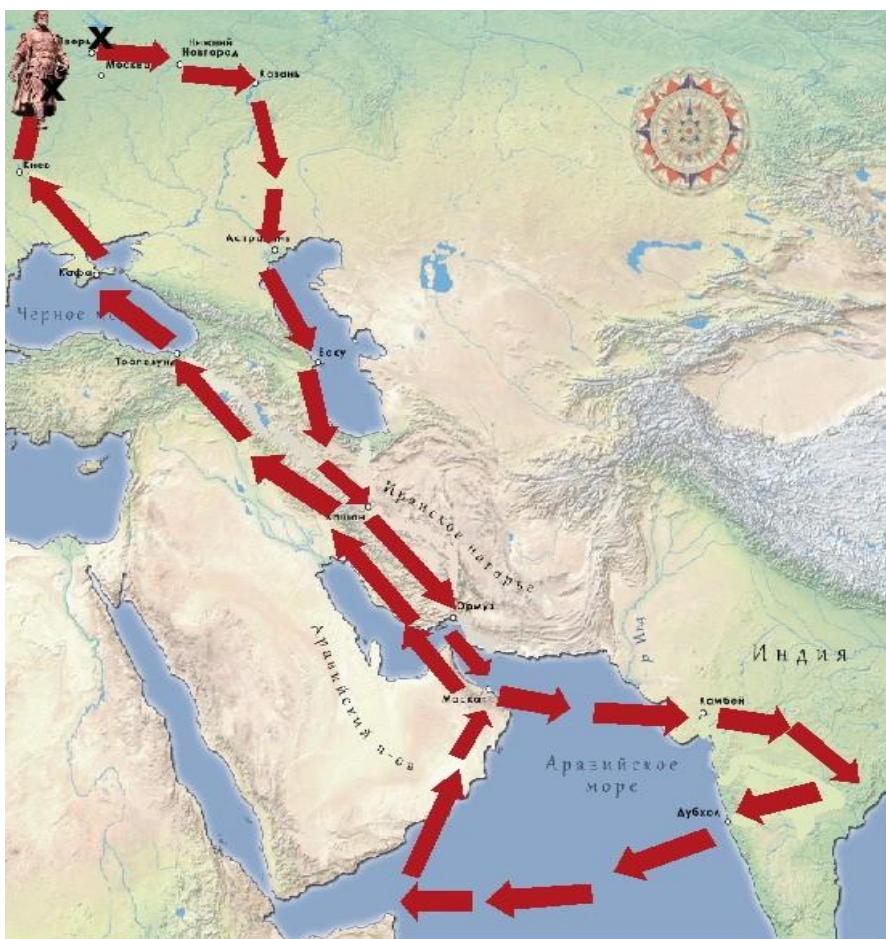
The lake in the images was formed by which of the following processes?



- A. glaciation
- B. a massive earthquake
- C. the construction of a dam
- D. a volcanic eruption
- E. no correct answer

СУРАК № 27

Суретте қай саяхатшының экспедициялық маршруты көрсетілген?



X Начало путешествия

X Место гибели

↑ Маршрут

Казань

● Города

А. Васко да Гама

В. Марко Поло

С. Ибн Батут

Д. А. Никитин

Е. С. Дежнев

QUESTION № 28

Based on the information in climate graph, which biome is typical of a climate like Dodoma's?

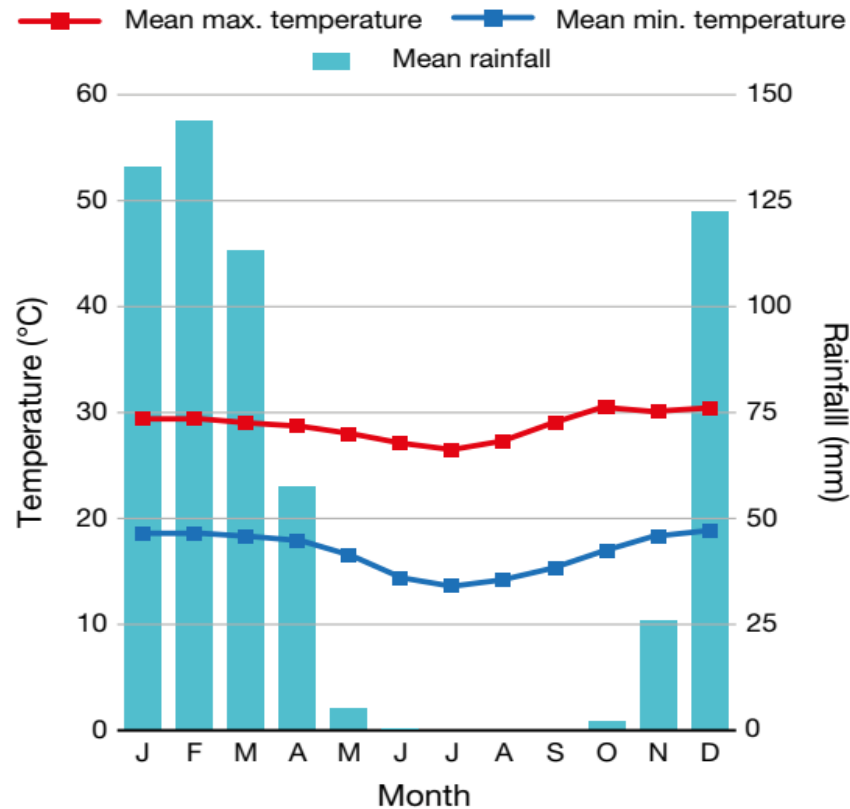


Figure 6. Climate graph, Dodoma, Tanzania (6°10'S, 35°44'E) Data source: World Meteorological Organization

- A. desert B. savannah C. tropical rainforest D. taiga E. tundra

СҰРАҚ № 29

Сипаттама бойынша ұлтты анықтаңыз.




Бұл ұлттың халқы 5 миллион адамды құрайды. Діні - христиандық, дәстүрлі нанымдар. Негізгі кәсібі - мал шаруашылығы. Келесі елдерде өмір сүруде:



А. нилоты В. фанг С. тсвана D. йоруба Е. фульбе

СҰРАҚ № 30

Қазақстан Республикасының аумағына сіз орналастыра аласыз....



QUESTION № 31

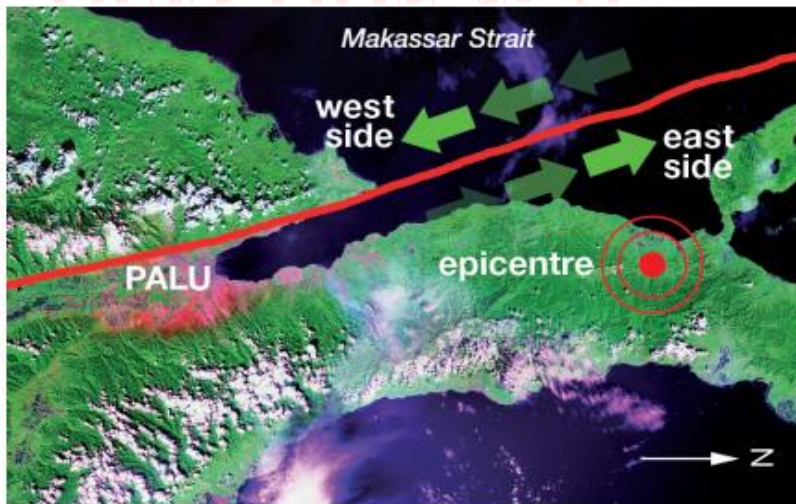


Figure 12. Palu-Koro plate boundary fault, Sulawesi, Indonesia Source: © USGS, LANDSAT Mosaic and © Government of Republic of Indonesia, Public Domain

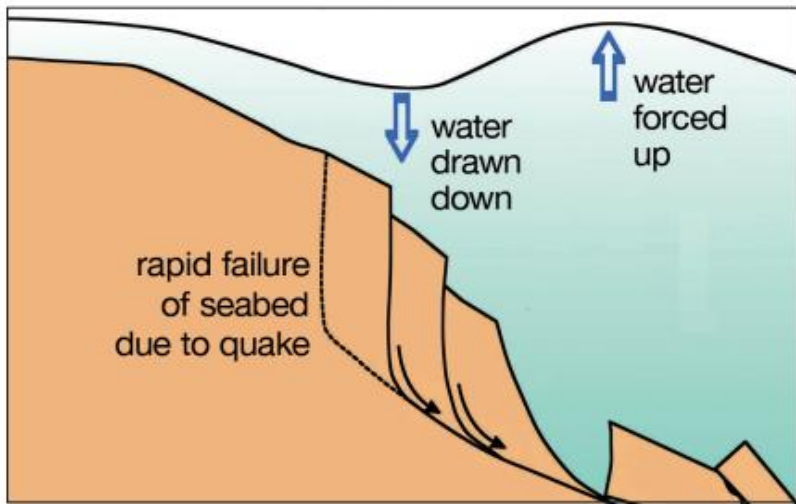


Figure 13. Diagram of the cause of the Palu tsunami on 28 September 2018, Indonesia Source: © Brian Ricketts www.geological-digressions.com CC BY 4.0 International

Using Figures 12 and 13, what caused the tsunami that affected city Palu in Sulawesi, Indonesia?

- A. The east side of the fault was forced under the west side, displacing sea water.
- B. The two sides of the fault moved away from each other, causing an earthquake
- C. The two sides of the fault slid past each other, resulting in an underwater landslide
- D. The two tectonic plates collided, folding the bedrock
- E. The vertical motion of the east plate over the west plate forced sea water up.

СҰРАҚ № 32

Елестетіп көріңіз, сіз батыстан шығысқа қарай Оңтүстік Американы кесіп өтіп жатырсыз. Кестеде ауа температурасының өзгеруі және сіздің бағытыңыз бойынша жауын-шашын мөлшері көрсетілген. Сіз қандай ендік бойынша жүрсіз?

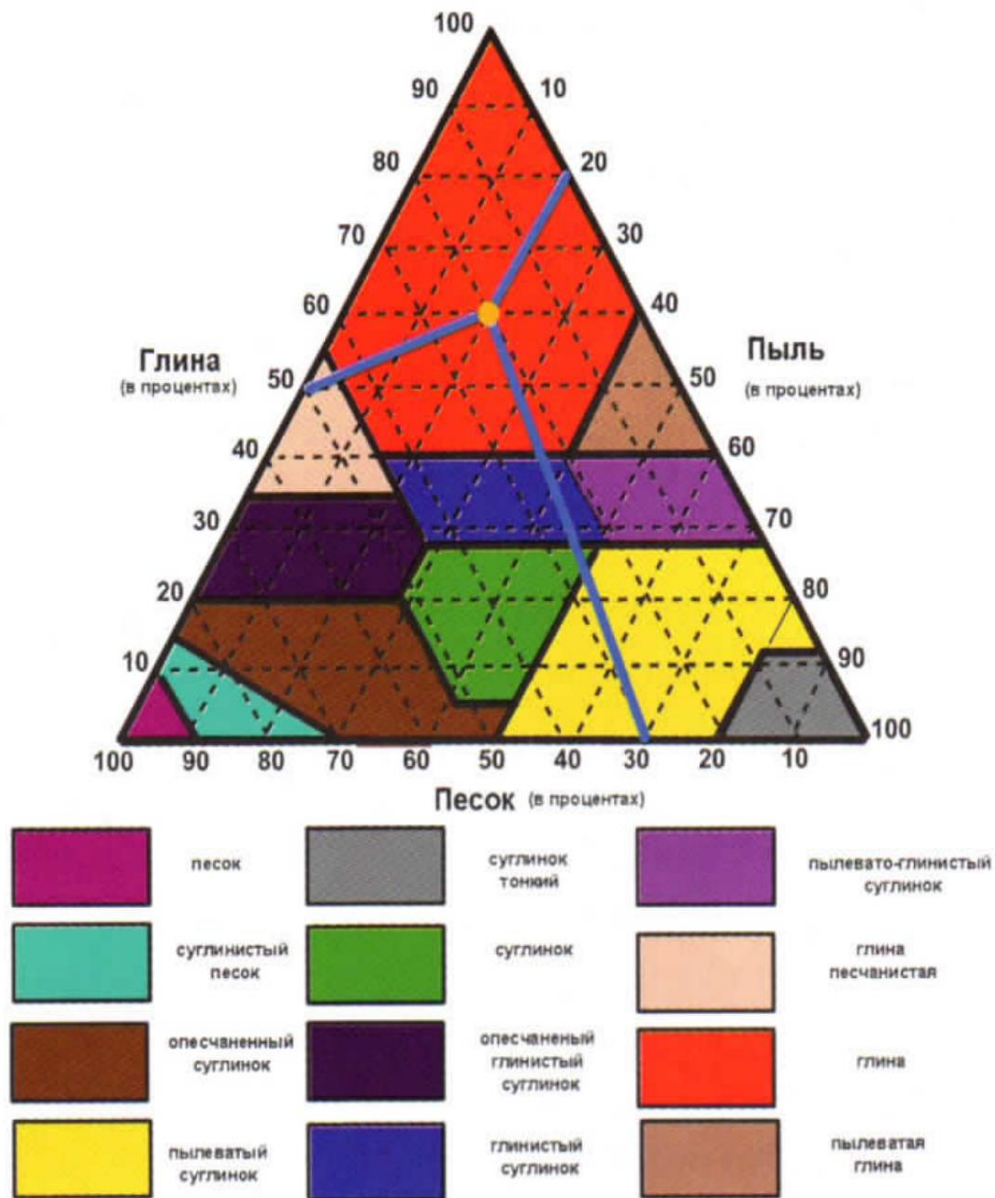
A. 20° о.е. B. 5° с.е. C. 40° о.е. D. 0° е. E. 30° с.е.

Бойлық	70° б.б.	60° б.б.	50° б.б.	40° б.б.
Жылдық орташа температура $^{\circ}\text{C}$	+18	+25	+24	+24
Жауын-шашынның жылдық орташа мөлшері, мм	2	777	1304	1281

СҰРАҚ № 33

30% - сазды, 40% - құмды және 70% - шаңды бөлшектерден тұратын жер жамылғысының түрін анықтаңыз?

- A. Құмды саз
- B. Саздақ құм
- C. Шаңды саз
- D. Сазды саздақ
- E. Құмайт саздақ



QUESTION № 34

Table 2. World's most liveable cities, 2016, based on liveability index¹ Source: Economist Intelligence Unit (EIU)

2016 rank ²	City	2015 rank
1	Melbourne, Australia	1
2	Vienna, Austria	2
3	Vancouver, Canada	3
4	Toronto, Canada	4
=5	Calgary, Canada	=5
=5	Adelaide, Australia	=5
7	Perth, Australia	8
8	Auckland, New Zealand	9
9	Helsinki, Finland	=10
10	Hamburg, Germany	13
11	Sydney, Australia	7

¹ The liveability index uses 30 factors spread across 5 categories: stability, healthcare, culture & environment, education, and infrastructure.

² 1 = most liveable


According to EIU's rankings in Table 2, which of these cities became less liveable between 2015 and 2016?

- A. Auckland B. Hamburg C. Helsinki D. Perth E. Sydney

СҰРАҚ № 35

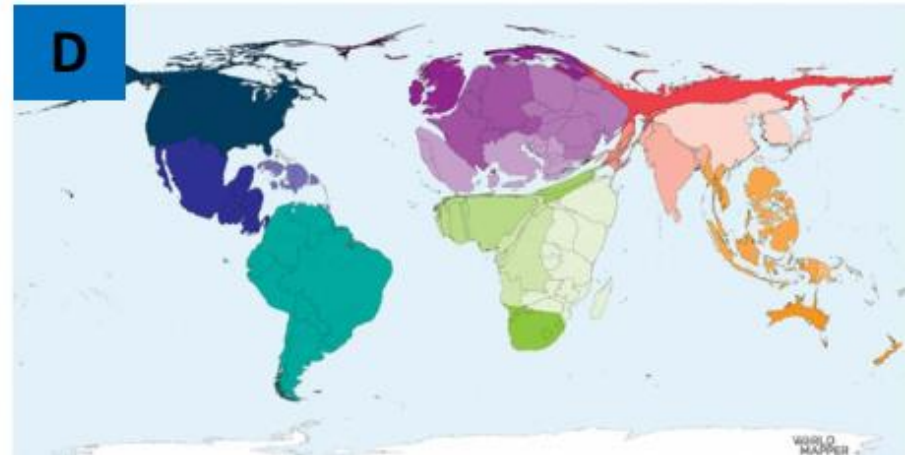
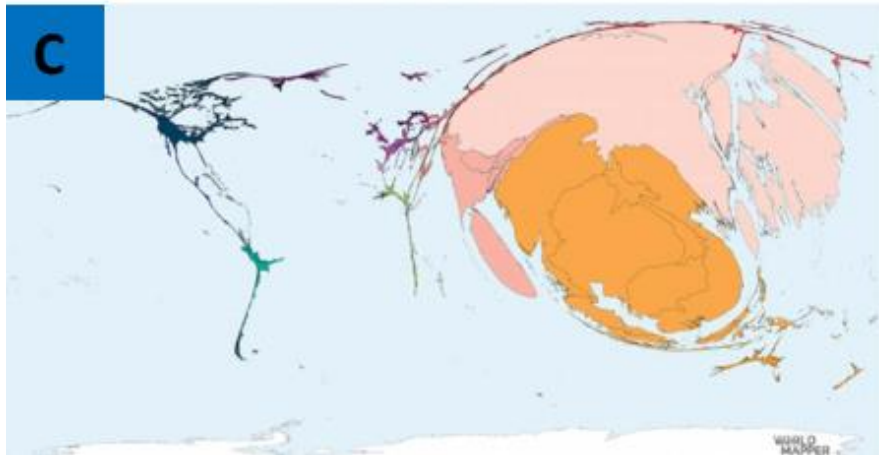
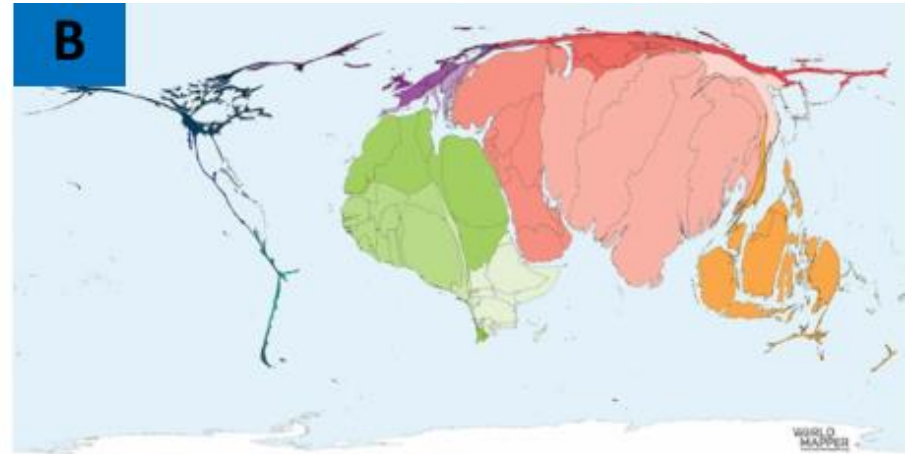
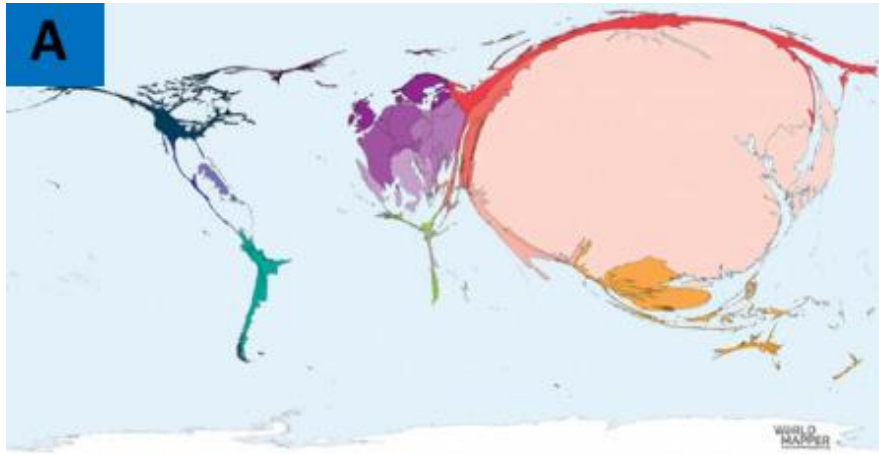
Диквис өзенінің сағасында кем дегенде үш жүзі сақталған әйгілі тау шарлар қай елде орналасқан?

- А. Индонезия
- В. Папуа - Жаңа Гвинея
- С. Фиджи
- Д. Вануату
- Е. Коста-Рика



QUESTION № 36

These maps of religious population are in alphabetic order: atheist, buddhist, christian and muslim. Which map shows the atheist (non-religious) population?



- A. Map A B. Map B C. Map C D. Map D E. no correct answer

СҰРАҚ № 37

Орталық Азиядағы ең үлкен құмды шөл. Оның тек солтүстік бөлігі ғана Қазақстан аумағында орналасқан. Палеогеннің құмды эолдық және жартылай аллювиалды шөгінділерінен құралған. Жер беті кең, құрғақ арналармен және алаңдармен кезектесіп жатқан құм төбелерінен, төбешіктерден және жоталардан тұрады.



А. Нарын Құмдары
D. Қызылқұм

Б. Қаракұм

С. Мойынқұм

Е. Сарыесікатырау

QUESTION № 38

Evaporation ponds of a potassium mine. What is causing the intense blue color?



- A. added dye to speed up evaporation B. bacteria growing in strong acidic waters C. pesticides to stop pests D. specific reflection of potassium-salts crystals E. all answers are correct

СҰРАҚ № 39

Дөңгелек диаграммада сіз Қазақстанның 5 көршілес елдермен шекараларының ұзындығының км-дегі үлесін көре аласыз. Қызыл түспен көрсетілген көршімізді анықтаңыз.



А. Ресей

Д. Қытай

В. Қырғызстан

С. Өзбекстан

Е. Түрікменстан

QUESTION № 40

Which of the following concepts does not directly relate to this picture?



- A. earth rotation B. latitude C. longitude D. time zone E. no correct answer

Тест аяқталды!



МУЛЬТИМЕДИЙНЫЙ ТУР

Республиканской предметной олимпиады по географии



ПРАВИЛА МУЛЬТИМЕДИЙНОГО ТУРА


- ✘ Мультимедийный тур состоит из 40 вопросов.
- ✘ На каждый вопрос дается 5 вариантов ответов, только один из них правильный.
- ✘ 15 вопросов тестов составлены на английском языке.
- ✘ Вникайте в каждый вопрос внимательно.
- ✘ На каждый вопрос дается **1 минута**.
- ✘ За каждый правильный ответ – 1 балл.
- ✘ В листах ответов обведите правильный ответ кружком, если вы сделали ошибку, зачеркните ответ и обведите кружком правильный новый ответ по вашему мнению.

УДАЧИ!!!



ВОПРОС № 1

В какой стране были сделаны эти фотографии?



- A. Сент-Винсент и Гренадины
- B. Сент-Китс и Невис
- C. Сан-Томе и Принсипи
- D. Фиджи
- E. Кирибати

ВОПРОС № 2

Назовите острова, выделенные красным цветом



А. Малые Антильские В. Маскаренские С. Канарские Д. Мадейра Е. Балеарские

ВОПРОС № 3

Все эти фотографии имеют отношение к одному из перечисленных островов. К какому?



А. Занзибар В. Калимантан С. Мадагаскар Д. Новая Каледония Е. Ява

ВОПРОС № 4

Определите тип криогенного рельефа



А. друмлины

В. бугры пучения С. солюфлюкция

Д. ледяные клинья

Е. термокарст

ВОПРОС № 5

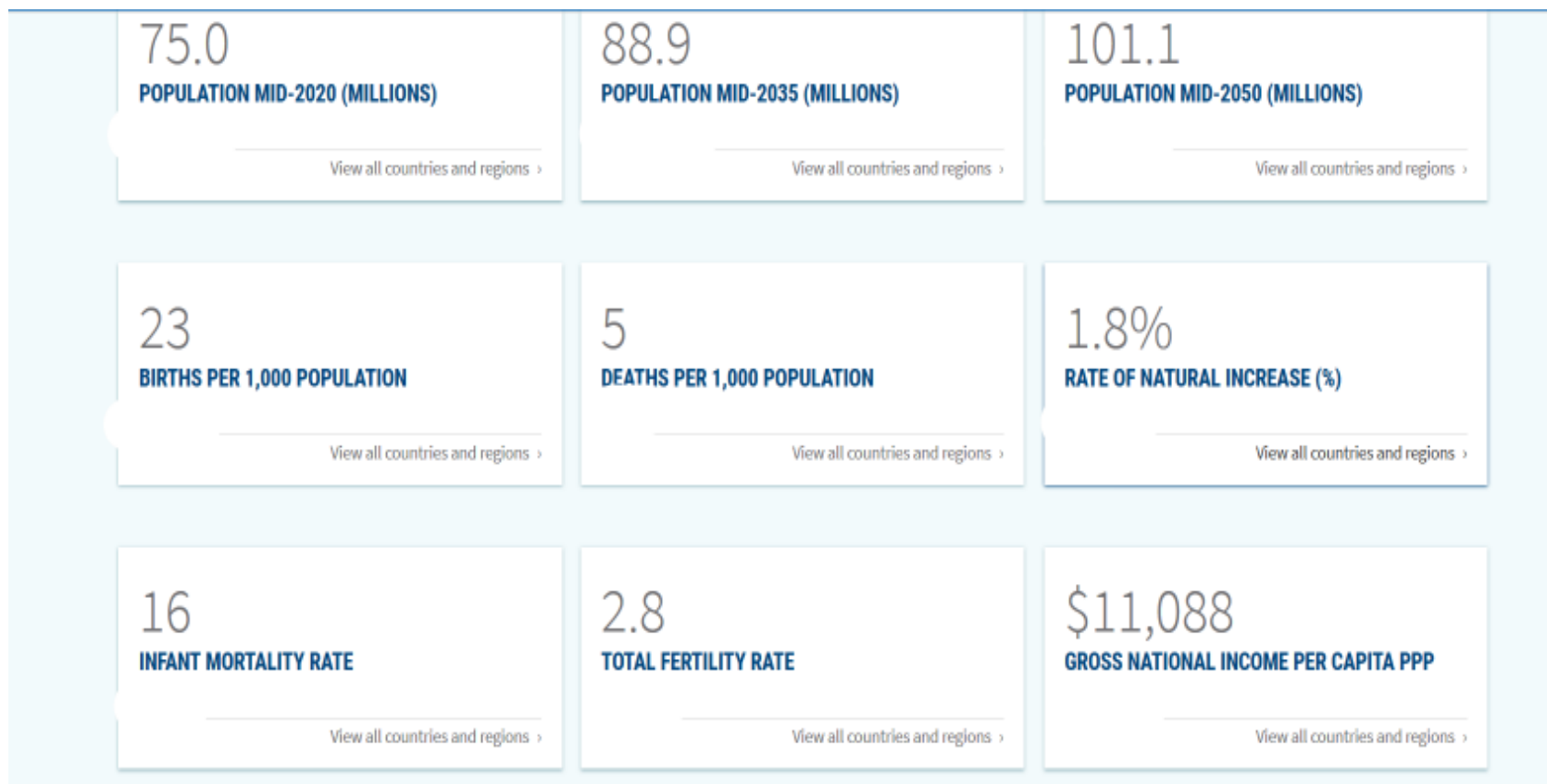
Топонимика — раздел ономастики, изучающий географические названия (ТОПОНИМЫ), их происхождение, смысловое значение, развитие, современное состояние, написание и произношение. Напишите пропущенное понятие.

Виды понятий	Названия объектов, отражающие указанные понятия
Гидроним	Вид топонима, название водных объектов
Фитоним	Вид онима, названия растений
Топоним	Вид онима, географические названия
...	Вид топонима, название островов

А. остроном В. агороним С. инсулоним Д. гелоним Е. космоним

QUESTION № 6

Name the region that is characterized by the following indicators in 2020



- A. Eastern Europe B. Oceania C. Eastern Africa D. Caribbean
E. Central Asia

ВОПРОС № 7

Религиозно-философское учение, возникшее в VI—V веке до н. э. в Индии. Это религиозное учение видит свою цель в освобождении джив (существ) от страдания через аскетизм, подавление телесного начала и непричинение вреда любым дживам. Имеет собственное учение о бытие— ОНТОЛОГИЮ



परस्परपुण्यहो जीवानाम्

- А. пранаяна
- В. махаяна
- С. сикхизм
- Д. джайнизм
- Е. индуизм

ВОПРОС № 8

Назовите выделенную желтым цветом страну



А. Бенин

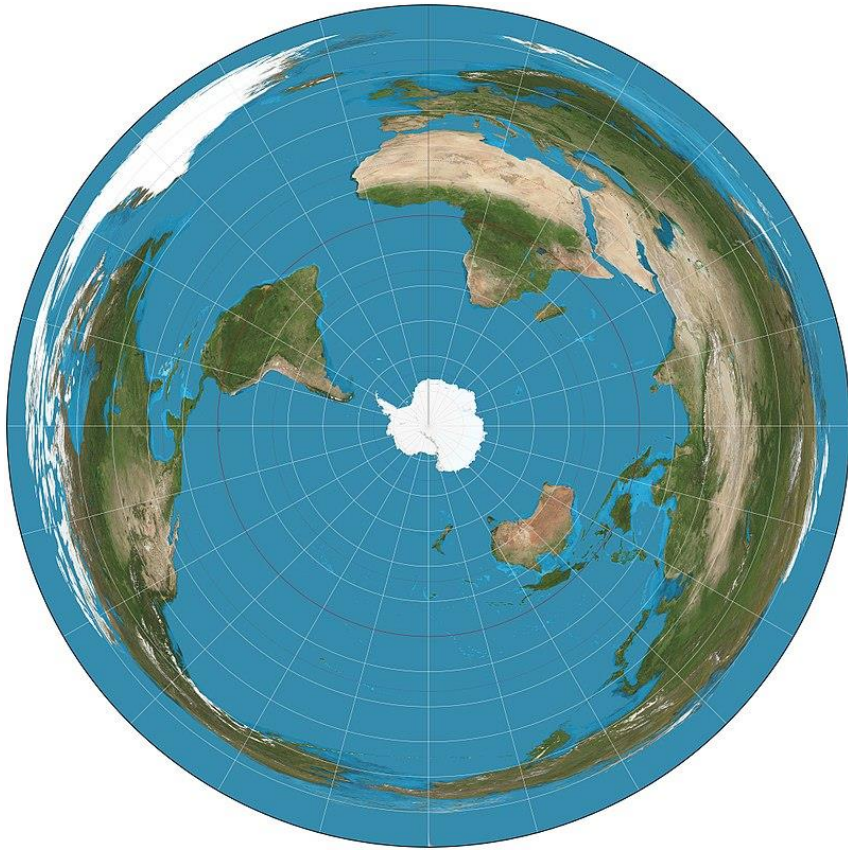
В. Того

С. Гана

Д. Эритрея

Е. Буркина-Фасо

QUESTION № 9



What type of projection shows the earth so that a line from the central point to any other point on the map gives the shortest distance between the two points
projection

- A. conical projection B. azimuthal projection C. cylindrical
projection D. pseudocylindrical projection E. no correct
answer

ВОПРОС № 10



Известный географ, учёный, педагог, первый в Казахстане и Центральной Азии доктор географических наук, профессор, общественный деятель, Академик Международной Общественной Академии туризма. Он стоял у истоков создания первых в Казахстане кафедр туризма в начале в университете «Туран», затем в АГУ им. Абая и КазГУ им. аль-Фараби. Автор более 400 научных работ.

А. Надыров Ш.М.

В. Жандаев М.Ж.

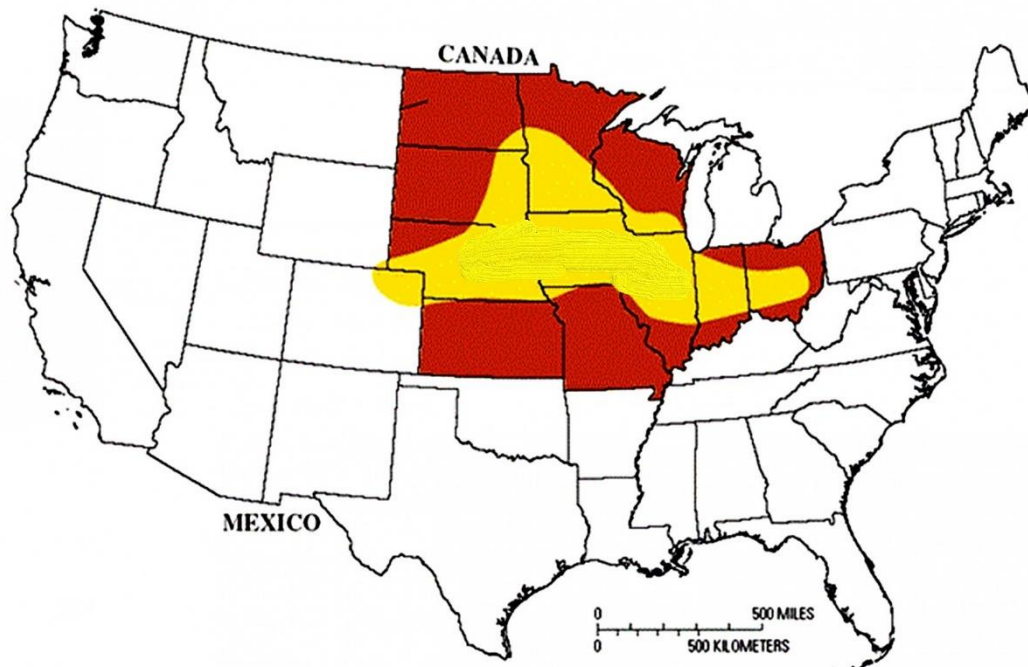
С. Двоскин В.Я.

Д. Макаревич К.Г.

Е. Ердавлетов С.Р.

ВОПРОС № 11

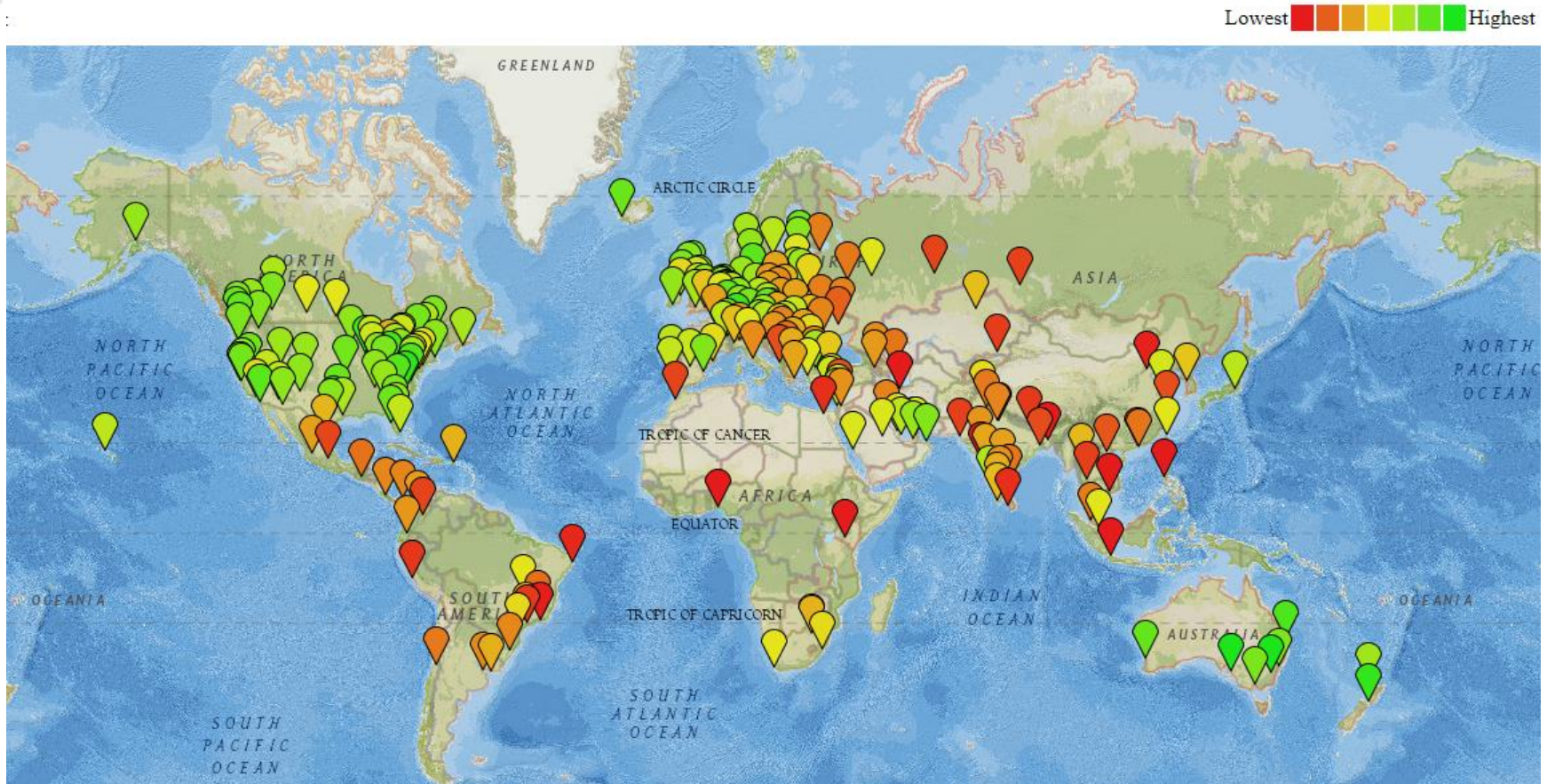
Пояса США — это условное деление регионов страны, на основании обладания ими определенными типичными характеристиками. Термин «пояс» впервые был употреблён в контексте сельскохозяйственных регионов, приспособленных для выращивания одного и того же вида культур. Какой пояс указан на картинке желтым цветом?



- А. кукурузный В. пшеничный С. фруктовый
Д. хлопковый Е. рисовый

QUESTION № 12

Which cities are the best deals? What does this map represent?



- A. Quality of air B. Quality of life and cost of living C. Number of cars
D. Number of bicycles E. Number of telephones

ВОПРОС № 13

По приведенным данным определите тип почвы

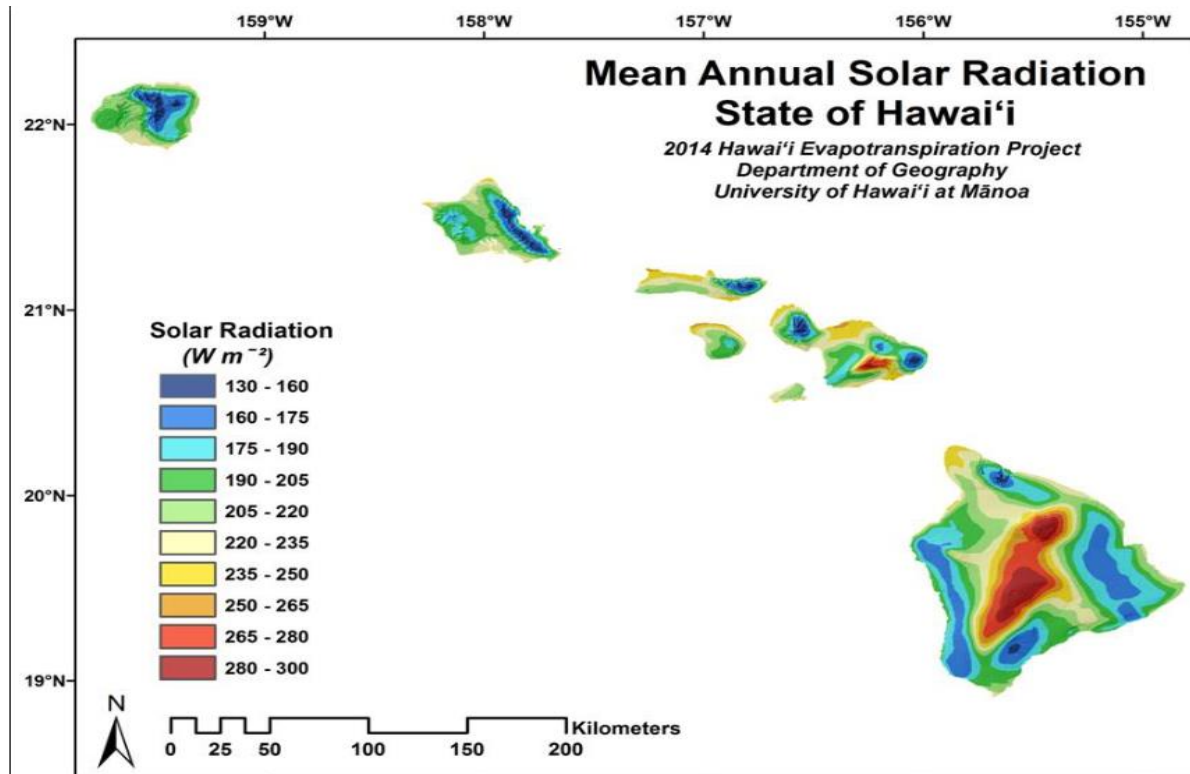
Природные зоны распространения почвы в Казахстане	Степная и полупустынная зоны
Занимаемая площадь	90,6 млн га или 34% территории Казахстана
Области	Большая часть Центрального Казахстана, Прикаспийской низменности, равнины ВКО

- А. бурые
- В. серо-бурые
- С. каштановые
- Д. черноземы
- Е. коричневые почвы



QUESTION № 14

Given the information in the image, in which of the following areas is cloud cover likely to be the highest on the island of Hawaii?



- A. on the north and northeast-facing slopes of the mountains
- B. on the southern tip of the island
- C. on the extreme northwestern tip of the island
- D. along the northern coastline
- E. no correct answer

ВОПРОС № 15

Определите метаморфическую горную породу

A



B



C



D



E



QUESTION № 16



Which of the following nations produces more than 100% of its electricity needs from hydroelectric power and exports much of its overall production to its neighbors?



- A. Mexico B. Russia C. Paraguay D. Brazil E. Costa Rica

ВОПРОС № 17

В XVI–XVIII веках Невольничий берег был крупнейшим центром работорговли на побережье Западной Африки, контролируемым в основном Англией и Нидерландами, — отсюда и происхождение названия. Часть каких современных государств составлял Невольничий берег?



- А. Того, Бенин, Нигерия
- В. Кот-д-Ивуар, Гана, Либерия
- С. Нигерия, Камерун, Гвинея
- Д. Либерия, Кот-д-Ивуар, Гана
- Е. Буркина-Фасо, Гана, Того

QUESTION № 18

This image is a time-lapse photograph of a certain natural phenomenon. At which of the following latitudes was this photograph most likely taken?



- A. 20° B. 40° C. 50° D. 70° E. no correct answer

ВОПРОС № 19

Определите тип климата города, представленный на картинках.



- А. континентальный В. морской С. муссонный
D. экваториальный Е. экваториальный и континентальный

ВОПРОС № 20

Деревня Кампунг Пеланги (Kampung Pelangi) была бедная и отсталая, но власти решили это исправить, выделив \$22 000 чтобы превратить деревенские дома в настоящие произведения искусства. Инициатива чудесного преобразования принадлежала директору средней школы Сламету Видодо. Расписанные стены вдоль узких улочек придали жизни всей деревне, а приток туристов (соответственно и денег) в эти края вырос в разы. В какой стране находится эта деревня?



A. Камбоджа

B. Малайзия

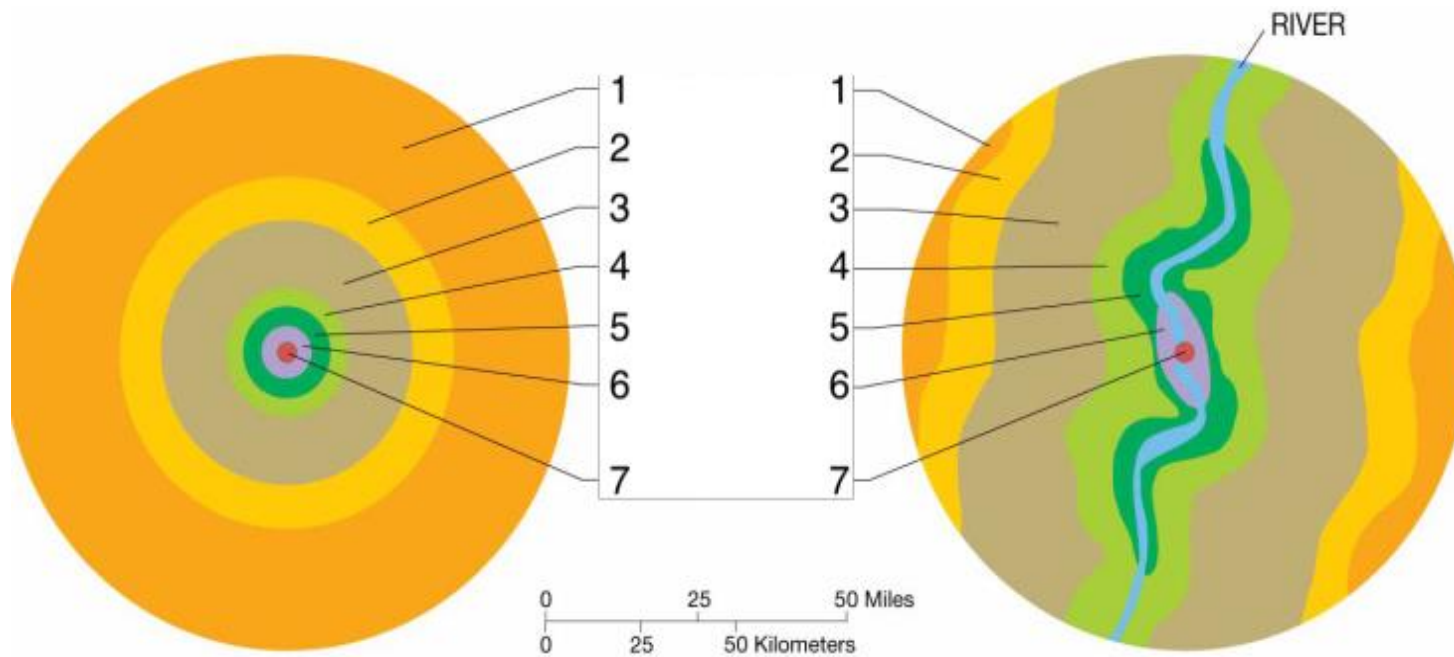
C. Индонезия

D. Бруней

E. Тайланд

QUESTION № 21

This image shows a model of land use proposed by which of the following?



- A. David Ricardo B. Johann von Thunen C. Homer Hoyt
D. Chauncy Harris and Edward Ullman E. no correct answer

ВОПРОС № 22

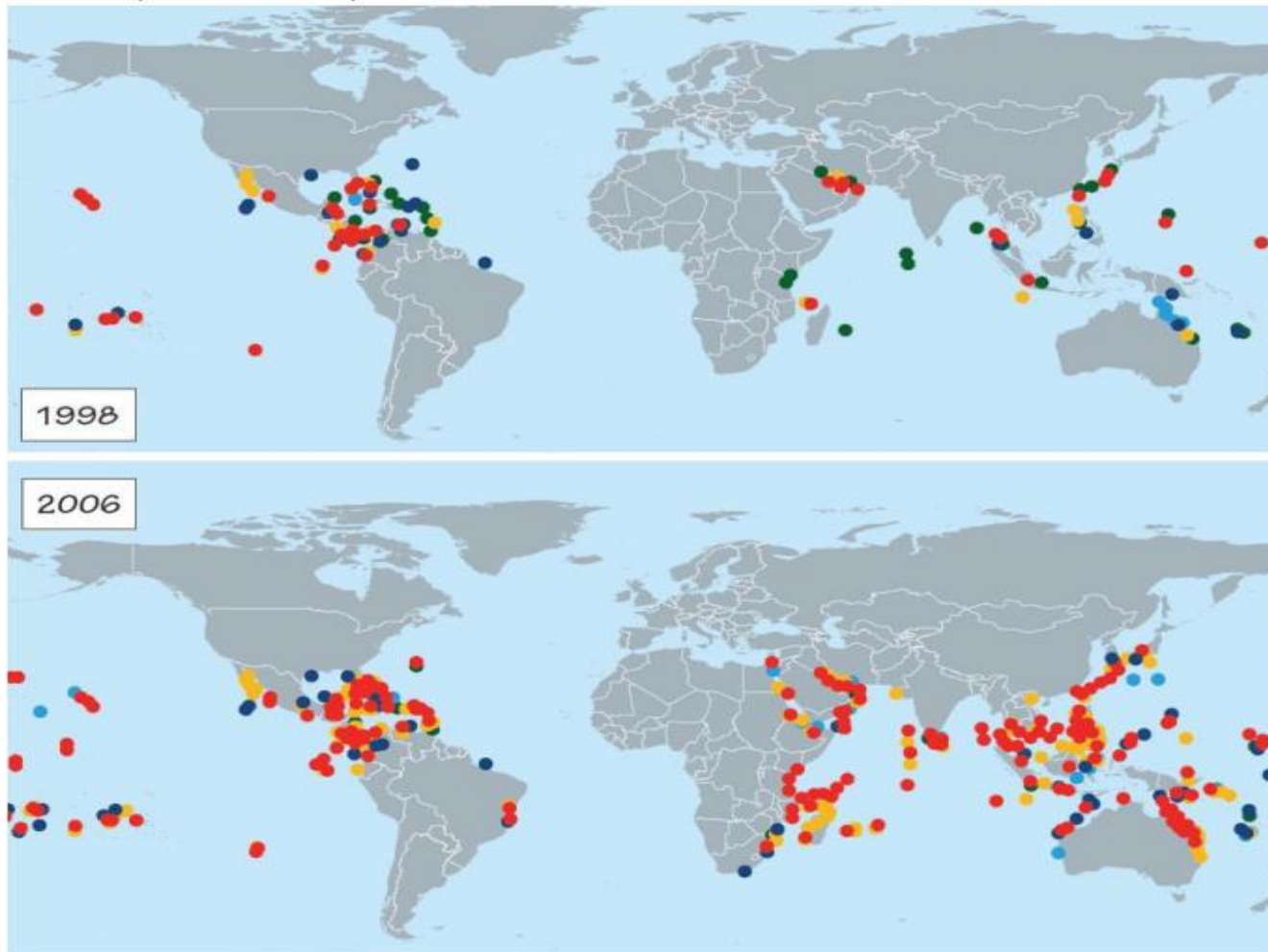
Какой геологическое образование представлено на картинках?



А . шарьяжи В. фульджи С. овраг
D. карстовая воронка Е. ригель

QUESTION № 23

These maps show coral bleaching events during the specified years. Which of the following colors likely represents the most severe bleaching events?



- A. yellow B. red C. green D. light blue E. no correct answer

ВОПРОС № 24

В каком городе сделаны фотографии?



А. Ереван В. Измир

С. Стамбул Д. Тегеран Е. Баку

ВОПРОС № 25

Что выделено на карте?



- A. страны с максимальным показателем экспорта бананов
- B. экваториальные леса
- C. страны с максимальным биоразнообразием растительного мира
- D. страны с максимальным биоразнообразием животного мира
- E. топ 25 стран – производителей кофе

QUESTION № 26

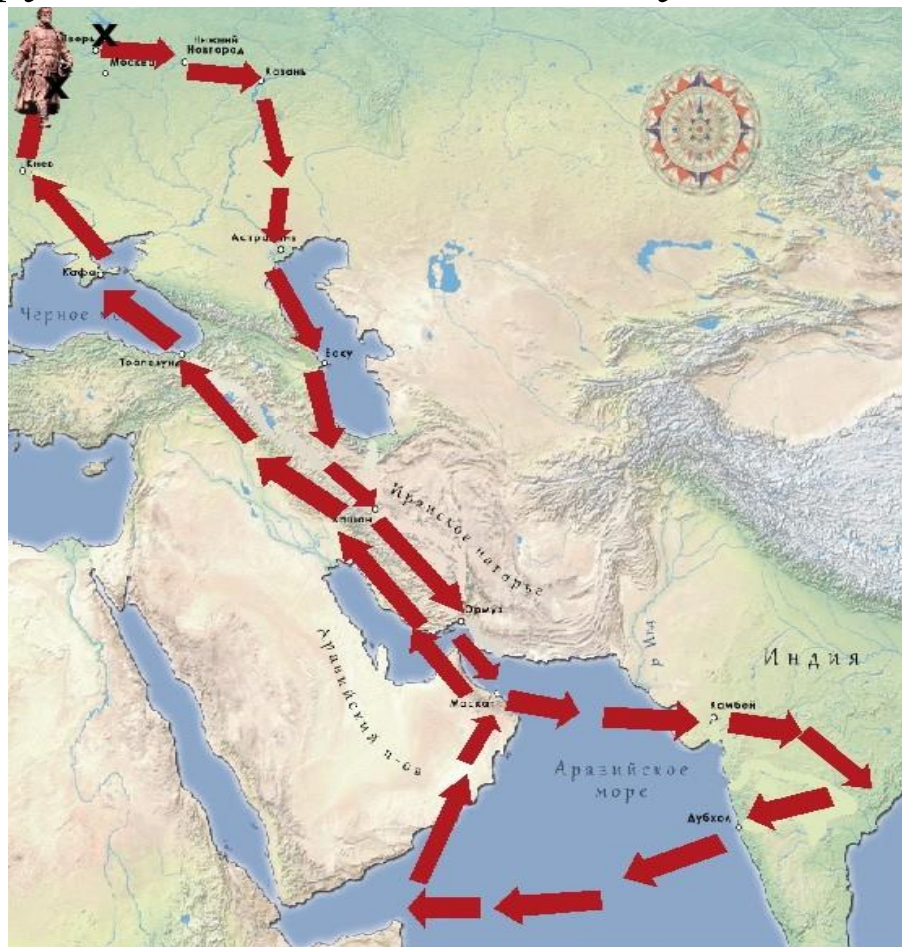
The lake in the images was formed by which of the following processes?



- A. glaciation
- B. a massive earthquake
- C. the construction of a dam
- D. a volcanic eruption
- E. no correct answer

ВОПРОС № 27

Маршрут экспедиции какого путешественника показан на рисунке?



X Начало путешествия

X Место гибели

↑ Маршрут

Казань

● Города

А. Васко да Гама
D. А.Никитина

В. Марко Поло
E. С.Дежнева

С. Ибн Батута

QUESTION № 28

Based on the information in climate graph, which biome is typical of a climate like Dodoma's?

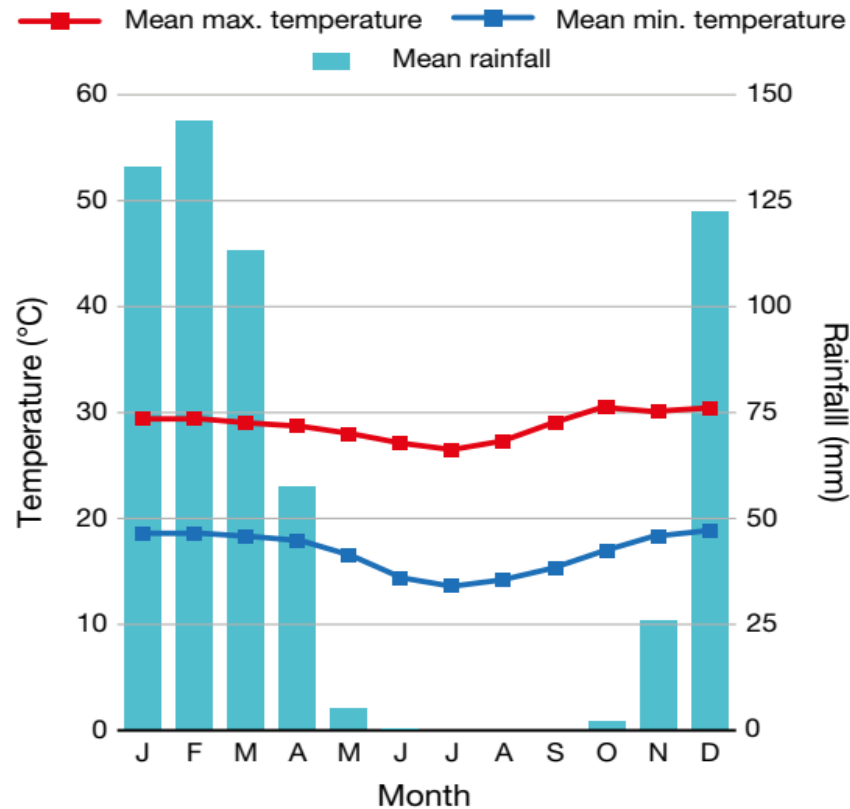


Figure 6. Climate graph, Dodoma, Tanzania (6°10'S, 35°44'E) Data source: World Meteorological Organization

- A. desert B. savannah C. tropical rainforest D. taiga E. tundra

ВОПРОС № 29

Определите народность по описанию.



Численность этой народности 5 млн. человек. Религия – христианство, традиционные верования. Основное занятие – скотоводство. Проживают в следующих странах:



А. нилоты В. фанг С. тсвана Д. йоруба Е. фульбе

ВОПРОС № 30

На территории Республики Казахстан можно разместить ...



QUESTION № 31

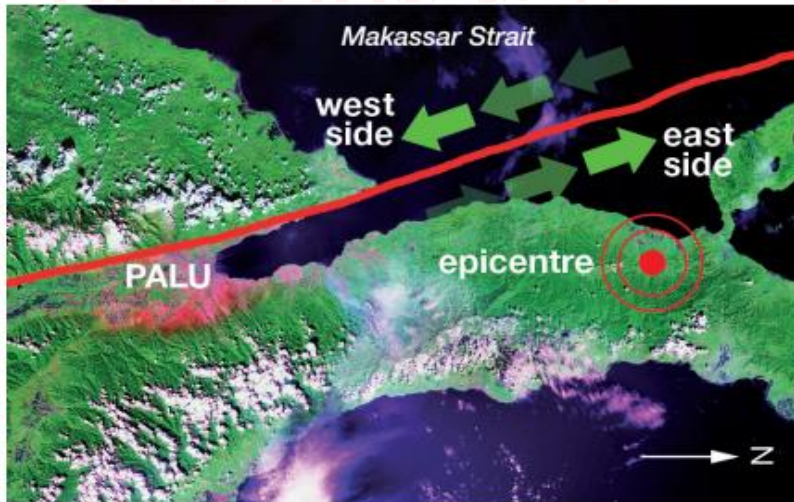


Figure 12. Palu-Koro plate boundary fault, Sulawesi, Indonesia Source: © USGS, LANDSAT Mosaic and © Government of Republic of Indonesia, Public Domain

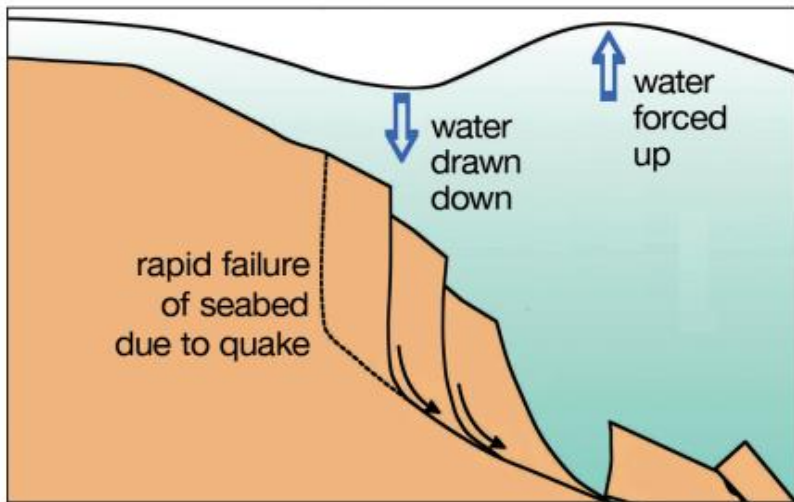


Figure 13. Diagram of the cause of the Palu tsunami on 28 September 2018, Indonesia Source: © Brian Ricketts www.geological-digressions.com CC BY 4.0 International

Using Figures 12 and 13, what caused the tsunami that affected city Palu in Sulawesi, Indonesia?

- A. The east side of the fault was forced under the west side, displacing sea water.
- B. The two sides of the fault moved away from each other, causing an earthquake
- C. The two sides of the fault slid past each other, resulting in an underwater landslide
- D. The two tectonic plates collided, folding the bedrock
- E. The vertical motion of the east plate over the west plate forced sea water up.

ВОПРОС № 32

Представьте, что вы пересекаете Южную Америку с запада на восток. В таблице представлено изменение температуры воздуха и осадков по вашему маршруту. По какой широте вы движетесь?

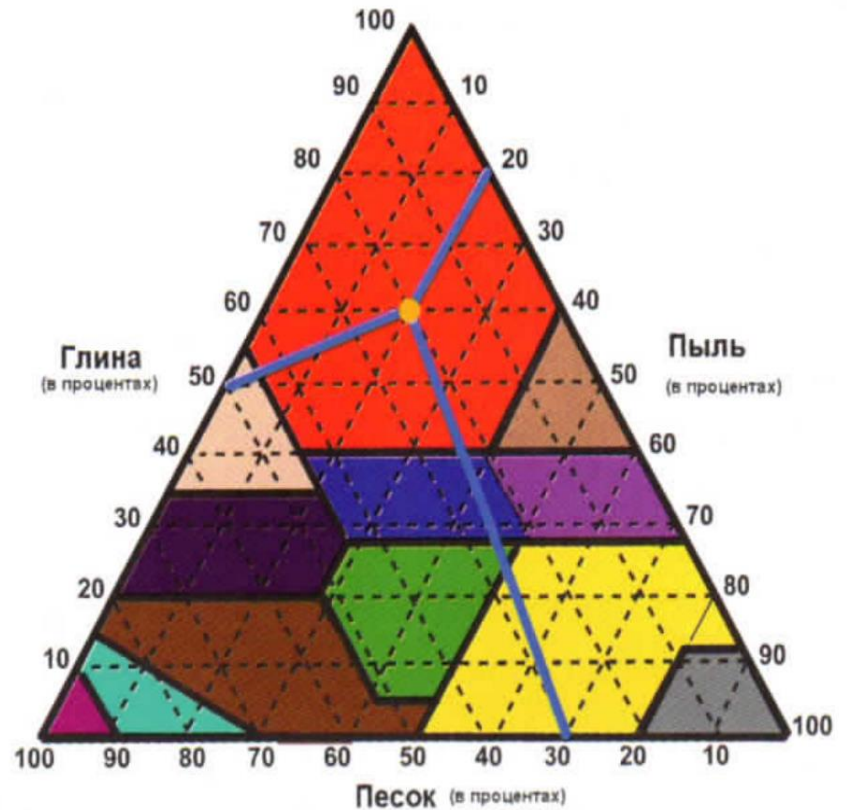
А. 20° ю.ш. В. 5° с.ш. С. 40° ю.ш. D. 0° ш. Е. 30° с.ш.

Долгота	70° з.д.	60° з.д.	50° з.д.	40° з.д.
Среднегодовая температура $^{\circ}\text{C}$	+18	+25	+24	+24
Среднегодовое количество осадков, мм	2	777	1304	1281

ВОПРОС № 33

Назовите грунт, состоящий из 30% глинистых, 40% - из песчаных и 70% - из пылеватых частиц?

- А. глина песчаная
- В. суглинистый песок
- С. пылеватая глина
- Д. глинистый суглинок
- Е. супесчаный суглинок



QUESTION № 34

Table 2. World's most liveable cities, 2016, based on liveability index¹ Source: Economist Intelligence Unit (EIU)

2016 rank ²	City	2015 rank
1	Melbourne, Australia	1
2	Vienna, Austria	2
3	Vancouver, Canada	3
4	Toronto, Canada	4
=5	Calgary, Canada	=5
=5	Adelaide, Australia	=5
7	Perth, Australia	8
8	Auckland, New Zealand	9
9	Helsinki, Finland	=10
10	Hamburg, Germany	13
11	Sydney, Australia	7

¹ The liveability index uses 30 factors spread across 5 categories: stability, healthcare, culture & environment, education, and infrastructure.

² 1 = most liveable


According to EIU's rankings in Table 2, which of these cities became less liveable between 2015 and 2016?

- A. Auckland B. Hamburg C. Helsinki D. Perth E. Sydney

ВОПРОС № 35

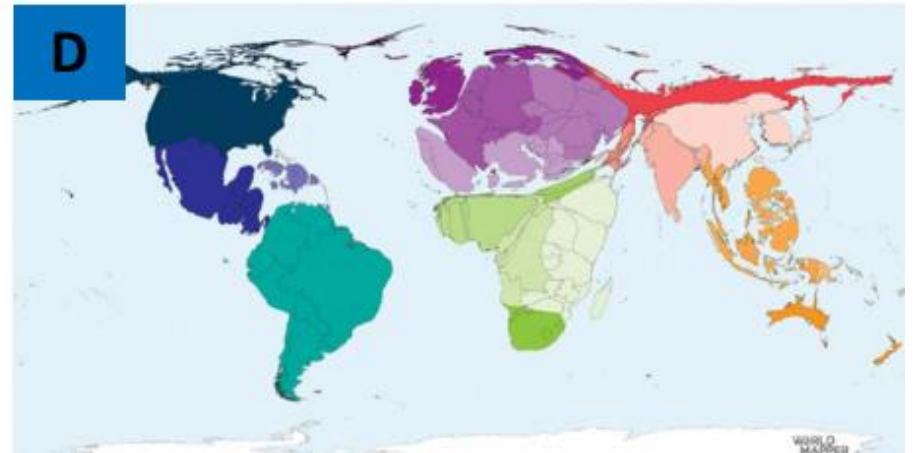
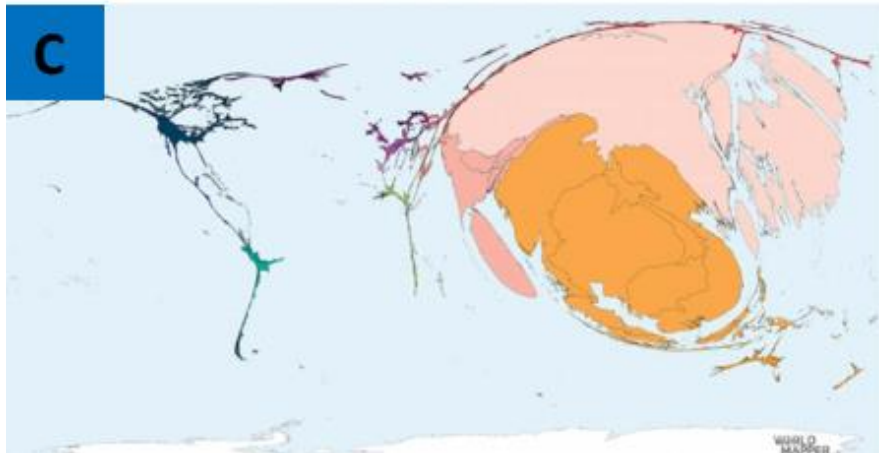
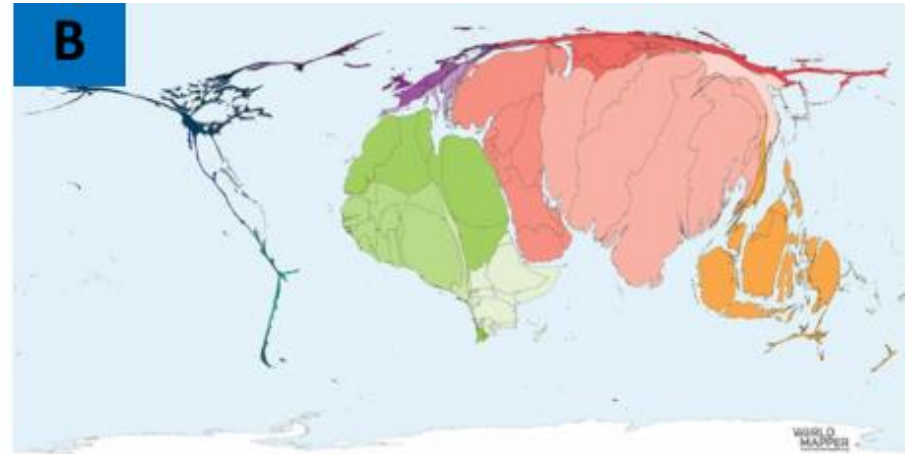
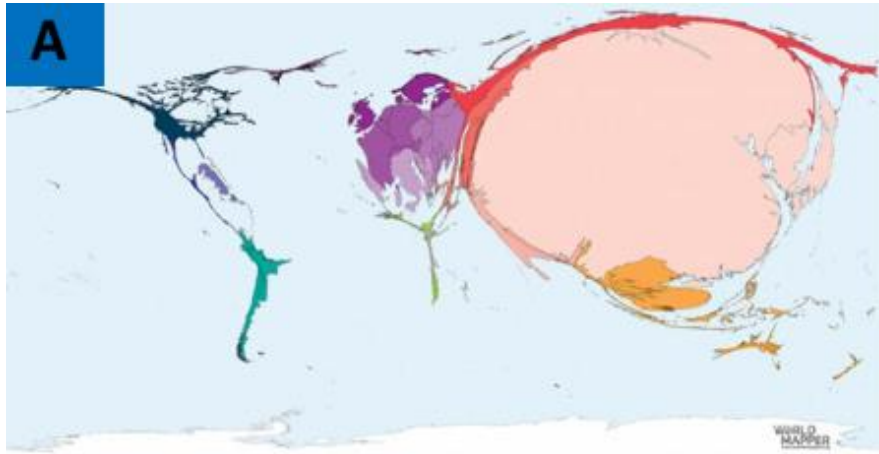
В какой стране расположены знаменитые каменные шары, не менее трёх сотен которых сохранилось в устье реки Диквис?

- А. Индонезия
- В. Папуа-Новая Гвинея
- С. Фиджи
- Д. Вануату
- Е. Коста-Рика



QUESTION № 36

These maps of religious population are in alphabetic order: atheist, buddhist, christian and muslim. Which map shows the atheist (non-religious) population?



- A. Map A B. Map B C. Map C D. Map D E. no correct answer

ВОПРОС № 37

Самая крупная песчаная пустыня Центральной Азии. В пределах Казахстана находится только ее северная часть. Сложен песчаными эоловыми и частично аллювиальными отложениями палеогена. Поверхность состоит из песчаных барханов, бугров и гряд, чередующихся с широкими сухими руслами и площадками.



А. Пески Нарын В. Каракум С. Мойынкум D. Кызылкум Е. Сарыесик-Атырау

QUESTION № 38

Evaporation ponds of a potassium mine. What is causing the intense blue color?



- A. added dye to speed up evaporation B. bacteria growing in strong acidic waters
C. pesticides to stop pests D. specific reflection of potassium-salts crystals
E. all answers are correct

ВОПРОС № 39

На круговой диаграмме вы видите долю протяженности границ Казахстана с 5-ю соседними странами в км. Определите нашего соседа, обозначенного красным цветом.



А. Россия В. Кыргызстан С. Узбекистан D. КНР Е. Туркменистан

QUESTION № 40

Which of the following concepts does not directly relate to this picture?



- A. earth rotation B. latitude C. longitude D. time zone E. no correct answer

Тест завершен!

