

**РЕСПУБЛИКАНСКАЯ ОЛИМПИАДА ПО ГЕОГРАФИИ 2019 г.
ЗАДАНИЯ ПИСЬМЕННОГО ТУРА
11 КЛАСС**

ЗАДАНИЕ 1.

1) Вам даны схемы крупных речных бассейнов. Определите куда впадают реки, а также укажите названия рек, обозначенных вопросительным знаком.

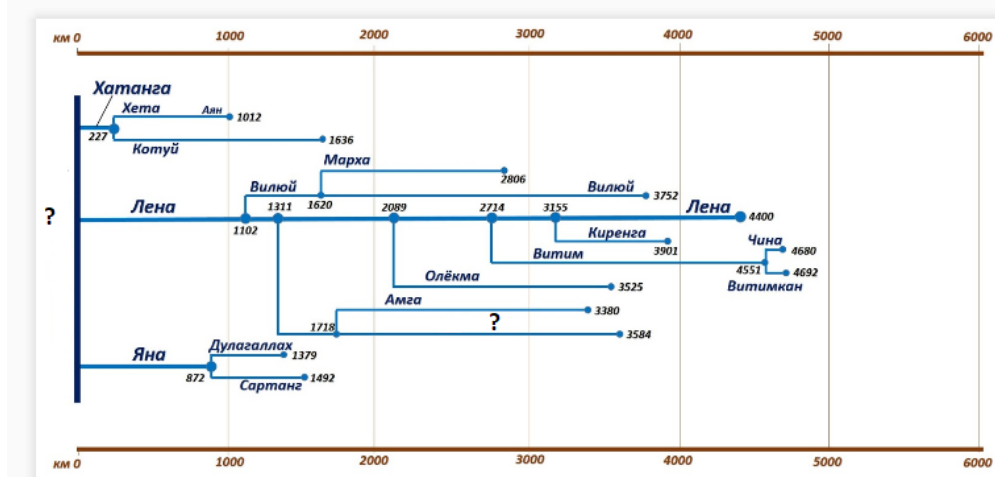


Рисунок 1.

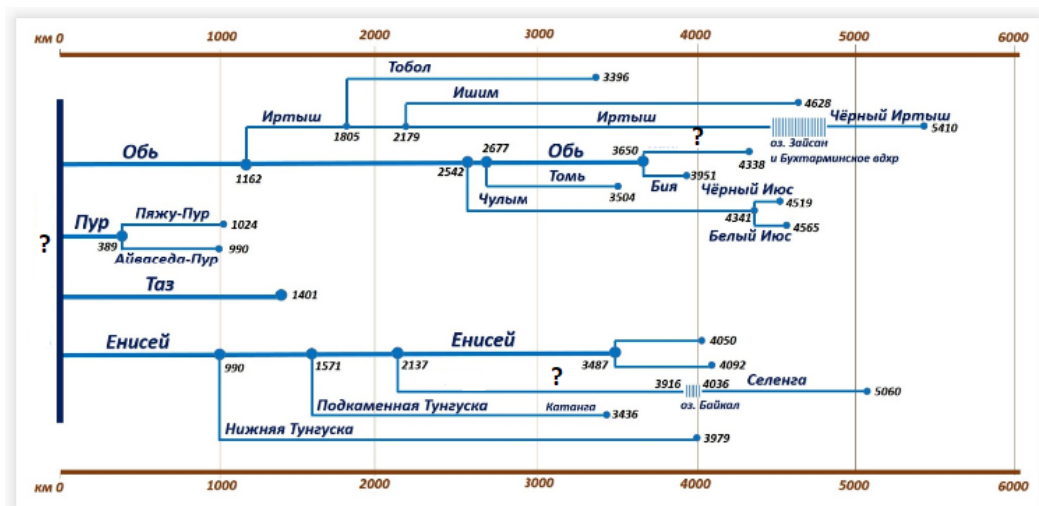


Рисунок 2.

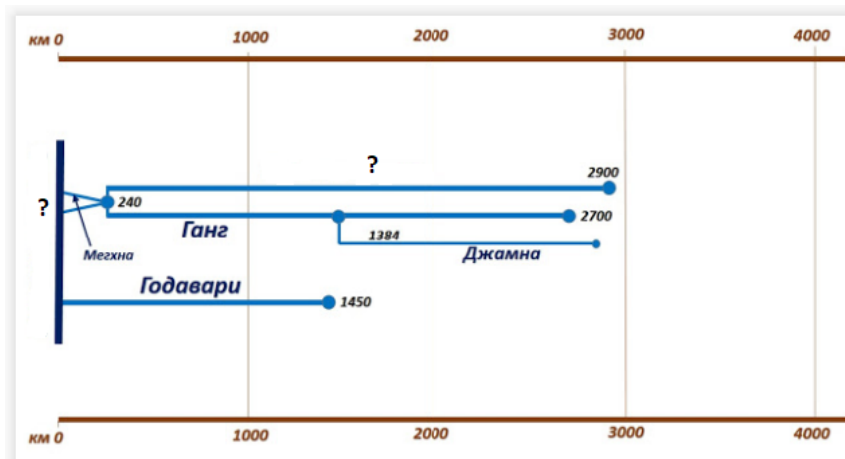


Рисунок 3.

2) По контуру крупных озер мира определите названия озер, обозначенных цифрами 1-7?

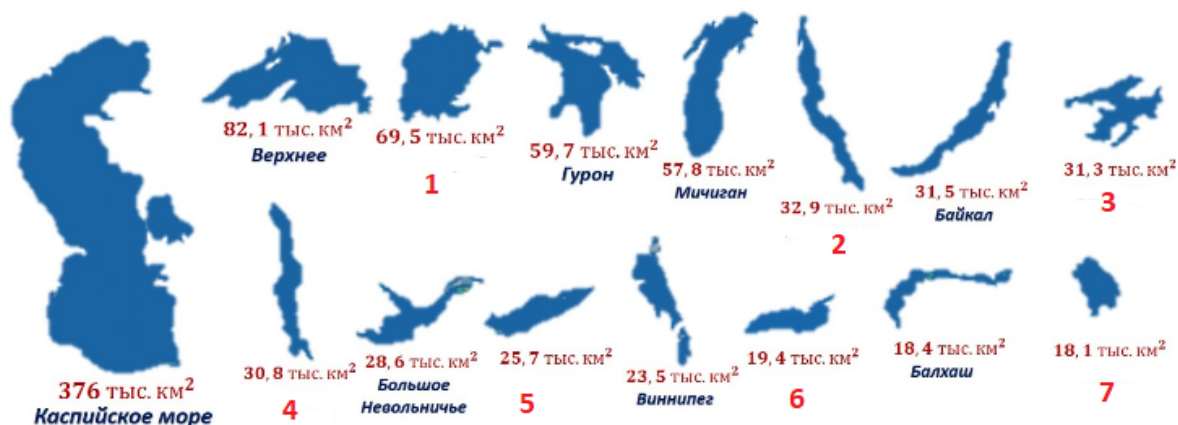


Рисунок 4 – Контурсы крупнейших озер мира

Критерии оценки: за каждый правильный ответ – по 0,5 балла. **Итого: 7 баллов.**

ЗАДАНИЕ 2.

По ниже приведенному описанию укажите названия вулканов, а также страны их расположения.

№ п/п	Название вулкана	Описание	Страна расположения
1	Вторая по высоте вершина и самый высокий действующий вулкан страны. Входит в число самых высоких активных вулканов планеты. На языке кечуа название вулкана означает «блестящая гора» или, по другой версии, «дымящаяся гора».
2	Действующий щитовой вулкан высотой 4169 метров в виде плосковершинной возвышенности неправильной, вытянутой формы с пологими склонами. На вершине расположена вытянутая гигантская кальдера. Относится к группе мегавулканов, по объёму и площади подошвы.
3	Вулкан постоянно активен и знаменит частыми маленькими извержениями, наблюдаемыми из разных точек острова и окружающего моря. Высота вулкана 926 м над уровнем моря, имеет 3 активных кратера. На северо-западном склоне находится «поток огня» — подковообразное углубление, вызванное многократными обрушениями конуса за последние 13 тыс. лет.
4	До извержения 1883 года вулкан был значительно выше и представлял собой один большой остров. Однако мощнейшее извержение разрушило остров и вулкан. На месте разрушенного вулкана появился новый вулкан, высота которого на сегодня составляет около 813 м при диаметре около 3-4 км.
5	С виду гигант конической формы, которая формируется на протяжении многих лет и увеличивается после каждого своего извержения, тем самым создавая слоистый вулкан. Сложен лавовыми потоками и обломочными отложениями. Его склоны достаточно крутые, примерно

		33 градуса. Вершина вулкана покрыта льдом.	
6	Находится на юге страны в 65 км от города и столицы. Девять спящих и активных пиков в этой области не дают забыть жителям, что они в буквальном смысле «живут на вулкане», Вершину (от уровня в 4560 м и выше) горы покрывают вечные снега и ледники (хотя их количество с 2001 г заметно сократилось).
7	С 874 года извергался более 20 раз и считается наиболее активным вулканом страны. В средневековье его называли «Ворота в ад». Это часть вулканического горного хребта протяжённостью 40 километров. Однако самой активной частью этого хребта является трещина протяжённостью 5,5 километра.
8	Активный вулкан, также известен под названием Фако, местные жители вулкан называют Монго ма Ндеми. Высота вулкана составляет 4040 метров. Склоны в нижней части горы покрыты тропическими лесами, а ближе к вершине представляют собой голые и пустынные откосы, частично запорошенные снегом.

Критерии оценки: за каждое верное указание название вулканов – по 1 баллу (8 баллов); за верное указание стран расположения – по 0,5 баллов (4 баллов). **Итого: 12 баллов.**

ЗАДАНИЕ 3.

Ответьте на вопросы по тематике «Транспорт Казахстана»:

1. Какова протяженность железных дорог в Казахстане?
2. Назовите начальную и конечную пункты транспортного коридора Западная Европа – Западный Китай?
3. Крупнейшая авиакомпания страны - Air Astana является совместным предприятием каких предприятий?
4. Назовите вид транспорта, на которая находится на 3 месте по количеству перевозимых грузов и на 2 месте по грузообороту?
5. Как называется программа международного сотрудничества между Европейским союзом и странами-партнёрами по организации транспортного коридора «Европа — Кавказ — Азия»?
6. В 1950 г. Транссибирская магистраль соединилась с Туркестано-Сибирской и образовалась Трансказахстанская железнодорожная магистраль. Назовите участки магистрали?
7. Какие страны подписали Соглашение о формировании Транспортного союза от 22 января 1998 года?
8. Казахская авиакомпания, основанная в 1999 году, базируется в аэропорту города Уральск, занимает второе место в Республике Казахстан по внутренним перевозкам
9. Какова доля транспортно-коммуникационного комплекса Казахстана в ВВП страны?

Критерии оценки: за каждый верный ответ по 1 баллу **Итого: 9 баллов.**

ЗАДАНИЕ 4.

Рассмотрите представленные ниже снимки различных антропогенных объектов. Определите эти объекты.




Космоснимок 1.



Космоснимок 2.



Космоснимок 3.



Космоснимок 4.



Космоснимок 5.



Космоснимок 6.

Критерии оценки: за определение объектов – по 2 балла.. **Итого: 12 баллов.**

ЗАДАНИЕ 5.

Определите, в каких странах находятся административные единицы, к какой языковой группе относится преобладающий язык, на котором говорят их жители. Ответы предоставьте в виде таблицы.

Административная единица	Страна, столица	Преобладающий язык	Языковая группа
Лацио			
Люблинское воеводство			
Сычуань			
Рейнланд-Пфальц			
Юкон			
Западная Фландрия			
Жиронда			
Македония – Фракия			
Мадейра			
Уусимаа			

Критерии оценки: по 0,5 балла за правильный ответ страны и столицы, по 0,25 балла за правильный ответ преобладающего языка и языковой группы. В случае, если страна указывается неправильно, баллы за преобладающий язык и языковую группу не добавляются. **Итого: 10 баллов.**

ВСЕГО: 50 БАЛЛОВ

ЗАДАНИЯ ЗАВЕРШЕНЫ!