

**РЕСПУБЛИКАНСКАЯ ОЛИМПИАДА ПО ГЕОГРАФИИ 2019 г.  
ЗАДАНИЯ ПИСЬМЕННОГО ТУРА  
10 КЛАСС**

**ЗАДАНИЕ 1.**

- 1) Вам даны схемы крупных речных бассейнов. Определите куда впадают реки, а также укажите названия рек, обозначенных вопросительным знаком.

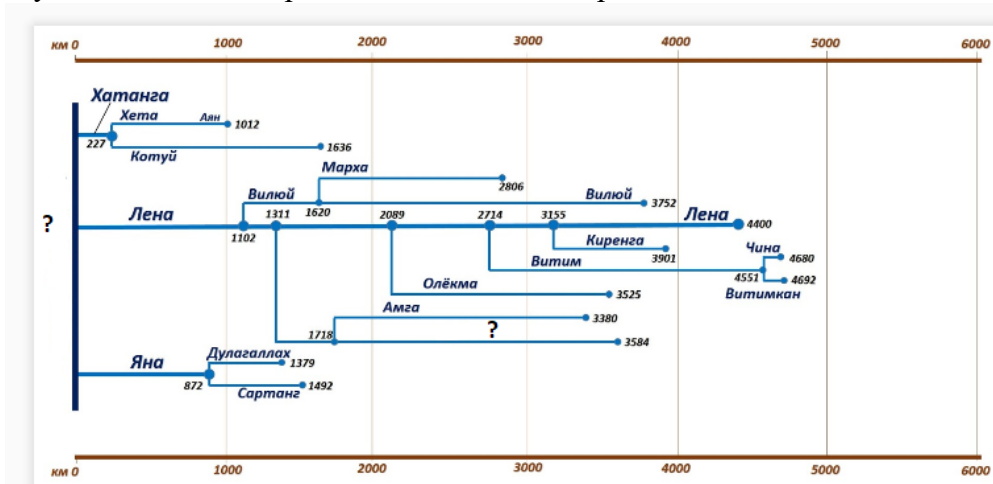


Рисунок 1.

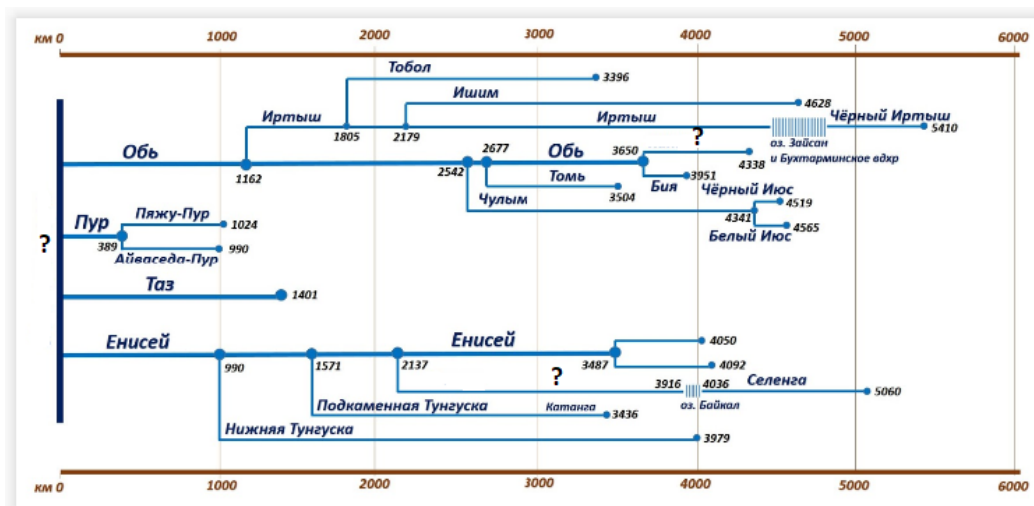


Рисунок 2.

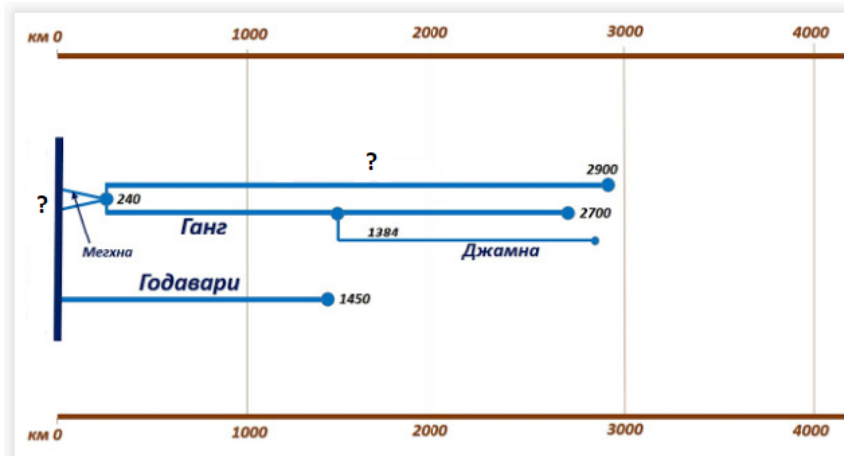


Рисунок 3.

2) По контуру крупных озер мира определите названия озер, обозначенных цифрами 1-7?

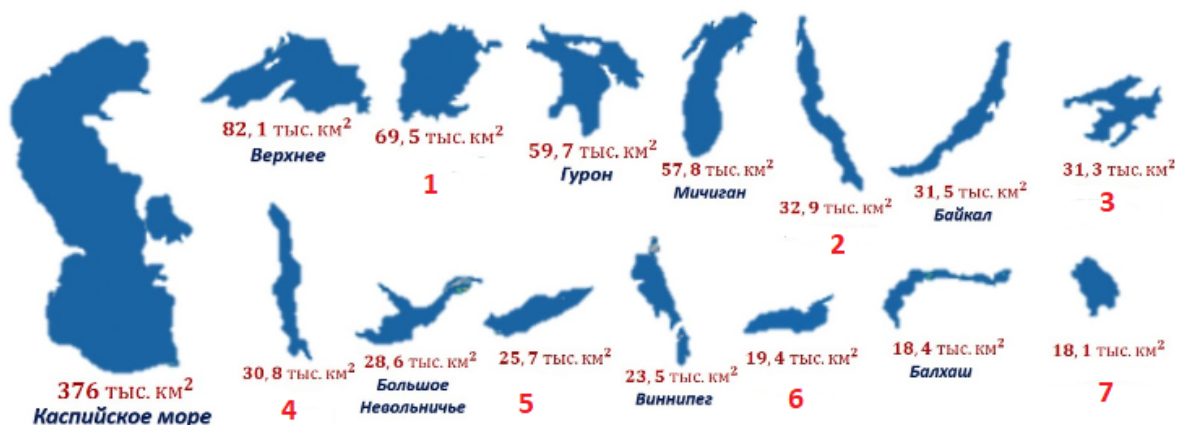


Рисунок 4 – Контуры крупнейших озер мира

**Критерии оценки:** за каждый правильный ответ – по 0,5 балла. **Итого: 7 баллов.**

### ЗАДАНИЕ 2.

Одним из ключевых показателей экономического развития является Валовой национальный доход — Валовой внутренний продукт (ВВП), плюс доходы, полученные гражданами страны из-за рубежа, минус доходы, вывезенные из страны иностранцами. На графике (рисунок 2) показаны значения уровня урбанизации и размера Валового национального дохода на душу населения для четырёх стран Юго-Восточной Азии на 2015 г.

Определите эти страны и ответьте на дополнительные вопросы.

1) Какими причинами можно объяснить заметное отставание Страны 1 от Страны 2 по уровню экономического развития, хотя численность населения в этих двух странах примерно одинакова? Назовите не более трёх причин.

2) Какими причинами объясняется столь высокий уровень экономического развития Страны 4? Назовите не более трёх причин.

3) Назовите один из крупнейших городов четырёх стран, который отличается наименьшими темпами роста населения. С чем это связано? Назовите не более трёх причин.

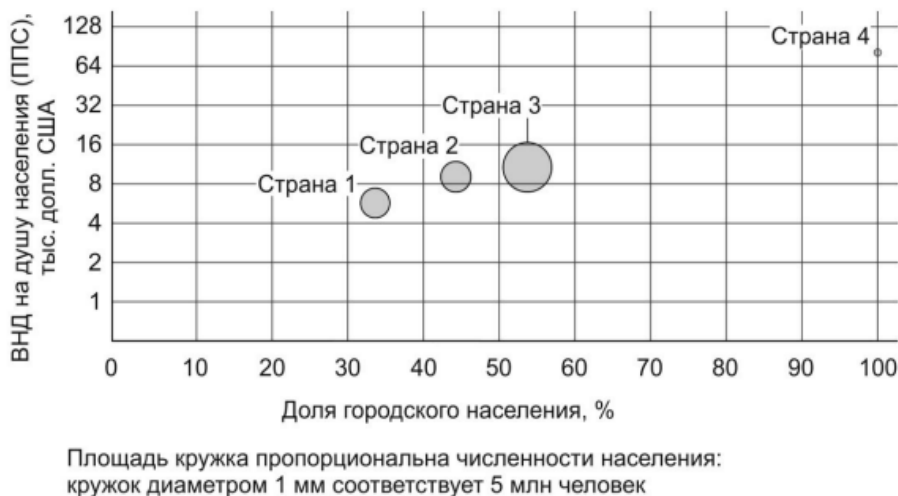


Рисунок 2.

Уровень урбанизации и Валовой национальный доход (ВНД) на душу населения по покупательной способности валют (ППС) в четырех странах Юго – Восточной Азии, 2015 г. (шкала Ув логарифмическом масштабе).

**Критерии оценки:** за каждое правильное определение страны – по 1 баллу. (4 балла);  
За каждый верный ответ на дополнительные вопросы по 1 баллу. (9 баллов); **Итого: 13 баллов.**

### ЗАДАНИЕ 3.

Всего в горах республики насчитывается 2724 ледника общей площадью оледенения 2033 км<sup>2</sup>. Заполните таблицу по ледникам Казахстана по приведенным данным.

Ледник	Расположение, бассейн реки	Высота над уровнем моря, м	Площадь, км <sup>2</sup>	Длина, м	Объем льда, км <sup>3</sup>
1. ...	Заилийский Алатау, басс. р. Чилик	3370	17,7	8,9	2,01
2 ....	Заилийский Алатау, басс. р. Талгар	3420	30,3	9,1	4,50
3. ...	Жунгарский Алатау, басс. р. Лепсы	2850	16,7	8	1,83
4. ...	Терской Алатау, басс. р. Текес	3491	28,1	9,1	4,02
5. ...	Жунгарский Алатау, басс. р. Чижин	2720	13,6	8,6	1,38
6. ...	Заилийский Алатау, басс. р. Талгар	3370	10,8	4,7	0,96
7. ...	Жунгарский Алатау, басс. р. Баскан	2830	13,2	10,9	1,1
8. ...	Жунгарский Алатау, басс. р. Баскан	3120	11,2	6	1,01
9. ...	Жунгарский Алатау, басс. р. Тентек	3000	9,5	6,2	0,6

**Критерии оценки:** за каждый правильный ответ – по 1 баллу. **Итого: 9 баллов.**

#### ЗАДАНИЕ 4.

Определите, чьи логотипы изображены и какую продукцию производят эти компании. Назовите: Компанию, страну и какую продукцию производит.



**Критерии оценки:** за каждое верное указание названий компаний, страны и за продукцию по 0,5 баллов. **Итого: 9 баллов.**

#### ЗАДАНИЕ 5.

Ответьте на вопросы по тематике «Города мира»

1. Этот иностранный город назван в честь сына Даниила Галицкого князя Льва Даниловича.
2. Этот город по праву зовется жемчужиной Пиренейского полуострова. Здесь располагаются: «Порт-Аventura» - европейский вариант Диснейленда, 60-метровый памятник Христофору Колумбу, церковь Саграда Фамилья – одна из самых грандиозных католических церквей мира. В городе проходили XXV летние олимпийские игры.
3. Это крупный единственный город, название которого взято из языка аборигенов – "место встречи". Он расположен в живописной котловине среди холмов, поросших эвкалиптовыми лесами. Это место было выбрано специально для строительства столицы, которое началось в 1913 году.
4. Этот город расположен на том месте, где река Ванда впадает в Финский залив. В городе много необычного. Причальная стенка порта подходит к самому центру города, к Торговой площади, находящейся рядом с президентским дворцом. К Торговой площади швартуются и рыбацьи суда, ежедневно по утрам привозящие в Хельсинки свежую рыбу.
5. Этот город является столицей африканского государства, где зимой на всей территории лежит снег.
6. У островного города-государства Юго-Восточной Азии было множество имён на протяжении долгой истории: "Королева Востока", "Неприступная крепость",

"Азиатская Венеция", "Цитадель Востока". Само имя этого города переводится как "Город льва".

7. Этот город-миллионер на кельтском языке называется Бале-Аха-Клиах (Город над черной водой). В городе находится собор Сент-Патрик, построенный в 12-14 вв. Его деканом был Джонатан Свифт, автор «Путешествия Гулливера»
8. На Зелёном мысе у синих вод Атлантического океана раскинулся этот белоснежный город. Его название означает "тамариндовое дерево", символизирующее благополучие и могущество. Его часто называют "Воротами Африки". Этим город обязан своему аэродрому, откуда перед "прыжком" через океан набирают силы самолеты многочисленных международных авиакомпаний.

*Критерии оценки: за каждый верный ответ на вопросы по 1,5 балла. Итого: 12 баллов.*

**ВСЕГО: 50 БАЛЛОВ**

**ЗАДАНИЯ ЗАВЕРШЕНЫ!**

