

# МУЛЬТИМЕДИЙНЫЙ ТУР

---

Республиканской предметной олимпиады по географии,  
г. Актобе, 15-20 марта 2019 г.



# ПРАВИЛА МУЛЬТИМЕДИЙНОГО ТУРА

- ✘ Мультимедийный тур состоит из 30 вопросов.
- ✘ На каждый вопрос дается 5 вариантов ответов, только один из них правильный.
- ✘ 10 вопросов тестов составлены на английском языке.
- ✘ Вникайте в каждый вопрос внимательно.
- ✘ На каждый вопрос дается 1,5 минуты.
- ✘ За каждый правильный ответ – 1 балл.
- ✘ В листах ответов обведите правильный ответ кружком, если вы сделали ошибку, зачеркните ответ и обведите кружком правильный новый ответ по вашему мнению.

**УДАЧИ!!!**

---



# ВОПРОС № 1

Назовите вид литосферного движения под обозначением **D**?

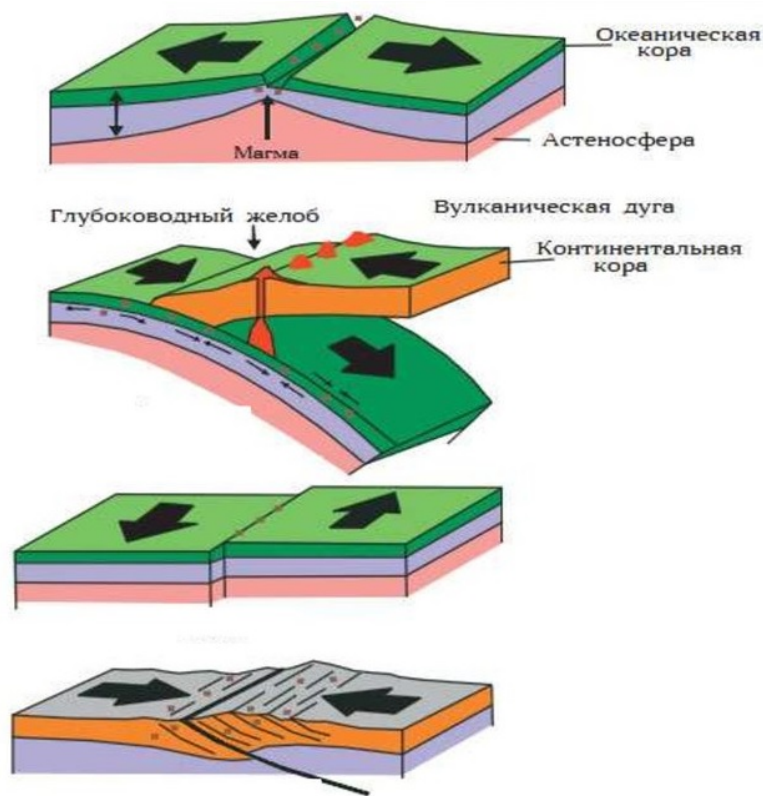
A. субдукция

B. коллизия

C. спрединг

D. сдвиг

E. рифтинг



A

B

C

D



## ВОПРОС № 2

Какой вид облаков показан на рисунке?


**А. слоистые**

**В. высоко-кучевые**

**С. кучево-дождевые**

**Д. перисто-кучевые**

**Е. высоко-слоистые**



## QUESTION № 3

---

What lake is indicated in the circle?

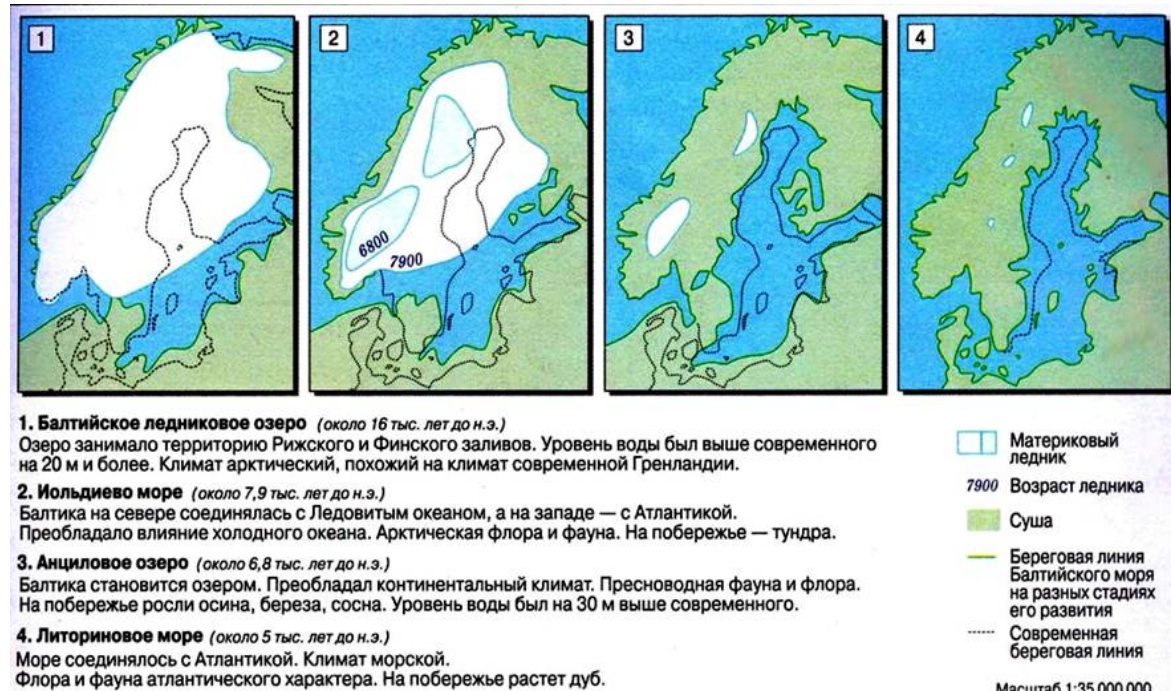
- A. Michigan,
- B. Huron
- C. Superior
- D. Ontario
- E. Erie



# ВОПРОС № 4

Как называется процесс изменения уровня Балтийского моря с древности до современного состояния, показанный на рисунке:

- А. трансгрессия
- В. регрессия
- С. гляциоизостазия
- Д. экзарация
- Е. абразия





## ВОПРОС № 5

Какая литосферная плита, обозначена цифрой **6** на рисунке?

А. Скотия

В. Кокос

С. Винсон

Д. Наска

Е. Дрейка



# QUESTION № 6

All images show the effect on rainforest of?

- A. cacao plants    B. oil palms    C. orange trees  
D. Rubber trees    E. bamboo





# ВОПРОС № 7

Какая форма залегания горных пород показана на рисунках?

А. антиклиналь

В. синклиналь

С. геосинклиналь

Д. антиклинорий

Е. синклинорий



# ВОПРОС № 8

Для какой страны характерны достопримечательности?

А. Ангола

В. Камерун

С. Кения

Д. Мадагаскар

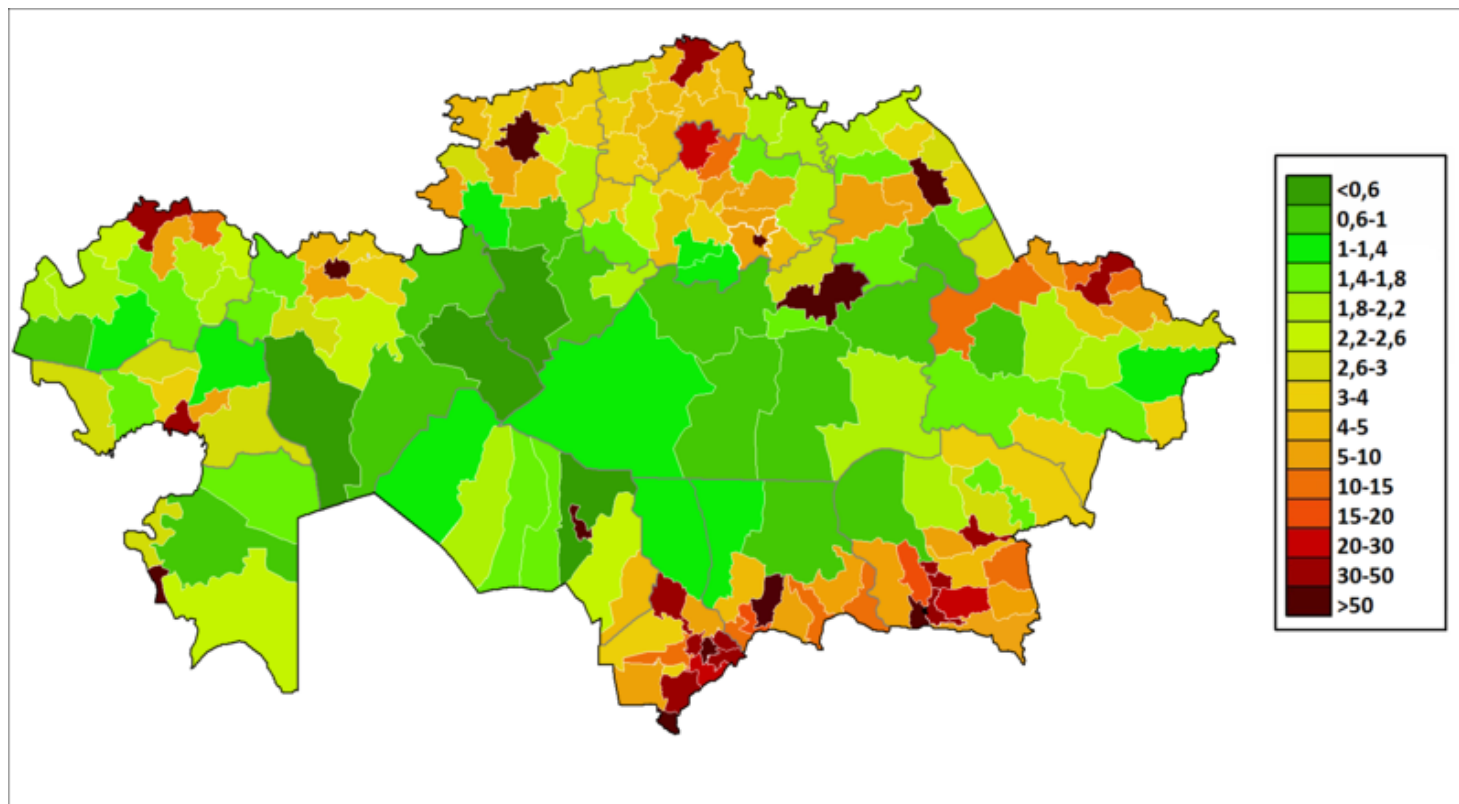
Е. Намибия



# QUESTION № 9

What indicator is shown in the Figure?

- A. death rate      B. fertility rate      C. population density  
D. environmental pollution      E. infant mortality





## ВОПРОС № 10

Какой тип возрастной структуры обозначен под номером 2?

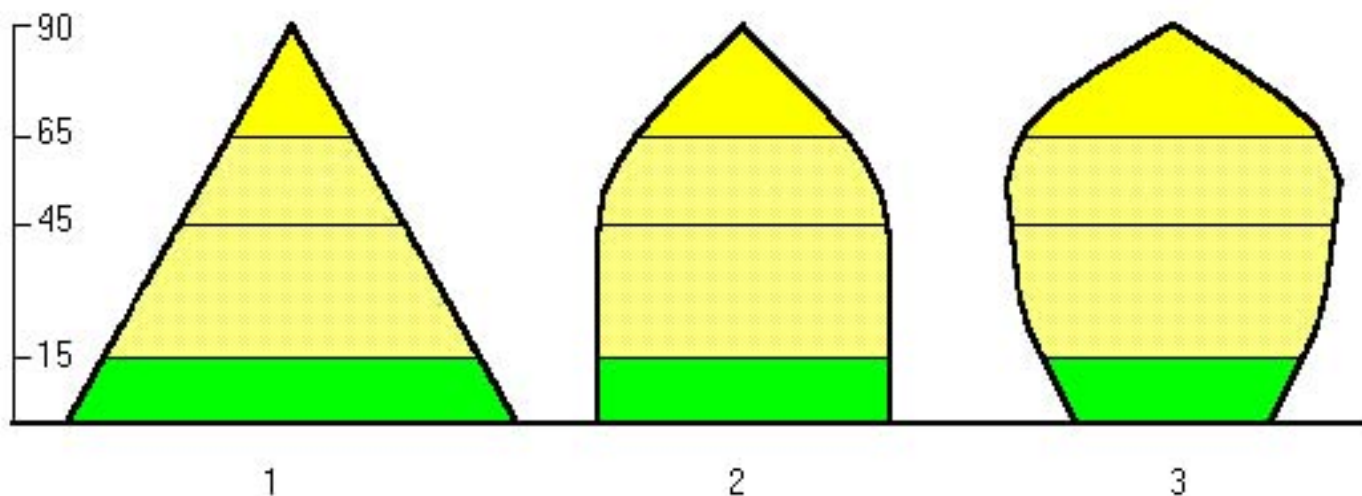
А. прогрессивный

В. депрессивный

С. регрессивный

Д. стационарный


Е. прямой



# ВОПРОС № 11

Для какой области характерны достопримечательности?

- А. Алматинская      В. Кызылординская  
С. Мангистауская      Д. Жамбылская  
Е. Южно-Казахстанская





# QUESTION № 12

Which city is shown on the map?

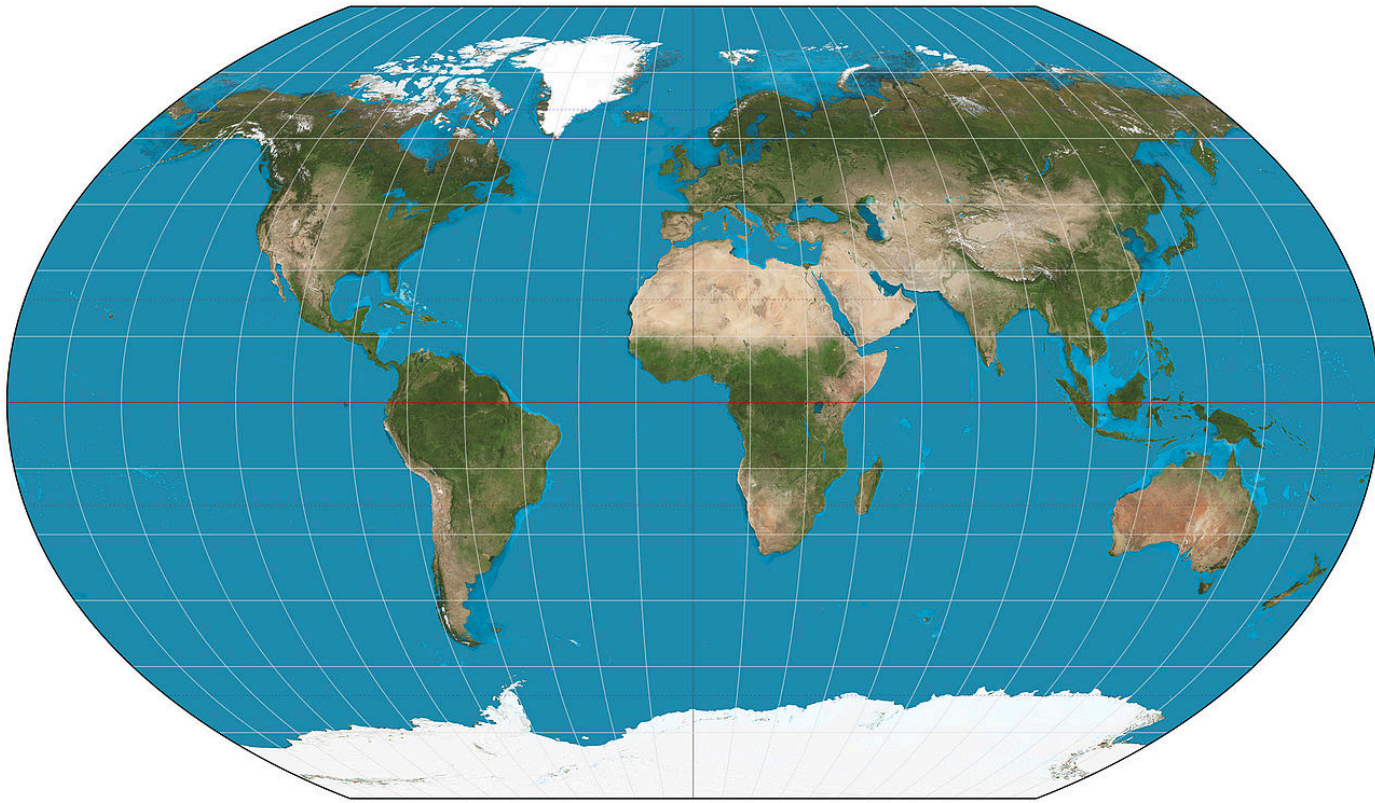
- A. Quebec
- B. Ottawa
- C. Toronto
- D. Vancouver
- E. Montreal



## ВОПРОС № 13

Какой вид проекции показан на рисунке?

- А. цилиндрическая      В. псевдоцилиндрическая  
С. поликоническая      Д. произвольная  
Е. псевдоазимутальная



## ВОПРОС № 14

Пользуясь данным и таблицы, определите, в каком климатическом поясе находится пункт, каков его тип климата:

- A. умеренный пояс – морской
- B. тропический пояс – континентальный
- C. умеренный пояс – муссонный
- D. субтропический пояс – средиземноморский
- E. экваториальный пояс – экваториальный

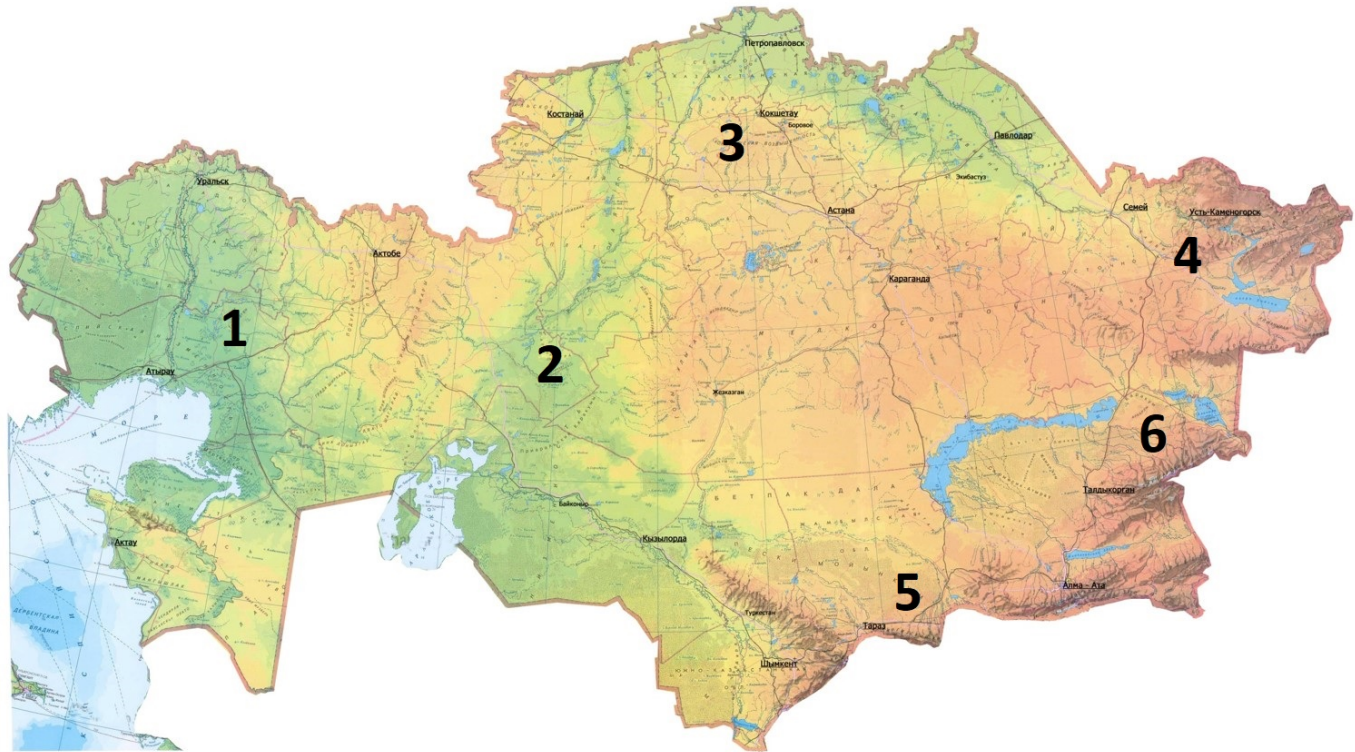
месяц/ признаки	I	II	III	IV	V	VI	VII	VIII	IX	X	XI	XII	Год
t °C	-23.1	-17.4	-8.8	2.8	10.9	16.7	20.2	19.6	13.6	4.2	-8.3	-19.4	0.9
осадки	5	5	7	24	65	120	140	130	49	34	15	8	602



# QUESTION № 15

Which river is shown on the map at number 5?

- A. Irgiz
- B. Tobol
- C. Schiderty
- D. Nura
- E. Talas



## ВОПРОС № 16

Назовите столицу выделенной страны Африки?

- А. Бамако
- В. Габороне
- С. Конакри
- Д. Хартум
- Е. Дакар



## ВОПРОС № 17

Водохранилище, расположенное в 60 км от города Актобе по руслу одноименной реки, было введено в эксплуатацию в 1975 году для нужд сельского хозяйства. Планировалось орошать не менее 17 тыс. га сельскохозяйственных угодий посредством подземного канала длиной 18,8 км.

- А. Алгинское
- В. Иргизское
- С. Каргалинское
- Д. Шалкарское
- Е. Уилское





## QUESTION № 18

Which organization is protesting against the construction of wind power plants?

- A. International Atomic Energy Agency
- B. Organization of countries - exporters of oil
- C. Global Environment Facility
- D. World Society for the Protection of Animals
- E. European Coal and Steel Community



## ВОПРОС № 19

По какому критерию объединены представленные ниже страны:

А. развитые страны

В. прибрежные страны

С. новые индустриальные страны

Д. страны с переходной экономикой

Е. монархические страны



## ВОПРОС № 20

Определите страну, где расположен антипод (точка с противоположными географическими координатами) точки с координатами  $51^{\circ}17'$  ю.ш.,  $77^{\circ}44'$  з.д.?

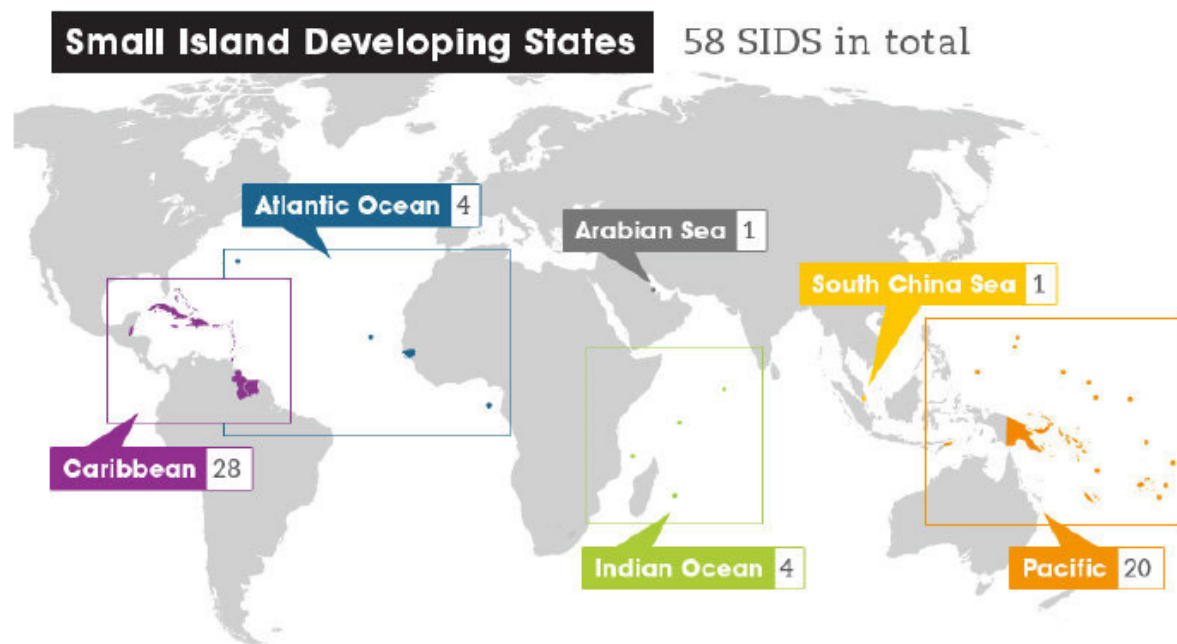
- А. Россия
- В. Казахстан
- С. Канада
- Д. Бразилия
- Е. Китай



# QUESTION № 21

Which economic sector do many small island states rely on to bring in foreign exchange income?

- A. financial services
- B. fishery
- C. mining
- D. tourism
- E. ferry operations





# ВОПРОС № 22

По рисункам определите государственный национальный парк Казахстана?

- А. Катон-Карагайский
- В. Каркаралинский
- С. Сайрам-Угамский
- Д. Баянаульский
- Е. Иле-Алатауский



## ВОПРОС № 23

Это полудрагоценный камень. Название получил по месту первой его находки на одном из островов в Красном море. Окрашенные разновидности постепенно выцветают от яркого света?

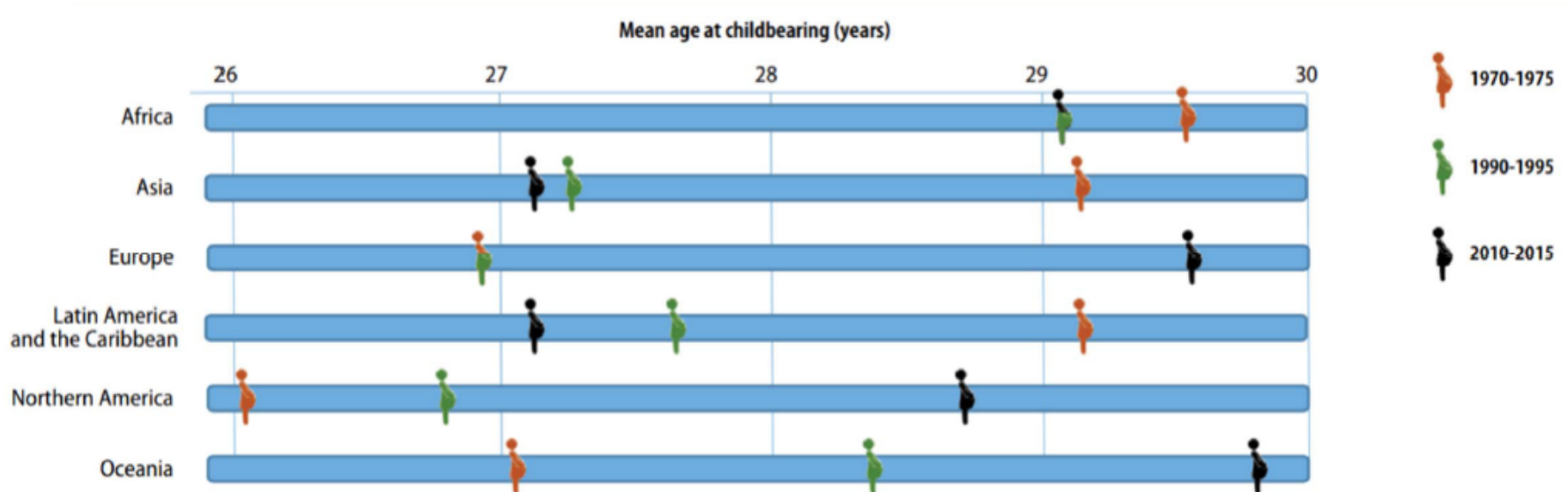
- А. Янтарь
- В. Кварц
- С. Топаз
- Д. Турмалин
- Е. Аметист



# QUESTION № 24

Which statement is correct for Latin America and the Caribbean?

- A. decreasing age at childbearing, by decline of child bearing of women at older ages
- B. decreasing age at childbearing, by postponement of childbearing
- C. increasing age at childbearing, by decline of childbearing of women at older ages
- D. increasing age at childbearing, by postponement of childbearing





## ВОПРОС № 25

Эндемики какой страны представлены на рисунках?

- А. Папуа-Новая Гвинея
- В. Соломоновы острова
- С. Новой Зеландия
- Д. Тасмания
- Е. Фиджи





## ВОПРОС № 26

Последствие какого природного явления показано на рисунках?

- А. ураган
- В. циклон
- С. наводнение
- Д. цунами
- Е. смерч

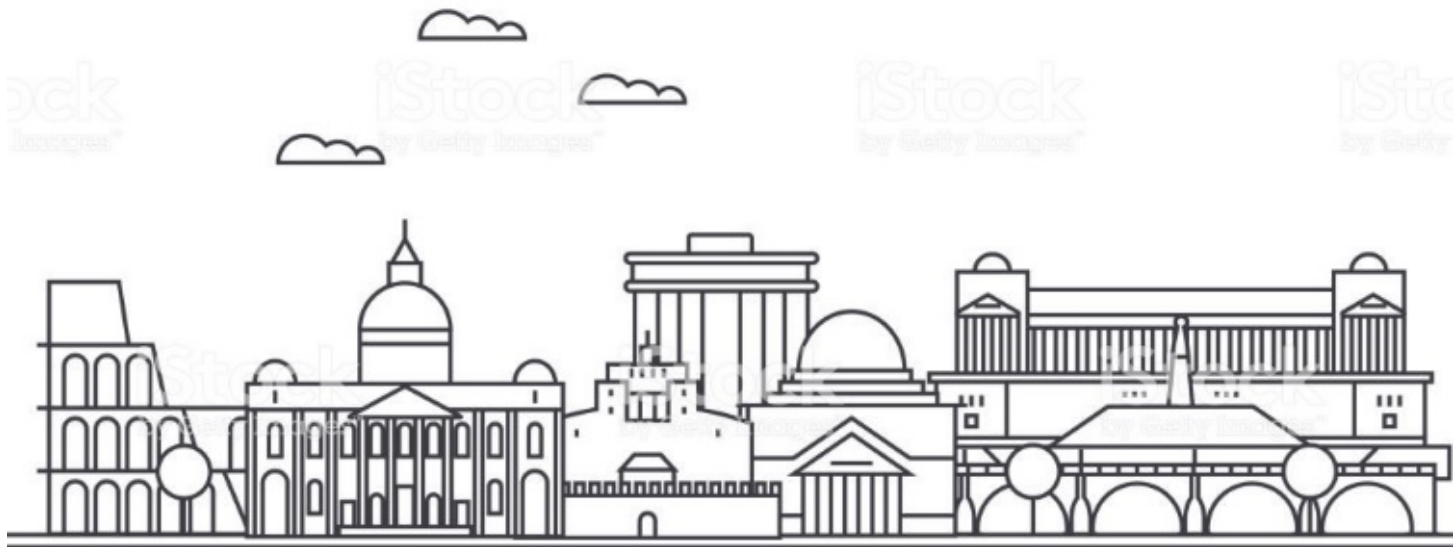


## QUESTION № 27

---

The contour of which city is shown in Figure?

- A. Madrid
- B. Amsterdam
- C. Belgrade
- D. Munich
- E. Rome





## ВОПРОС № 28

Какой путешественник проложил данный маршрут?  
А. Н. Пржевальский      В. П. Семенов Тянь-Шанский  
С. Васко да Гама      Д. Марко Поло  
Е. Плано Карпини





## ВОПРОС № 29

На топографической карте определите среднюю толщину деревьев смешанного леса?

А. 0,15      В. 1,2      С. 0,17      D. 0,61      Е. 0,26



# QUESTION № 30

Which indigenous peoples are shown in the Figures?

- A. Aymara
- B. Inuit
- C. Chamorros
- D. Tuareg
- E. Sami





---

Тест завершен!

